



ارمغان هفته - سوم دبستان

نام و نام خانوادگی: تاریخ: نام آموزگار:

ریاضی < فصل ۶: جمع و تفریق فرآیندی
 علوم < درس ۱۱: بکاربرد و بسیند
 فارسی < درس ۱۲: ایران آباد
 مطالعات اجتماعی < درس ۱۸: مدرسه دوست داشتنی ما
 هدیه‌های آسمان < درس ۱۴: خانه‌ام را دوست دارم.
 قرآن < فصل ۳: انس با قرآن-کریم (۱۰)

ریاضی

جمع و تفریق زیر را با روش فرآیندی محاسبه کنید.

| | | | |
|--|--|--|--|
| $\begin{array}{r} 4452 \\ + 2789 \\ \hline 7241 \end{array}$ | $\begin{array}{r} 6352 \\ + 2786 \\ \hline 9138 \end{array}$ | $\begin{array}{r} 8732 \\ - 2925 \\ \hline 5807 \end{array}$ | $\begin{array}{r} 7496 \\ - 3286 \\ \hline 4210 \end{array}$ |
|--|--|--|--|

۱. برنا ۷۴۰ تومان پول دارد. پول برادرش ۲۳۱ تومان از او بیش‌تر است. آن‌ها روی هم چند تومان پول دارند؟
 آن‌ها روی هم ۱۷۱۱ تومان پول دارند.

۲. حاصل جمع و تفریق‌های زیر را به صورت ذهنی به دست آورید.

- ۶۰۰۰ - ۴۰۰۰ = ۲۰۰۰
- ۴۱۰۰ + ۹۰۰ = ۵۰۰۰
- ۱۷۰۰ + ۳۰۰ = ۲۰۰۰
- ۹۰۰۰ - ۷۰۰ = ۸۰۰۰
- ۵۰۰۰ + ۲۰۰۰ = ۷۰۰۰
- ۴۰۰۰ - ۵۰۰ = ۳۵۰۰

۳. با حذف رقم یکان و دهگان و صدگان حاصل جمع و تفریق‌های زیر را از بین پاسخ‌ها پیدا کنید.

| | |
|---|---|
| $\begin{array}{r} 3562 \\ - 2487 \\ \hline \end{array}$ | $\begin{array}{r} 1768 \\ + 4359 \\ \hline \end{array}$ |
| $\dots 3.550$ $\dots 2.550$ $\dots 4.000$ | $\dots 1.888$ $\dots 4.550$ $\dots 5.550$ |

1100 6000 5000 6800 1000

۴. حاصل تقریبی هر عبارت بین کدام دو عدد هزارتایی قرار می‌گیرد؟ (با حذف رقم یکان و دهگان)

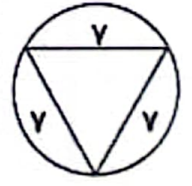
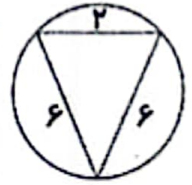
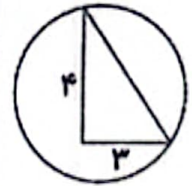
| | |
|---|---|
| $\begin{array}{r} 6351 \\ + 1482 \\ \hline \end{array}$ | $\begin{array}{r} 4458 \\ - 2367 \\ \hline \end{array}$ |
| $\dots 7.500$ $\dots 7.800$ $\dots 7.800$ | $\dots 8.000$ $\dots 2.000$ $\dots 2.000$ |





با توجه به شکل‌های زیر گزینه‌ی مناسب را رنگ کنید.

| | | |
|---------------------|-------------------|---------------------|
| مثلث متساوی‌الساقین | مثلث قائم‌الزاویه | مثلث متساوی‌الاضلاع |
| مثلث متساوی‌الساقین | مثلث قائم‌الزاویه | مثلث متساوی‌الاضلاع |
| مثلث متساوی‌الساقین | مثلث قائم‌الزاویه | مثلث متساوی‌الاضلاع |



علوم

نوع ریشه‌ی هر کدام از تصاویر را بنویسید. (راست - افشان)



..... راست راست راست افشان افشان

گیاهاتی را که ریشه‌ی آن‌ها خوراکی است با علامت ضربدر مشخص کنید.



سه گیاه نام ببرید که مواد غذایی را در ریشه‌ی خود ذخیره می‌کنند.

تربس - شلغم - سیب





۴ از برگ چه گیاهی به عنوان خوراکی و غذا استفاده می شود؟ (سه مورد نام ببرید.)

کاهو - اسفناج - جعفر - نعناع

فارسی

۱ زیر کلمات نادرست خط بکشید و درست آن‌ها را بنویسید.

سنعت ، بحس ، محلی ، و ضیفه ، باعث ، حفظ ، برخواست

صفت - مجت - و ضیفه - برخاست

۲ بیت زیر را کامل کنید.

دست در دست هم دهیم به مهر
 مبین خورشید را کنیم آنگار

۳ در متن درس چهاردهم، واژه‌هایی که بی نقطه هستند پیدا کنید و بنویسید.

مهم - درس - اصل - گروه - ولی - طول - سال - احمد - جلدی کلاس - هم -
 عمل - دست - شمس - جلدی - همکار - می - دار


۴ برای این جدول پرسش‌های مناسب بنویسید.

| | | | | | |
|---|---|---|---|---|---|
| | | | ب | آ | ۱ |
| | | ر | ز | خ | ۲ |
| | ن | ه | ی | م | ۳ |
| | ن | ا | ر | ی | ۴ |
| ه | ا | ی | د | ا | ۵ |

- ۱- مایه‌ی حیات
- ۲- نام دریای شمال ایران
- ۳- نام دکتر وطن
- ۴- کسوری که از دوسو (شمال و جنوب) به دریای خلیج می‌رسد
- ۵- محل تولد

مطالعات اجتماعی


۱ کدام کارها در مدرسه انجام نمی‌شود؟ مشخص کنید.



مورد از کارهای مورد علاقه خود در مدرسه را بنویسید.

تندرستی... ورزش... دوستی... بازی... کمک به همکاران... تفریح... صرفه جویی... کار در کنار دوستان

هریک از کارهای سمت راست در کدام مکان از مدرسه انجام می‌گیرد؟ (وصل کنید).



هدیه‌های آسمان - قرآن

نام‌های حضرت زهرا (س) را از جدول زیر پیدا کنید. علاوه بر رنگ کردن آن‌ها در جدول، نام‌ها را بنویسید.

| | | | | | |
|---|---|---|---|---|---|
| م | ب | ا | ر | ی | د |
| ف | ا | ط | م | ه | م |
| ص | د | ی | ق | د | ر |
| ط | ا | ه | ر | ه | ض |
| م | ح | د | ث | د | ی |
| ر | ی | ح | ا | ن | د |

مبارک
فاطمه
صفیه
طاهره
عمده
رحیمه
عرویه

تسیحات حضرت زهرا (س) را به ترتیب نام ببرید و تعداد آن‌ها را بنویسید.

۳۳ بار سبحان الله
۳۳ بار الحمد لله
۳۴ بار الله اعلم

- جدول کلمات
- والدشناسی
- کارها و مکان‌های مختلف مدرسه
- آشنایی با حضرت زهرا (س)

- جمع و تفریق فرآیندی
- جمع و تفریق ذهنی
- جمع و تفریق تقریبی
- اجزای گیاهان
- انواع ریشه





ارمغان هفته - سوم دبستان

نام و نام خانوادگی: تاریخ: نام آموزگار:

ریاضی < فصل ۶: جمع و تفریق تکنیکی
 علوم < درس ۱۱: بکارید و ببینید
 فارسی < درس ۱۳ و ۱۵: بوی سبب، حکایت خروس ایزانی قرآن < فصل ۳: انس با قرآن کریم (۱۱)
 مطالعات اجتماعی < درس ۱۸: خانه‌ها با هم تفاوت دارند.
 هدیه‌های آسمان < درس ۱۵: همسفر ناشناس

ریاضی

۱ عبارت جمعی را که شکل زیر نشان می‌دهد در جدول ارزش مکانی بنویسید.

| هزارگان | صدگان | دهگان | یکان |
|---------|-------|-------|------|
| ۳ | ۴ | ۵ | ۲ |
| + | ۲ | ۳ | ۳ |
| ۵ | ۷ | ۸ | ۵ |

۲ حاصل جمع و تفریق‌های زیر را بدست آورید.

| | | | |
|----------|----------|----------|----------|
| 4000 | 5491 | 3940 | 6630 |
| $+ 1287$ | $+ 2502$ | $+ 1417$ | $+ 4050$ |
| 5287 | 7993 | 5357 | 10680 |

۳ در جاهای خالی عدد مناسب بگذارید.

| ۰ | ص | د | ی |
|---|---|---|---|
| ۴ | ۴ | ۷ | ۱ |
| + | ۳ | ۱ | ۵ |
| ۵ | ۵ | ۸ | ۶ |

۴ در یک کارگاه صنایع دستی، یک هنرمند ۳۳۵۱ ظرف را رنگ کرده است. اگر ۲۵۶۰ تای آن‌ها مربوط به ماه گذشته باشند او در این ماه چند ظرف رنگ کرده است؟

$$\begin{array}{r} 3351 \\ - 2560 \\ \hline 791 \end{array}$$

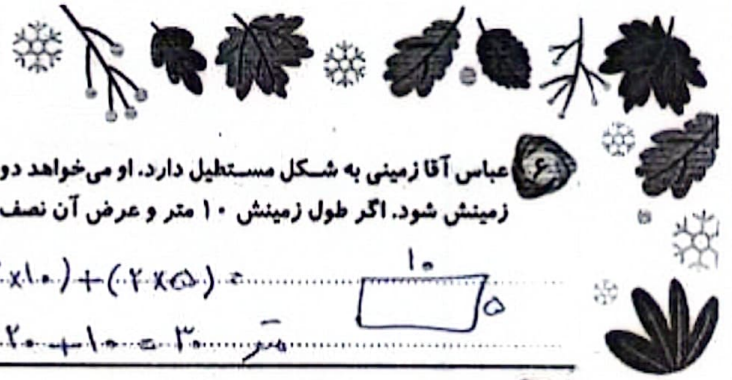
در این ماه ۷۹۱ ظرف رنگ کرده است.

۵ از دریاچه‌ای ۳۱۰۹ ماهی قزل‌آلا و ۲۳۴۵ ماهی کفال و ۹۰۸ ماهی کپور صید شده است. چند ماهی از این دریاچه صید شده است؟

$$\begin{array}{r} 3109 \\ + 2345 \\ + 908 \\ \hline 6362 \end{array}$$

۶۳۶۲ ماهی از این دریاچه صید شده است.



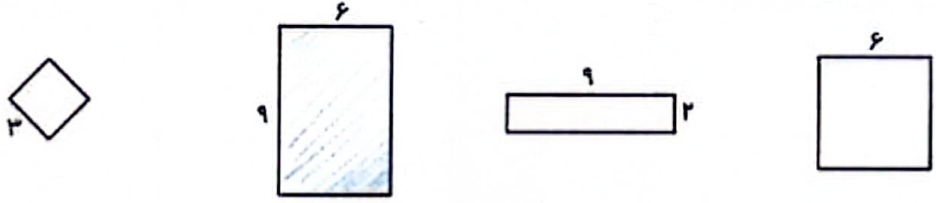


عباس آقا زمینی به شکل مستطیل دارد. او می خواهد دور تا دور زمینش را با سیم خاردار ببندد تا کسی نتواند بدون اجازه وارد زمینش شود. اگر طول زمینش ۱۰ متر و عرض آن نصف طولش باشد. او چند متر سیم خاردار باید تهیه کند؟

عرض زمین = ۵ محیط = $(2 \times 10) + (2 \times 5) = 30$ متر

عبارت روبه رو مربوط به محیط کدام شکل است؟ آن را رنگ بزنید.

$(2 \times 9) + (2 \times 6)$



علوم

با توجه به ریشه ی گیاه، گل و برگ مناسب برای این گیاه را انتخاب کرده و بچسبانید.



جدول زیر را کامل کنید.

| نام گیاه | دانه | ریشه | ساقه | برگ | گل |
|----------|----------|-------|-------------|--------------|----------------------|
| کدو | دوقسمتی | راست | نازک توپر | پهن | ۴ یا ۵ و مضرب های آن |
| لوبیا | دوقسمتی | راست | نازک توپر | پهن | ۴ یا ۵ و مضرب های آن |
| بادمجان | یک قسمتی | افشان | نازک توخالی | باریک و دراز | ۳ یا ۶ و مضرب های آن |
| گندم | یک قسمتی | افشان | نازک توخالی | باریک و دراز | ۳ یا ۶ و مضرب های آن |


تصویر زیر را با دقت نگاه کنید.



- الف) نام گیاه چیست؟ ... سرو
- ب) نوع برگ آن چگونه است؟ ... سوزنی شکل
- ب) نوع میوه ی آن چگونه است؟ ... مخروط
- ت) نوع دانه ی آن چگونه است؟ ... دانه های بالدار
- ث) یک گیاه دیگر مانند آن نام ببرید. ... کاج

۲





۱۴ من چیستم؟

زعفران

الف) گیاهی هستم که از پرچم من برای معطر کردن غذا استفاده می‌شود.

درخت زیتون

ب) گیاهی هستم که برگ‌های باریک و درازی دارم ولی ساقه‌ی چوبی کلفتی دارم.

گندم

پ) گیاهی هستم با دانه‌ی تک قسمتی که روغن من هم طرفدار زیادی دارد.

آفتابگردان

ت) گیاهی هستم با گل زرد بزرگ که دانه‌ی من درون گلم می‌باشد و مصرف خوراکی دارد.

فارسی

۱۵ با توجه به متن درس ایران آباد، کلماتی که نشانه‌های زیر را دارند را بنویسید.

| ط ه ص | ط | ظ | ذ ت |
|----------|------------------------------------|-----------------------|------------|
| موسیقی - | طرف - مناطق - رطوبت مصطفی - طول | تفریح - حقیقت - وظیفه | بیت - جامع |

۱۶ هدف فرماندهی ایرانی از آوردن خروس در حکایت خروس ایرانی، چه بود؟

تسلط بر سربازان ایرانی، بی‌جهت بودن دشمنان، یادگاری برای نشان دادن قدرت و غلبه بر دشمنان.

۱۷ با توجه به متن «بوی سیب و یاس» به سؤالات زیر پاسخ کوتاه دهید.

الف) پدر بزرگ امید در آزادسازی کدام یک از شهرهای ایران دلاورانه جنگیده بود؟

ب) روز آزادسازی خرمشهر، چه روزی است؟

پ) تصویر تابلویی که روی میز سر کوچه قرار داشت، چه بود؟

ت) نام کوچه در داستان «بوی سیب» چه بود؟

ث) نویسنده‌ی داستان «بوی سیب و یاس» چه کسی است؟

۱۸ درس چهاردهم را با دقت بخوانید و واژه‌های خواسته شده را پیدا کرده و بنویسید.

الف) دو کلمه‌ی جمع: مناطق، ایرانیان.

ب) دو کلمه که در آخر «انه» دارند: دلاوران، سقاچانان.

پ) دو کلمه که در آخر «گی» دارند: حبیبی، زینتی.

ت) سه کلمه که ابتدای آن‌ها «هم» دارد: همسنگی، همکار، همسفر.





مطالعات اجتماعی

۱) درستی و نادرستی هر عبارت را مشخص کنید.

- الف) زهرا هنگام خروج از کلاس چند تکه زباله‌ای که دوستش جا گذاشته بود را در سطل زباله انداخت.
- ب) علی به دوستش که مریض شده بود و چند روز به مدرسه نیامده بود برای یادگیری بهتر دروس کمک نکرد.
- پ) بچه‌های کلاس به کمک یکدیگر کلاس را تمیز نگه می‌دارند.

۲) الف) کدام یک از بخش‌های مدرسه‌ی خود را دوست دارید؟

ب) دفتر و حساب

ب) آیا دوست دارید در آینده شغلی در مدرسه داشته باشید؟ به چه دلیل؟

بله. معلم. معلم تا اندازه‌ی من در آینده می‌تواند به من کمک کند تا به مدرسه بروم.

۳) جاهای خالی را با دقت کامل کنید.

الف) مدرسه خانگی در ما است.

ب) مدرسه جای خواندن قرآن و نماز و است.

پ) کارکنان مدرسه با هم می‌کنند تا دانش‌آموزان درس بخوانند.

هدیه‌های آسمان - تهران

۱) به چه دلیل امام سجاد (ع) به زین‌العابدین، معروف شده است؟

چون بسیار عدالت می‌کرد و زینت محراب گنبدنای بود.

۲) آرامگاه امام سجاد (ع) در کدام شهر و کدام قبرستان قرار دارد؟ در شهر واقع است.

۳) یک دعا از امام سجاد (ع) که در صحیفه‌ی سجادیه آمده است را بنویسید.

خدایا! کس که تا به مردم حرمت کند.

| | |
|--|-------------------------------|
| | درک مطلب |
| | واژه‌شناسی |
| | مکان‌های مختلف و قوانین مدرسه |
| | آشنایی با امام چهارم |

| | |
|--|--|
| | جمع و تفریق تکنیکی |
| | مسائل جمع و تفریق |
| | محیط مستطیل |
| | دسته‌بندی گیاهان از نظر ریشه، دانه، برگ، ساقه و گل |
| | گیاهان مخروط‌دار |





شماره‌ی

۲۵

ارمغان هفته - سوم دبستان

نام و نام خانوادگی: تاریخ: نام آموزگار:


مطالعات اجتماعی < نوروژ
هدیه‌های آسمان < نوروژ
قرآن < نوروژ

ریاضی < نوروژ
علوم < نوروژ
فارسی < نوروژ

ریاضی

بعد از پیدا کردن کاری که هر ماشین انجام می‌دهد، جاهای خالی را کامل کنید.

| | | | | | |
|----|---|----|----|---|----|
| ۱۵ | → | ۲۱ | ۱۸ | → | ۳ |
| ۳۱ | | ۳۷ | ۴۳ | | ۲۸ |
| ۱۹ | | ۲۵ | ۷۴ | | ۵۹ |
| ۴۷ | | ۵۳ | ۷۹ | | ۶۴ |



۲) با رسم شکل تساوی دو کسر $\frac{1}{3}$ و $\frac{4}{8}$ را نشان دهید.

$$\frac{1}{3} = \frac{4}{8}$$

| ردیف | پایان | شماره |
|------|-------|-------|
| ✓ | ۳ | ۵ |
| ✓ | ۴ | ۱ |
| ✓ | ۵ | ۲ |
| ✓ | ۶ | ۳ |
| ✓ | ۷ | ۴ |
| ✓ | ۸ | ۵ |
| ✓ | ۹ | ۶ |

۳) اگر قیمت یک عدد سبزه‌ی سفره‌ی هفت‌سین ۵۰۰۰ تومان باشد:

الف) با ۱۵۰۰۰ تومان چند سبزه می‌توان خرید؟ $15000 \div 5000 = 3$

ب) قیمت یک سبزه چند ریال است؟ $5000 \div 10 = 500$ ریال

۴) تمام اعداد سه رقمی با صدگان ۷ و یکانی که ۳ واحد از دهگان بیش‌تر باشد را بنویسید.

$703, 714, 725, 736, 747, 758, 769$

۵) در جدول زیر حروف الفبای فارسی امتیازبندی شده‌اند. امتیاز هر کلمه براساس ضرب اعداد ساخته می‌شود. به عدد توجه کرده سپس بگویید هر کلمه چند امتیاز دارد؟ و در آخر اسم خودتان را امتیاز دهید.

۳ امتیاز
رز زرس

۶ امتیاز
ج ج خ د ذ

۲ امتیاز
ا ب پ ت ث

۸ امتیاز
ل م ن و ه ی

۵ امتیاز
ع غ ف ق ک گ

۴ امتیاز
ش ص ض ط ظ

← اسم خودتان

← سرم

← شاد

← باغ $2 \times 2 \times 5 = 20$

← طرز

← شصت

← مو



باسم و آرزوی...





علوم

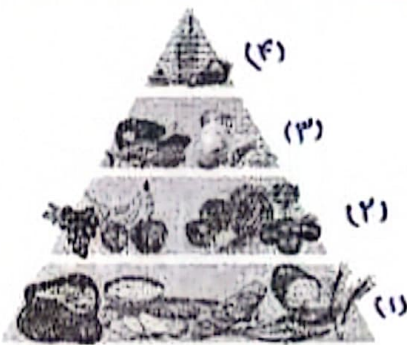
۱ قسمت‌های جامد، مایع و گاز را مشخص کنید.



۲ کدام یک از آب‌های زیر شور و کدام یک شیرین است؟

رودخانه: شیرین ... لوله کشی: شیرین ... اقیانوس: شور ... دریا: شور

۳ نام گروه‌های هرم غذایی زیر را بنویسید.



- (۱) گروه گیاهی ها (نان - برنج - ماکارونی - غلات ...)
- (۲) گروه ویتامین ها (گروه میوه ها و سبزیجات و سفیدپاستا)
- (۳) گروه پروتئین ها (گوشت - مرغ - ماهی - حبوبات و لبنیات)
- (۴) گروه چربی ها (انواع روغن - کره ...)

۴ آهن یکی از مواد اصلی تشکیل دهنده‌ی خون است و کمبود آن باعث کم‌خونی، خستگی و بی‌حوصلگی می‌شود.

| | | | | | | |
|---|---|---|---|---|---|---|
| پ | ب | ت | ق | ا | ل | ا |
| پ | ب | ت | ق | ا | ل | ا |
| ر | ب | ت | ق | ا | ل | ا |
| ر | ب | ت | ق | ا | ل | ا |
| ر | ب | ت | ق | ا | ل | ا |
| ر | ب | ت | ق | ا | ل | ا |
| ر | ب | ت | ق | ا | ل | ا |
| ر | ب | ت | ق | ا | ل | ا |

کلسیم برای رشد و محکم شدن استخوان‌ها و دندان‌ها لازم است.

اکنون که عید است خوب است بنانید خوراکی‌هایی مثل کرفس، فندق، گردو، بادام، پسته، انگور، پرتقال دارای کلسیم هستند و خوراکی‌هایی از قبیل خرما، کرفس، گردو، انگور، پرتقال، اسفناج دارای آهن هستند.

این خوراکی‌ها را در جدول پیدا کرده و مواد دارای آهن را قرمز و مواد دارای کلسیم را زرد کنید و در عید بسیار بخورید.

فارسی

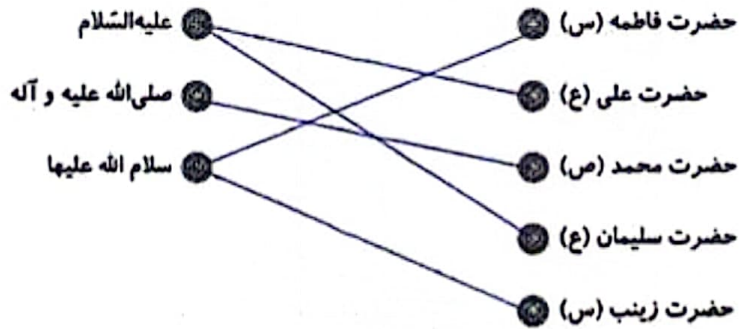
۱ قسمت‌های ناقص شعر را با معلومات خود کامل کنید.

ابر در حال سفر
آفتاب و ماهتاب
در غروب و در طلوع





۲ مخفف عبارات زیر را به جمله‌ی کامل آن وصل کنید.



۳ با کلمه‌های داده شده یک بند با موضوع بهار بنویسید.

بهار - گوشه‌ای - تحویل - سفره

باز و آفتاب است

۴ تمام چیزهایی را که در سفره هفت‌سین قرار می‌دهید را از جدول پیدا کنید و بنویسید.


| | | | | | | | | | |
|---|---|---|---|---|---|---|---|---|---|
| ن | د | ی | س | م | ب | ی | س | ق | س |
| ی | س | ن | ر | غ | ر | م | م | خ | ت |
| ا | و | ط | ی | ا | د | ج | ن | س | س |
| ر | ی | س | ه | ر | ف | س | د | م | م |
| ط | ز | ب | س | ه | ن | ی | ی | ا | ا |
| ج | د | ظ | ف | ا | ح | ن | ا | ق | ق |

| | |
|--------------|------|
| سینه | سینه |
| ساق | سینه |
| سینه مرغ رنگ | قرآن |
| ساق | آینه |
| سینه | |

مطالعات اجتماعی

۱ الف) آیا وجود مقررات در زندگی لازم است؟
 ب) چند مورد از مقررات منزل خودتان را بنویسید.
 ج) با موقع خوابیم - داخل اتاق توپ بازی نکنیم - نماز خود را در جای خود بخوانیم

- ۲ در رابطه با صرفه‌جویی گزینه‌ی صحیح را با مشخص کنید.
- الف) هنگام خرید سعی کنیم از کیسه‌های کم‌تری استفاده کنیم.
 - ب) در هنگام شست‌وشوی ماشین از شلنگ آب استفاده کنیم.



۳۲ در ایام نوروز به هر کجا سفر می کنید تصویری از شکل خانه ها را نقاشی کرده و در چند سطر آداب و رسوم آن شهر را توضیح دهید.



هدیه های آسمان - قرآن

۱ پاسخ سؤالات زیر را در جدول روبه رو رنگ کنید و با استفاده از کلمات باقی مانده رمز جدول را بنویسید.

| | | | |
|---|---|---|---|
| ه | ب | س | ع |
| پ | ا | ج | م |
| ب | ج | ا | د |
| ا | ح | د | ر |

الف) امام چهارم شیعیان **سجده**

ب) به ما محرم است. **محرم**

پ) روزه گرفتن بر مؤمنان **واجب** است.

ت) دختران در مقابل نامحرم باید **حجاب** داشته باشند.

رمز جدول: **بجارد**

۲ اذکار نماز را به نام آن ذکر وصل کنید. (یک مورد اضافه است.)

- | | |
|---------|-----------------------------|
| استغفار | سبحان ربی العظیم و بحمده |
| رکوع | استغفر الله ربی و اتوب الیه |
| سجده | سمع الله لمن حمده |
| قیام | |

۳ خداوند از ما می خواهد قبل از نماز چه کارهایی را انجام دهیم؟

نوشته کنید و نماز را با بجزای و لباس پاک شروع کنیم و اگر ایستاده باشیم بگوئیم یا بگوئیم

- بند نویسی
- حروف مخفف
- مقررات
- صرفه جویی
- قوانین دین اسلام
- اذکار نماز

- ماشین اعداد
- تاری کسر
- عدد نویسی
- ضرب و مسائل ضرب
- حالت های مواد
- هرم غذایی
- مواد غذایی

شناختن ها

چینی خوب است
خوب
قابل قبول
باز به تلاش بیشتر