

مرور فصل

فرهنگ نوشتن


۱- با توجه به ضرب و حاصل آن $۲۳ \times ۷ = ۱۶۱$ ، توضیح دهید که حاصل ضرب زیر چگونه به دست می‌آید.

$$\begin{array}{r} ۲۳۰۰۰ \\ \times ۷۰ \\ \hline ۱,۶۱۰,۰۰۰ \end{array}$$

در ابتدا صفرها را نمی‌بینیم سپس اعداد را در هم ضرب می‌کنیم
در آخر تمام صفرها را جلوی جواب می‌گذاریم

۲- توضیح دهید باقی مانده‌ی تقسیم روبه‌رو چگونه به دست می‌آید.

$$\begin{array}{r} ۲۷ \overline{) ۵} \\ - ۱۴ \\ \hline ۲ \end{array}$$



باید دسته‌های ۵ تا بی درست کنیم ۷ دسته درست می‌شود و ۲ تا مربع
بافتن رنگ می‌ماند.

تمرین

۱- می‌خواهیم ۶ بسته‌ی ۱۲ تایی مداد را بین ۹ نفر به‌طور مساوی تقسیم کنیم. به هر نفر چند مداد می‌رسد؟

۱ مداد



$$\begin{array}{r} ۷۲ \overline{) ۹} \\ - ۷۲ \\ \hline ۰۰ \end{array}$$

$$\begin{array}{r} ۱۲ \rightarrow ۱۰ + ۲ \\ \times ۶ \\ \hline ۷۲ \\ + ۷۲ \\ \hline ۷۲ \end{array}$$



۲- اگر وزن هر ۵ نخود به‌طور تقریبی یک گرم باشد یک کیلوگرم نخود چند تا نخود است؟

$$۱ \text{ کیلوگرم نخود } ۵۰۰ \text{ است } ۱۰۰۰ \text{ است } ۵۰۰۰$$


$$۱۰۰۰ \text{ gr} = 1 \text{ kg} \times ۵$$

۳- در یک کارخانه‌ی پارچه‌بافی ساعتی ۱۲۳۵ متر پارچه بافته می‌شود. در این کارخانه در ۸ ساعت چند متر پارچه بافته می‌شود؟

در این کارخانه ۱۸۱۰ متر

$$\begin{array}{r} ۱۲۳۵ \rightarrow ۱۰۰۰ + ۲۰۰ + ۳۰ + ۵ \\ \times ۸ \\ \hline ۱۰۰۰۰ \\ + ۱۴۰۰ \\ + ۲۴۰ \\ + ۴۰ \\ \hline ۹۸۸۰ \end{array}$$

۴- اتومبیلی در هر ساعت ۸۰ کیلومتر را طی می کند. اگر به همین ترتیب حرکت کند، در ۳ ساعت چند کیلومتر را می پیماید؟
 ۵۰۰ کیلومتر را در کمتر از ۶ ساعت طی می کند یا بیشتر از آن؟ کمتر




$$\begin{array}{r} 80 \\ \times 3 \\ \hline 240 \end{array}$$

$$\begin{array}{r} 80 \\ \times 6 \\ \hline 480 \end{array}$$

در ۶ ساعت

۵- زمینی به شکل مربع داریم که هر ضلع آن ۱۰۵۰ متر است. می خواهیم دور این زمین را دوردیف سیم خاردار بکشیم.



$$\begin{array}{r} 1050 \\ \times 4 \\ \hline 4200 \\ + 200 \\ \hline 4400 \end{array}$$

$$\begin{array}{r} 4200 \\ \times 2 \\ \hline 8400 \end{array}$$



متر نیاز دار

۶- یک نقاش در اولین روز کارش ۸ متر مربع از ساختمانی را رنگ کرد. صاحب ساختمان از او خواست که هر روز ۲ برابر روز قبل رنگ کند.

روز دوم چند متر مربع را باید رنگ کند؟ ۱۶ متر مربع

روز سوم چقدر؟ ۳۲ متر مربع

روز چهارم چقدر؟ ۶۴ متر مربع

روز پنجم چقدر؟ ۱۲۸ متر مربع

فانم عاشق منم



منم چمنطو عزیزم

😊

روز	۱	۲	۳	۴	۵
رنگ	۸	۱۶	۳۲	۶۴	۱۲۸