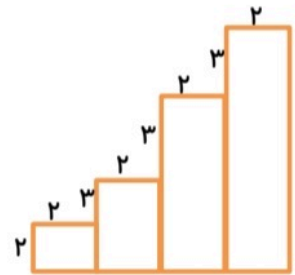
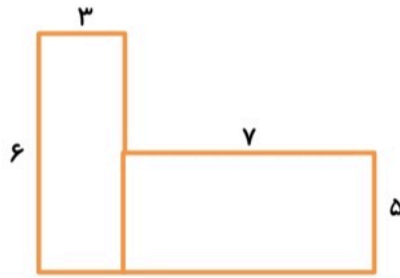
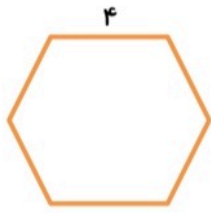
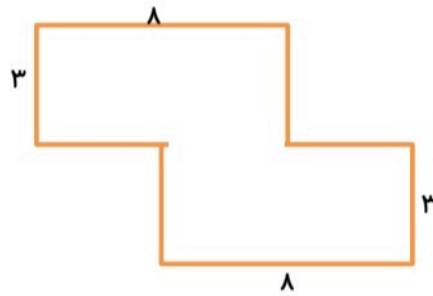
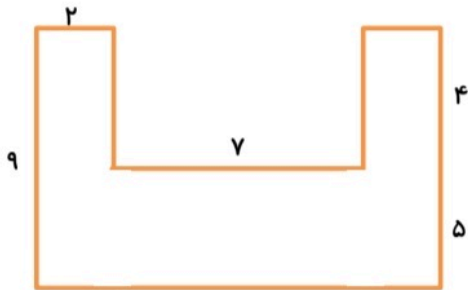


۱۹- محیط شکل های زیر را به دست آورید .



۲۰- مساحت شکل های زیر را به دست آورید .



۱۴- خیاطی روی هر بلوز ۶ گل رنگی می دوزد . حساب کن ۴۲ گل برای چند بلوز کافی است ؟

۱۵- پدرم ۴۰ سال دارد . او به من گفت : سن من ۵ برابر تو است . من چند سال دارم ؟

۱۶- کتاب خانه ی کلاس سوم ۴ ردیف دارد . اگر تعداد کتاب های کلاس ۳۲ جلد باشد ، در هر ردیف چند کتاب قرار گرفته است ؟

۱۰- جاهای خالی را پر کنید .

$$9 \times 6 = (4 \times 6) + (\quad \times 6)$$

$$(4 \times 8) + (2 \times 8) = \quad \times 8$$

$$(5 \times 7) + (\quad \times 7) = 7 \times \quad$$

$$\quad \times \quad = (3 \times 8) + (5 \times 8)$$

$$(\quad \times 4) + (1 \times 4) = 6 \times \quad$$

$$(\quad \times 4) + (1 \times 4) = 6 \times \quad$$