


۱۹۰۳، ۲، ۲۲

تمرین طلایی ۲

بزرگترین عدد آرتقی فرد بدون تکرار

الف) کدام خطها با هم موازی هستند؟ (دومورد)

ب) از برحوزد خطوط چه شکلی به وجود آمده؟
نام آن را بنویس و رنگ بزن!



Months

- January
- February
- March
- April
- May
- June
- July
- August
- September
- October
- November
- December

Weathers

- Snowy
- Cloudy
- Storm

رنگ چشم	رنگ پوست	رنگ مو	رنگ لب	رنگ دندان
سبز	سفید	سیاه	قرمز	سفید
آبی	سفید	سیاه	قرمز	سفید
سبز	سفید	سیاه	قرمز	سفید
آبی	سفید	سیاه	قرمز	سفید
سبز	سفید	سیاه	قرمز	سفید
آبی	سفید	سیاه	قرمز	سفید

What page are we on?



1 2 3 4

17 18 19 20

Months

January

February

March

April

May

June

July

August

September

October

November

December

Weathers



Snowy



Cloudy



نام

تاریخ

موضوع

نمره

تاریخ

موضوع

نمره

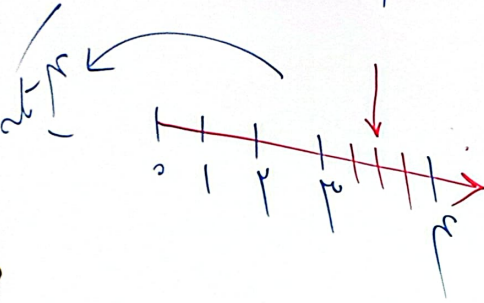
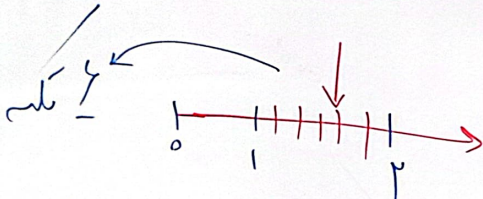
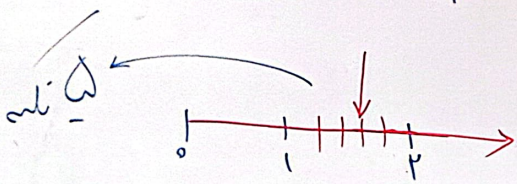

سوال ۳

واحد قبل از عدد $\frac{1}{2}$

واحد بعد از عدد ۱

واحد قبل از عدد ۲

واحد بعد از عدد $\frac{2}{3}$



What page are we on?



$$\begin{array}{r} 2979 \\ + 4533 \\ \hline \end{array}$$

$$\begin{array}{r} 1973 \\ - 1485 \\ \hline \end{array}$$

۴

$$(42 \div 7) + (3 \times 8) = \text{---} - 5$$

۶- ورزشگاهی داریم به طول ۳۰ متر و عرض ۲۰ متر. گوشه ای از این ورزشگاه سالن حمام قرار گرفته.

۶ متر	سالن حمام
۸ متر	

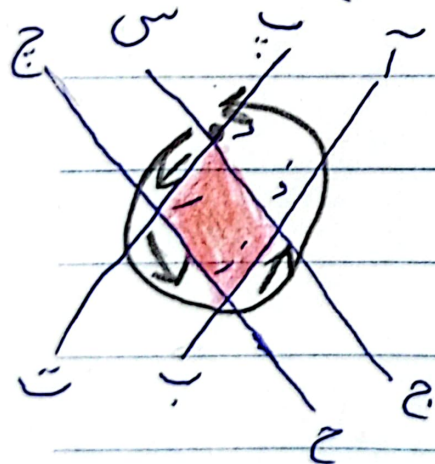
الزبتخواهیم کف ورزشگاه را سنگ بپایندازیم. به چند متر مربع سنگ نیاز داریم؟

Mont
Janua
Febru
Mar
Apr
May
June
July
August
Septem
Octob
Novemb
Decemb

Weather
Snowy

۱- بزرگترین عدد ۴ رقمی فرد بدون تکرار ۹ ۸ ۷ ۵

۲- الف) کدام خط‌ها با هم موازی هستند. (۲ مورد)



س ج) (ج ح) ()




ب) چه شکلی از برخورد خط به وجود آمد آن را بنویس

در شکل پررنگ کن. مربع یا لوزی

د ر ز د)

۴

۳



$$\begin{array}{r}
 2 \quad 9 \quad 7 \quad 9 \\
 + \quad 4 \quad 5 \quad 3 \quad 3 \\
 \hline
 7 \quad 2 \quad 1 \quad 2
 \end{array}
 \qquad
 \begin{array}{r}
 16 \\
 13 \\
 14 \\
 13 \\
 \hline
 14 \quad 15 \\
 - \quad 14 \quad 15 \\
 \hline
 7 \quad 14 \quad 11 \quad 11
 \end{array}$$

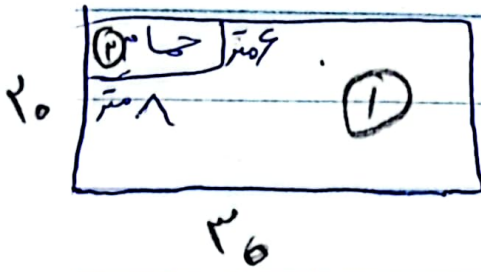
۵

$$(42 \div 7) + (3 \times 8) = 30$$

۶- ورزشگاهی داریم به طول ۳۰ متر و عرض ۲۰ متر

گوشه ای از این ورزشگاه حمام قرار گرفته اگر بخواهیم

سف ورزشگاه را تشک بپاندا زیر به چند متر مربع تشک



نیاز داریم؟

$$S_1 = 30 \times 20 = 600 \text{ mm}$$

$$S_2 = 9 \times 8 = 72 \text{ mm}$$

$$S = 600 - 72 = 528 \text{ mm}$$

ورزشگاه