


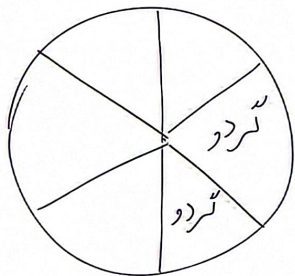
۲۵ آذر ۲۰۲۳

تمرین طایفه ۴

سؤال ۱۰- ۶۰ درصد گند و برهمنال داریم. بارو چه به نمودار بکشید از هر درخت چندتا داریم.


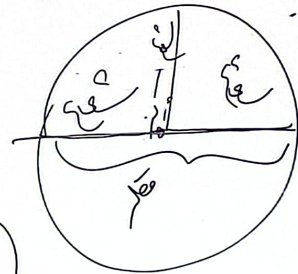


۱۰



تعداد درختان گند

تعداد درختان برهمنال



17 18 19 20 21 22 23 24 25 26

Months

- January
- February
- March
- April
- May
- June
- July
- August
- September
- October
- November
- December

Year

2022

Today is

2nd


Today's Date

This Month

Season

Weather

Weathers



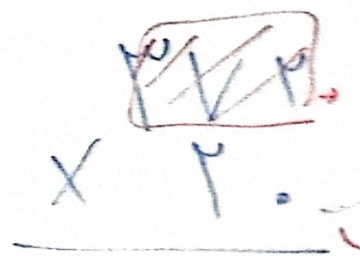
روز	شنبه	یکشنبه	دوشنبه	سه شنبه	چهارشنبه	پنجشنبه	شنبه
تاریخ							
روز							
ماه							
سال							

تمرین ۴

۲۰۳, ۲, ۲۵


$\text{Max } P_{000} =$
 $\text{Max } V_1 =$
 $\text{Max } P =$

$P_{000} + V_1 + P$



$+ P_{000}$
 $+ V_1$
 $+ P$

 $V P P_0$



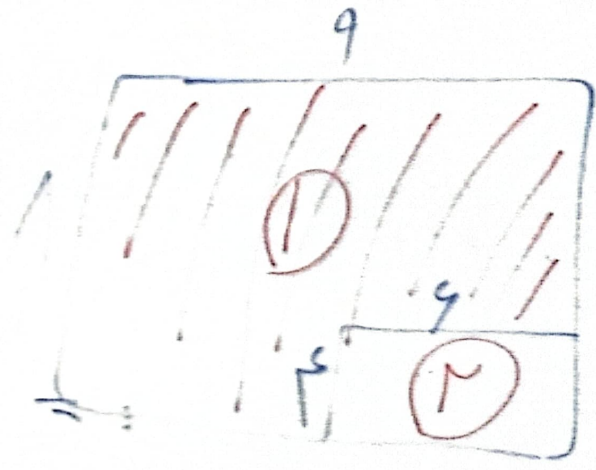
$P < V$

$P_{000} =$
 ...

$S = 9 \times 1 = V P_{\text{class}}$

$S_p = 9 \times 1 = P_{\text{class}}$

$S_p = V P - P = P_{\text{class}}$



- ۱۲

$$۲۸۲ \rightarrow ۲۰۰ + ۸۰ + ۲$$

$$\times ۶$$

$$۱۲۰۰$$

$$+ ۴۸۰$$

$$+ ۱۸$$

$$۱۶۹۸$$

$$۸۳۲ \rightarrow ۸۰۰ + ۳۰ + ۲$$

$$\times ۴$$

$$۳۲۰۰$$

$$+ ۱۲۰$$

$$+ ۸$$

$$۳۳۲۸$$

تکلیف منزل

۱۴۰۲/۲/۱۸

۱- دو برابر شعاع می شود قطر

۲- وسیله برای رسم دایره پرگار

۳- ۱۰ دستری ۱۰۰ تایی می شود ۱۰۰۰

۴- ~~۱۰۰۰۰~~ ۱۰۰۰ تومان برابر است با ۱۰۰۰۰ ریال

۵-

$$\begin{array}{r} ۲۸ | ۹ \\ - ۲۷ | ۳ \\ \hline \end{array}$$

$$۱ < ۹$$

$$۰ | ۱$$

$$\begin{array}{r}
 ۳۷۲ \text{ فرآیندی} \\
 ۳۰۰ + ۷۰ + ۲ \\
 \times ۶ \\
 \hline
 ۱۸۰۰ \\
 + ۴۲۰ \\
 + ۱۲ \\
 \hline
 ۲۲۳۲
 \end{array}$$

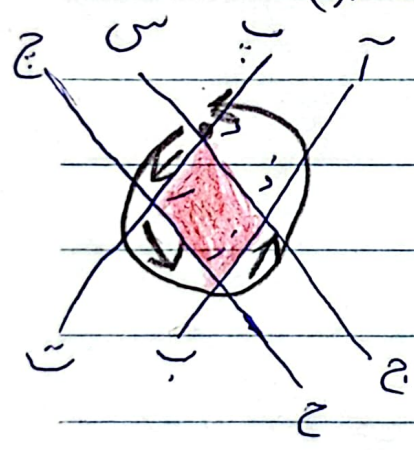
$$\begin{array}{r}
 ۳۷۲ \text{ تکینگی} \\
 \times ۶ \\
 \hline
 ۲۲۳۲
 \end{array}$$

۱۴۰۳ / ۲ / ۲۲

تمرین کلاسیکی ۲

۱- بزرگترین عدد ۴ رقمی فرد بدون تکرار ۹ ۸ ۷ ۵

۲- الفبا کدام خط ها با هم موازی هستند. (۲ مورد)




(س ج) (ج ح) ()

ب) چه شکلی از برخورد خط به وجود آمد آن را بنویس


و در شکل پررنگ کن. مربع یا لوزی

(د ر ز د)

- ۳




$\frac{1}{4}$ واحد قبل از عدد ۱




$\frac{3}{5}$ واحد بعد از عدد ۲

۶ تکه



$\frac{2}{6}$ واحد قبل از عدد ۲



$\frac{4}{4}$ واحد بعد از عدد ۳

$$\begin{array}{r} 2 \quad 6 \quad 7 \quad 9 \\ + \quad 4 \quad 5 \quad 3 \quad 3 \\ \hline 7 \quad 2 \quad 1 \quad 2 \end{array} \qquad \begin{array}{r} 16 \\ 13 \\ 14 \\ 15 \\ - \quad 1 \quad 4 \quad 1 \quad 5 \\ \hline 7 \quad 4 \quad 1 \quad 1 \end{array}$$

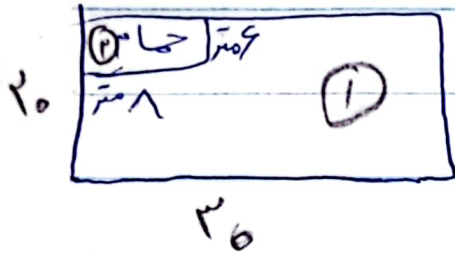
- ۵

$$(42 \div 6) + (3 \times 8) = 30$$

۶- ورزشگاهی داریم به طول ۳۰ متر و عرض ۲۰ متر

گوشه‌ای از این ورزشگاه حمام قرار گرفته اگر بخواهیم

سقف ورزشگاه را تشک بپاندازیم به چند متر مربع تشک



نیاز داریم؟

$$S_1 = 20 \times 20 = 400 \text{ mm}$$

$$S_2 = 9 \times 1 = 9 \text{ mm}$$

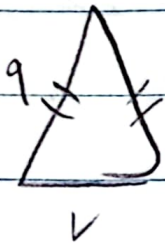
$$S = 400 - 9 = 391 \text{ mm}$$

۱۴۰۳ / ۲ / ۲۳

بترین کلاسیک

۷- محیط مثلث مساوی الساقین زیر ۲۵ سانتی متر است بانوجه

به شکل بگوئید ساق هر کدام چند سانتی متر است



$$25 - 7 = 18 \quad 18 : 2 = 9$$

۸- ورزشکاری روزی ۳ ساعت در باشگاه ورزش می کند او در

هر ساعت ۹۰ کالری می سوزاند در یک هفته چند کالری می سوزاند؟

$$3 \times 90 = 270$$

$$270 \times 12 = 3240$$

۹- خانم خلیلی ۴۹ ظرف سوپ را بین ۸ جعبه به طور

$$\begin{array}{r} 49 \overline{) 8} \\ - 48 \overline{) 6} \\ \hline \end{array}$$

مساوی قرار داده.

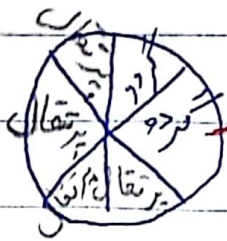
الف) در هر جعبه چند ظرف سوپ قرار دارد؟ ۶ ظرف سوپ قرار دارد.

ب) چند ظرف خارج از جعبه باقی مانده (۱ جعبه باقی مانده)

۱۴۰۳، ۲۵/۲

تمرین کلاس

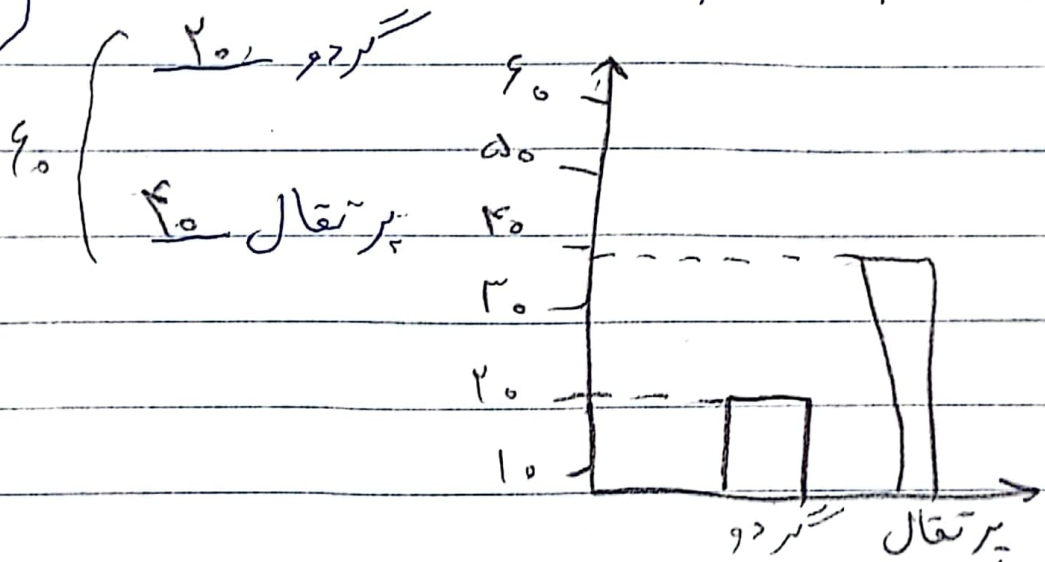
۱۰- ۶۰ درخت گردو و پرتقال داریم. با توجه به نمودار از هر



هر یک ۱۰

$$60 \div 6 = 10$$

درخت چند داریم.

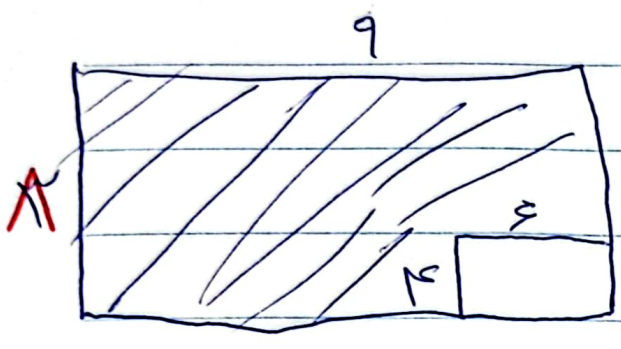


$$\begin{array}{r} 1 \\ 3 \quad \vee \quad 2 \\ \times \quad 2 \quad \textcircled{\circ} \\ \hline \vee \quad 2 \quad 2 \end{array}$$

$$\begin{array}{r|l} \Delta \Lambda & \vee \\ \hline - \Delta \delta & \Lambda \end{array} \quad -11$$

o 2 رابطة بين 2 و 3

12 - مساحت قسمت رنگی



$$S_1 = 9 \times \Lambda = 72 \text{ cm}^2$$

$$S_2 = 2 \times 2 = 4 \text{ cm}^2$$

$$S = 72 - 4 = 68 \text{ cm}^2$$