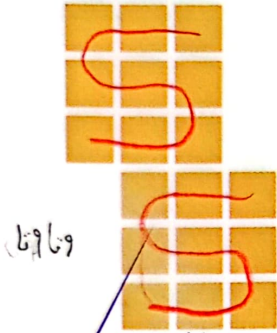


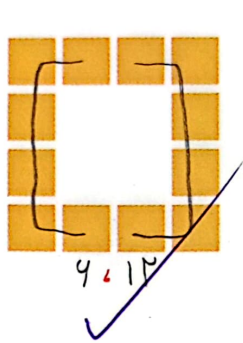

۷/۸

۱- شکل های زیر را دسته بندی کنید. تعداد مربع های هر شکل را به دست آورید.

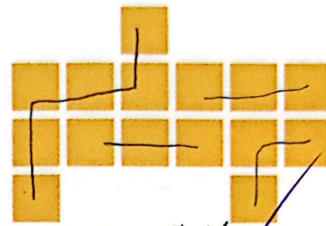


۹ تا

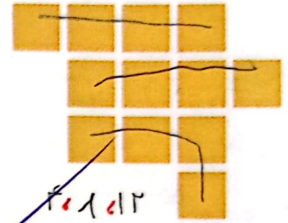
۹، ۱۸



۴، ۱۲




۳، ۶، ۹، ۱۲، ۱۵




۴، ۱، ۱۲


در شکل های زیر تعداد مربع ها را با توجه به رنگ آن ها به دست آورید.
جمع کردن یا شمارش چندتا چندتا می توانید از ماشین حساب استفاده کنید.




۴، ۸، ۱۲، ۱۶، ۲۰، ۲۴، ۲۸



۴، ۸، ۱۲، ۱۶، ۲۰، ۲۴




۵، ۱۰، ۱۵، ۲۰، ۲۵، ۳۰

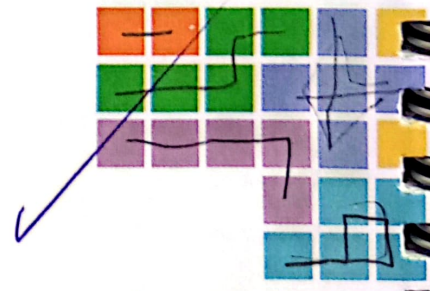


۵، ۱۰، ۱۵، ۲۰، ۲۵، ۳۰

$30 + 3 = 33$



۴، ۸، ۱۲، ۱۶، ۲۰، ۲۴، ۲۸



۵، ۱۰، ۲۰، ۲۵

$25 + 4 = 29$