


کار در کلاس



۱- شکل های زیر را دسته بندی کنید. تعداد مربع های هر شکل را به دست آورید.



$4+4+4=12$

$3+3+3=9$

$3+3+3=9$

$3+3+3=9$

9 6 12 6 18



3 6 8 6 12

3 6 10 6 15




3 6 8 6 12

در شکل های زیر تعداد مربع ها را با توجه به رنگ آن ها به دست آورید. برای جمع کردن یا شمارش چندتا چندتا می توانید از ماشین حساب استفاده کنید.

3 6 8 6 12 / 3 6 10 6 15 / 3 6 8 6 12 / 3 6 12 6 18

3 6 10 6 15 / 3 6 12 6 18 / 3 6 12 6 18




3 6 8 6 12 / 3 6 12 6 18 / 3 6 12 6 18



$3+3+3+3+3+3=18$

$3+3+3+3+3+3=18$

$3+3+3+3+3+3=18$



$3+3+3+3+3+3=18$

$3+3+3+3+3+3=18$

$3+3+3+3+3+3=18$

3 6 8 6 12 / 3 6 10 6 15 / 3 6 12 6 18