



۱) یک ربع مانده به ۲ یعنی: ۱۵ دقیقه مانده به ۲
 ۲) هفت و نیم یعنی: ۳۰ دقیقه از ساعت ۷ گذشته است.

فعالیت کلاسی



۱ در ساعت‌های زیر زمان خواسته شده را نشان بده.

۱۰:۳۵ ۸:۳۰
 هشت و نیم

یک ربع مانده به ۳
 ۲:۴۵

۲۰:۰۰

۲ دنیا کارهای خود در عید مبعث را به صورت زیر در یک شبانه روز نشان داده است.

قبل از ظهر: خواب (3-12), استراحت (10-11), حمام رفتن (9), مطالعه (8), صبحانه (7-8).

بعد از ظهر: مطالعه (1-2), ناهار (1-2), تماشای فیلم (3-4), مهمانی (4-6), شام (7-8), استراحت (9-10), خواب (11-12).

الف: عددهای مناسبی برای ساعت‌های بعد از ظهر در قسمت‌های مشخص شده بنویس.

ب: دنیا در مجموع چند ساعت مطالعه کرده است؟ $۲+۲=۴$ ساعت

پ: دنیا چه ساعتی به مهمانی رسیده است؟ ۱۶ بعد از ظهر یا ۴

ت: دنیا چه ساعتی شام خورده است؟ ۸ بعد از ظهر یا $۱۰:۰۰$

۳ در یک شبانه روز عقربه‌ی ساعت‌شمار چند بار صفحه‌ی ساعت را دور می‌زند؟

۲ ساعت

$۱۲+۱۲=۲۴$

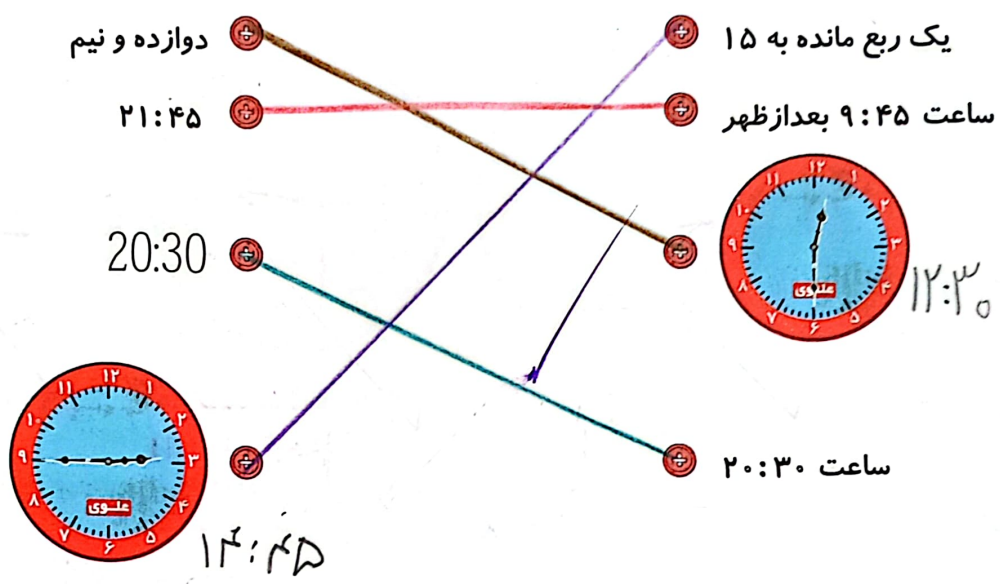
۲ بار

۷:۲۰ سید زینب را با منم

۴ جدول زیر را کامل کن.

زمان	15:18	۲۱:۴۵	22:10	14:15	21:15	20:30
بعد از ظهر	03:18	9:۲۵	10:10	2:15	نه و ربع	هشت و نیم

۵ عبارتهای مناسب را به هم وصل کن.



۶ قرار است مسابقه فوتبالی در ساعت ۶ بعد از ظهر برگزار شود. اگر نیمه اول ۴۵ دقیقه باشد، بازیکنها چه زمانی برای

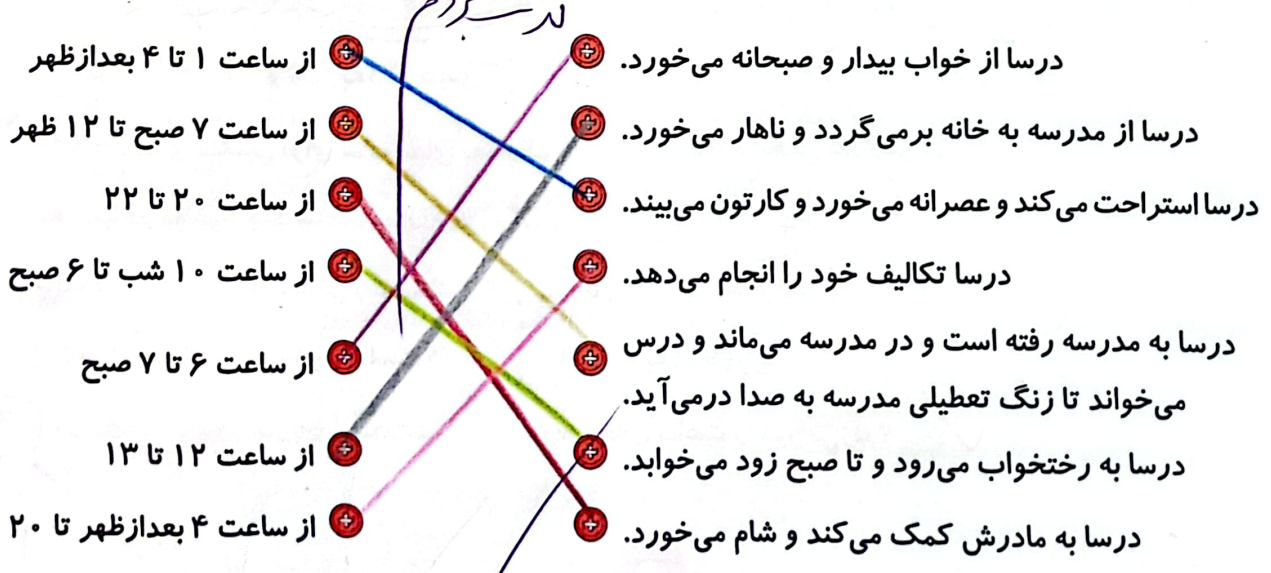
استراحت به رختکن میروند؟

ساعت ۹:۴۵ بعد از ظهر با ۱۱:۴۵

تمرین

۱

درسا فعالیت های خود را در سمت راست صفحه یادداشت کرده، هر فعالیت را به زمان مناسب آن در سمت چپ وصل کن.



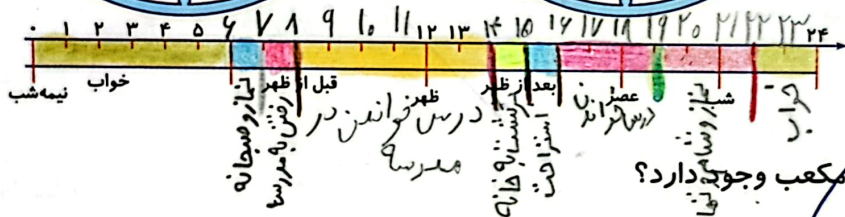
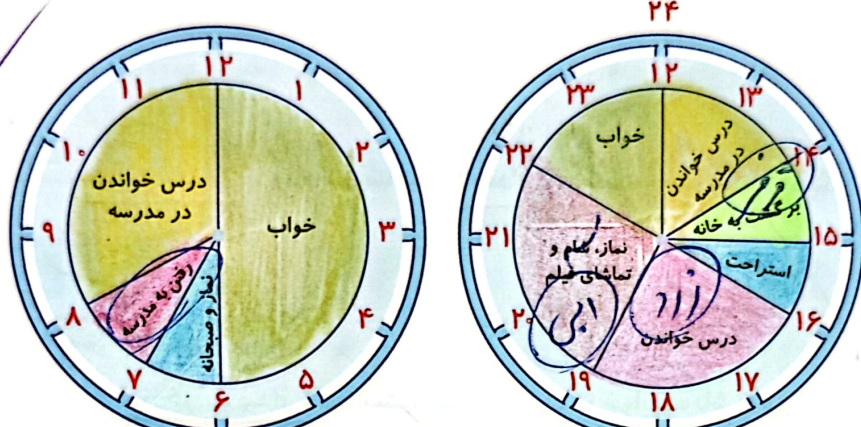
۲ درستی و نادرستی هر عبارت را مشخص کن.

الف: هر شبانه روز ۱۲ ساعت است.

ب: هر ساعت ۶۰ دقیقه است.

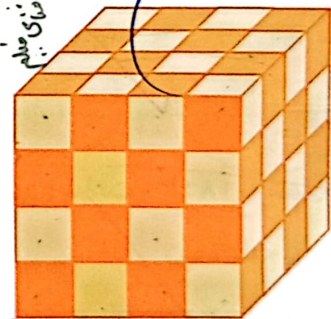


پ: یک شبانه روز شامل ۱۲ ساعت قبل از ظهر و ۱۲ ساعت بعد از ظهر است.

۳ نوارهای دور ساعت‌ها را بریده‌ایم و روی یک خط به دنبال هم چسبانده‌ایم. حالا با رنگ کردن کارهای روی ساعت، را روی نوار نشان بده.



چون در صبح
استراحت
مقتضای عبادت است
را لحاظ و حشر نیست

۴ در هر شکل چند مکعب وجود دارد؟



$19 + 19 + 19 + 19 = 76$

۵ تصویر یک مکعب و صورت گسترده‌ی آن را بکش.

