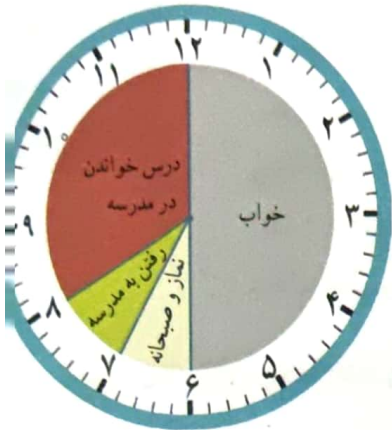


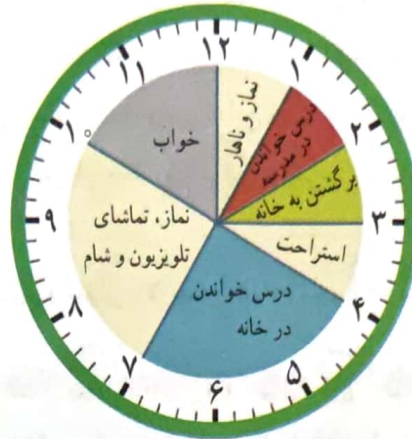
ساعت در بعد از ظهر

فعالیت

کارهایی که علی در یک شبانه روز انجام داده است، روی ساعت‌های زیر مشخص شده‌اند.



قبل از ظهر



بعد از ظهر

با توجه به این ساعت‌ها به سؤال‌های زیر پاسخ دهید.

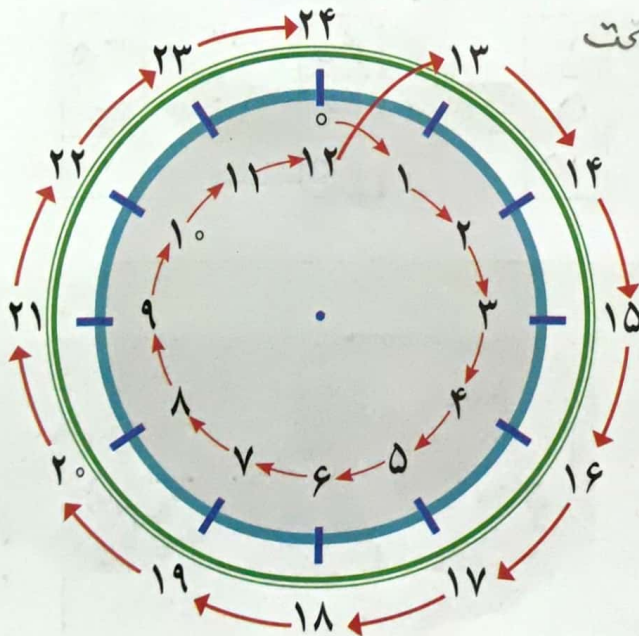
علی در مجموع چند ساعت خوابیده است؟ ۸ ساعت

علی در مدرسه چند ساعت درس خوانده است؟ ۵ ساعت

چند ساعت در راه مدرسه یا خانه بوده است؟ ۲ ساعت

در مجموع، او چند ساعت به نماز خواندن، خوردن، استراحت و تماشای تلویزیون پرداخته است؟ ۶ ساعت

یک شبانه‌روز چند ساعت است؟ ۲۴ ساعت



با توجه به تصاویر بالا به سؤال‌های زیر پاسخ دهید.

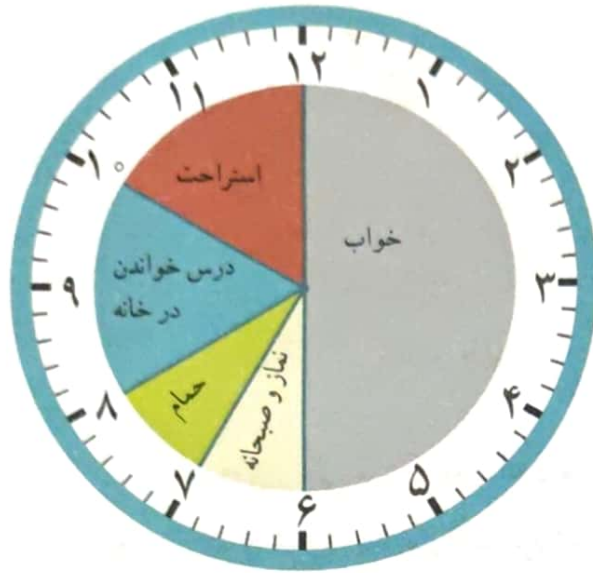
علی چه ساعتی به خانه رسیده است؟ ۱۳ بعد از ظهر یا ۱۵

علی درس خواندن در خانه را چه ساعتی شروع کرده است؟ ۱۳ بعد از ظهر یا ۱۶

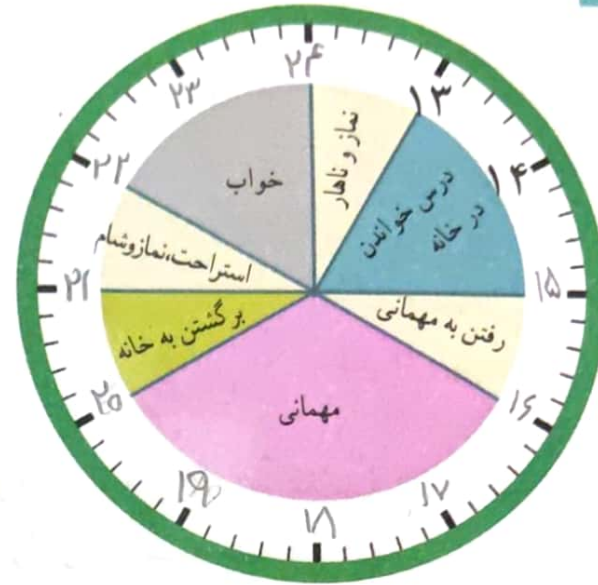
علی چه ساعتی به خواب رفته است؟ ۱۰ بعد از ظهر یا ۲۲



زهره کارهای خود را در روز جمعه (یک شبانه روز) به صورت زیر نشان داده است.
 عددهای مناسب برای ساعت‌های بعد از ظهر را بنویسید و شکل را کامل کنید.



قبل از ظهر



بعد از ظهر

حالا به سؤال‌های زیر پاسخ دهید.

هرها در مجموع چند ساعت در خانه درس خوانده است؟ ۴ ساعت

هرها چه ساعتی به مهمانی رسیده است؟ ۴ بعد از ظهر یا ۱۶

هرها چه ساعتی از مهمانی برگشته و به خانه رسیده است؟ ۸ بعد از ظهر یا ۲۰

اما هم چند سؤال مثل سؤال‌های بالا برای دوست خود طرح کنید و او به آن‌ها جواب دهد. سپس او سؤال کند و شما جواب دهید.