

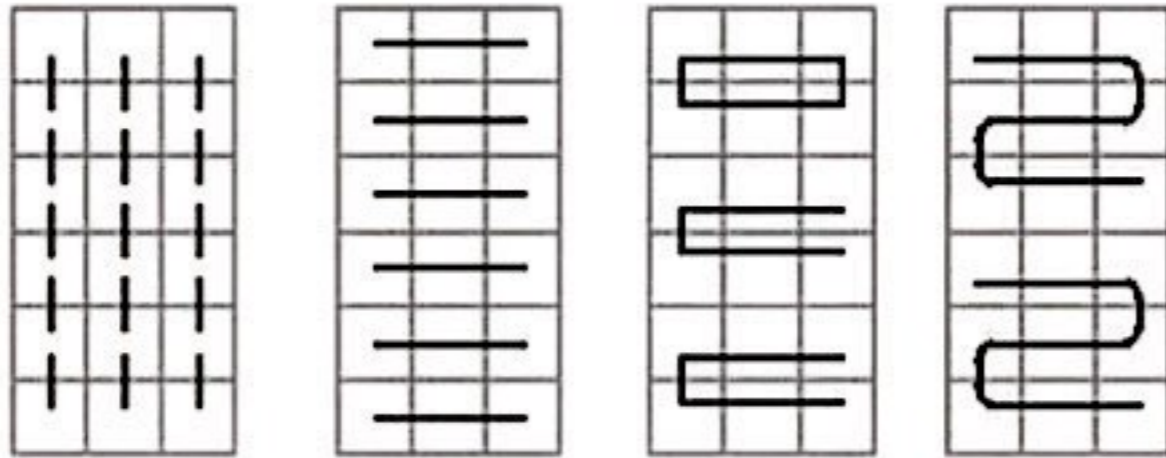
## فعالیت کلاسی درس دوم فصل ۱ صفحه ۱۵:

۱. ۲ تا ۲ تا ۲، ۴، ۶، ۸، ۱۰، ۱۲، ۱۴، ۱۶، ۱۸

۳ تا ۳ تا ۳، ۶، ۹، ۱۲، ۱۵، ۱۸

۶ تا ۶ تا ۶، ۱۲، ۱۸

۹ تا ۹ تا ۹، ۱۸



۲. ۲۲ مربع دارد

شکل سمت چپ: شمارش ۲ تا ۲ تا

۲، ۴، ۶، ۸، ۱۰، ۱۲، ۱۴، ۱۶، ۱۸، ۲۰، ۲۲

شکل سمت راست: شمارش ۳ تا ۳ تا

۳، ۶، ۹، ۱۲، ۱۵، ۱۸

۲، ۴، ۶، ۸، ۱۰، ۱۲، ۱۴، ۱۶، ۱۸

۶، ۱۲، ۱۸

شمارش ۲ تا ۲ تا

شمارش ۶ تا ۶ تا

تعداد مربعها ۱۸ تا

۳. ۳۶ شکلات

قفسه	۱	۲	۳	۴	۵	۶	۷	۸	۹
بسته	۹	۱۸	۲۷	۳۶	۴۵	۵۴	۶۳	۷۲	۸۱
شکلات									

۴. ۵۶ - ۷۲





# ریاضی

سوم دبستان

۲. الف) نادرست: حاصل ۳۰ می شود.

ب) درست

۳.

$$\underline{4} + \underline{4} + \underline{4} = \underline{12} \quad 4, \underline{8}, \underline{12}$$

$$\underline{5} + \underline{5} + \underline{5} = \underline{15} \quad 5, \underline{10}, \underline{15}$$

۴. شکل به دلخواه دانش آموز کشیده شود.

فقط مهم این است که دسته بندی درست باشد.

۵.

$$6, 12, 18, 24, 30, 36$$

$$6+6+6+6+6+6=36$$

۶.

الف)  $\underbrace{102, 89, 76}_{-12}, \underbrace{63, 50, 37}_{-12}$

ب)  $\underbrace{112, 97, 82}_{-15}, \underbrace{67, 52, 37}_{-15}$

۷. پله‌ی نهم

$$\begin{array}{ccccccc} & & 3 & & 5 & & 7 & & 9 \\ & & \underbrace{\quad} & & \underbrace{\quad} & & \underbrace{\quad} & & \\ \text{پله سوم} & & +2 & & +2 & & +2 & & \end{array}$$

قدم	۰	۱	۲	۳
پله	۳	۵	۷	۹

.۸

پنجشنبه	۲	۳	۴	۵
۱۸	۸	۱۵	۲۲	۲۹
	+۷	+۷		

۵ دوشنبه دارد.

.۹

شنبه	۲	۳	۴	۵	۶	۷
۶	۹	۱۲	۱۵	۱۸	۲۱	۲۴

$$۲۱ + ۲۱ = ۴۲$$

.۱۰

ردیف	۱	۲	۳	۴	۵	۶	۷	۸	۹	۱۰	۱۱	۱۲
دانش آموز	۴	۸	۱۲	۱۶	۲۰	۲۴	۲۸	۳۲	۳۶	۴۰	۴۴	۴۸

۴۸ دانش آموز وجود دارد.

.۱۱. گزینه «۲»: حاصل ۲۴ می شود.

فعالیت کلاسی درس سوم فصل ۱ صفحه ۱۹:

۱.

۶۲
۸۱
۱۵۰

۲.

	۳۰		۱۵
	۵۷		۴۲
+۲۰	۷۵	-۱۵	۶۰
	۱۰۲		۸۷

۳.

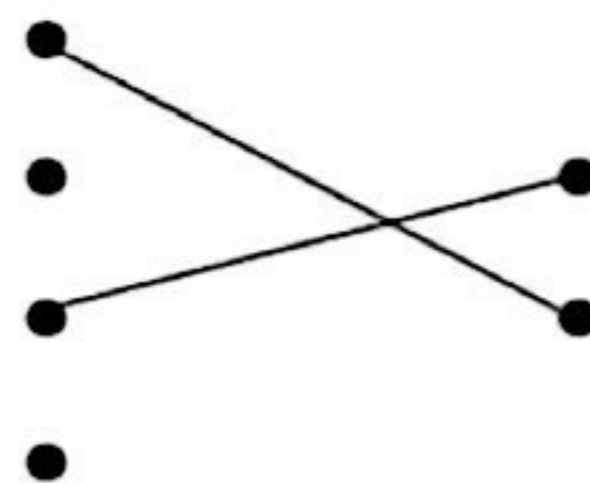
الف) +۹

ب) -۷



تمرین درس سوم فصل ۱ صفحه ۲۰:

۱.

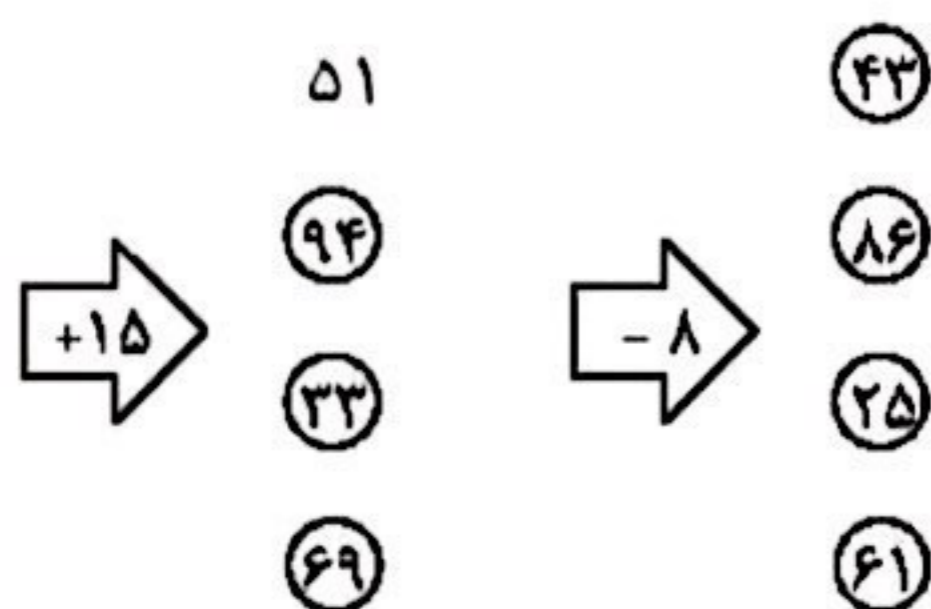


دو گزینه اضافه است.

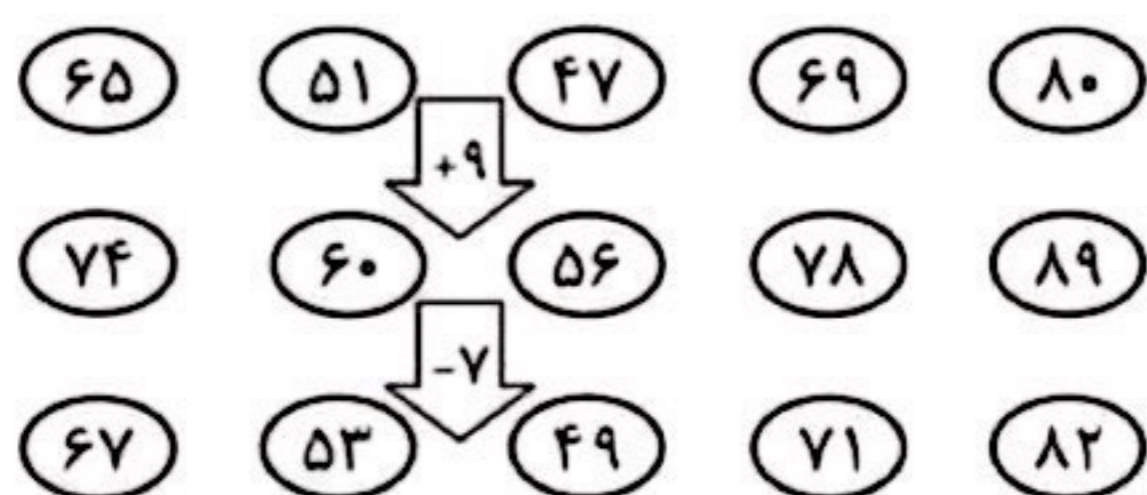
۲. الف) نادرست: مکعب از ۶ مربع هم اندازه تشکیل شده است.

ب) درست

۳.



۴.



۱۰ روز از دویدن او گذشته است.

۵. به عهده دانش آموز می باشد، اگر گسترده‌ی درستی از مکعب رسم شده باشد، درست است.

۶. به عهده دانش آموز

شکل	دایره	مستطیل	مربع	مکعب	مثلث	مکعب مستطیل
رنگ						
تعداد	۷	۳	۲	۲	۶	۲

۷.

روز	۱	۲	۳	۴	۵	۶	۷	۸	۹	۱۰
ساعت		۲۰	۲۵	۳۰	۳۵	۴۰	۴۵	۵۰	۵۵	۶۰

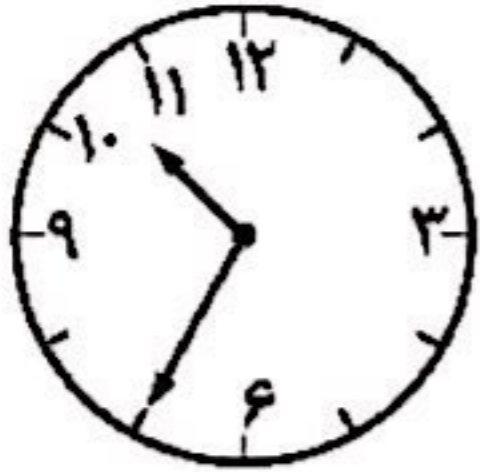
۸.  حذف شود

۹. گزینه «۳» درست است.

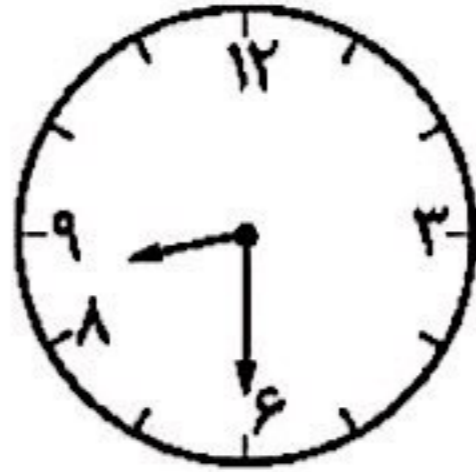


تمرین درس چهارم فصل ۱ صفحه ۲۵:

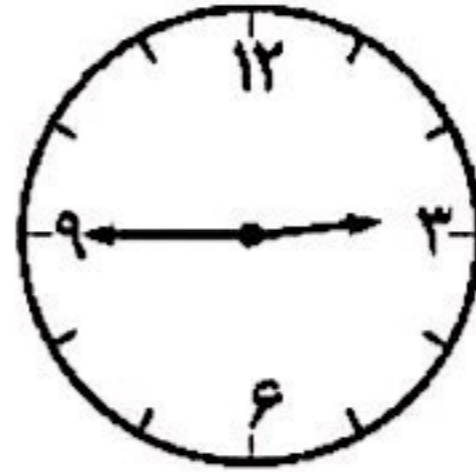
۱.



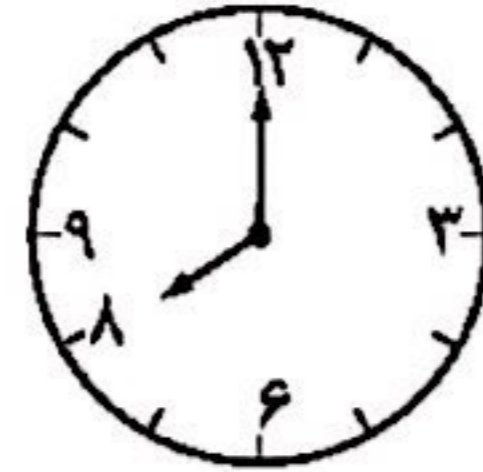
۱۰:۳۵



۸:۳۰



یک ربع مانده به ۴



۲:۰۰

۲. الف)

۱۰ = ۲۲

۹ = ۲۱

۸ = ۲۰

۴ = ۱۶

۳ = ۱۵

۲ = ۱۴

۱ = ۱۳

ب) ۴ ساعت

پ) ۴ بعد از ظهر یا ۱۶

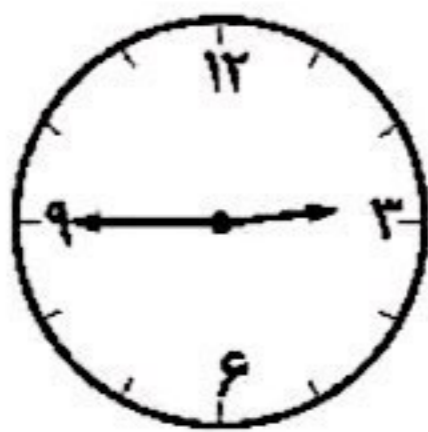
ت) ۸ بعد از ظهر یا ۲۰

۲.۳ بار

۴.

زمان	15:18	۲۱:۲۵	22:10	14:15	۲۱:۱۵	۲۰:۳۰
بعد از ظهر	03:18	۹:۲۵	10:10	02:15	ربع و نه	نیم و نه

۵.



یک ربع مانده به ۱۵



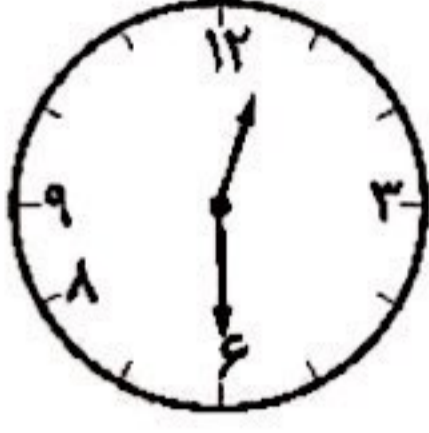
# ریاضی

سوم دبستان

۹:۴۵ بعد از ظهر ← ۲۱:۴۵

دوازده و نیم

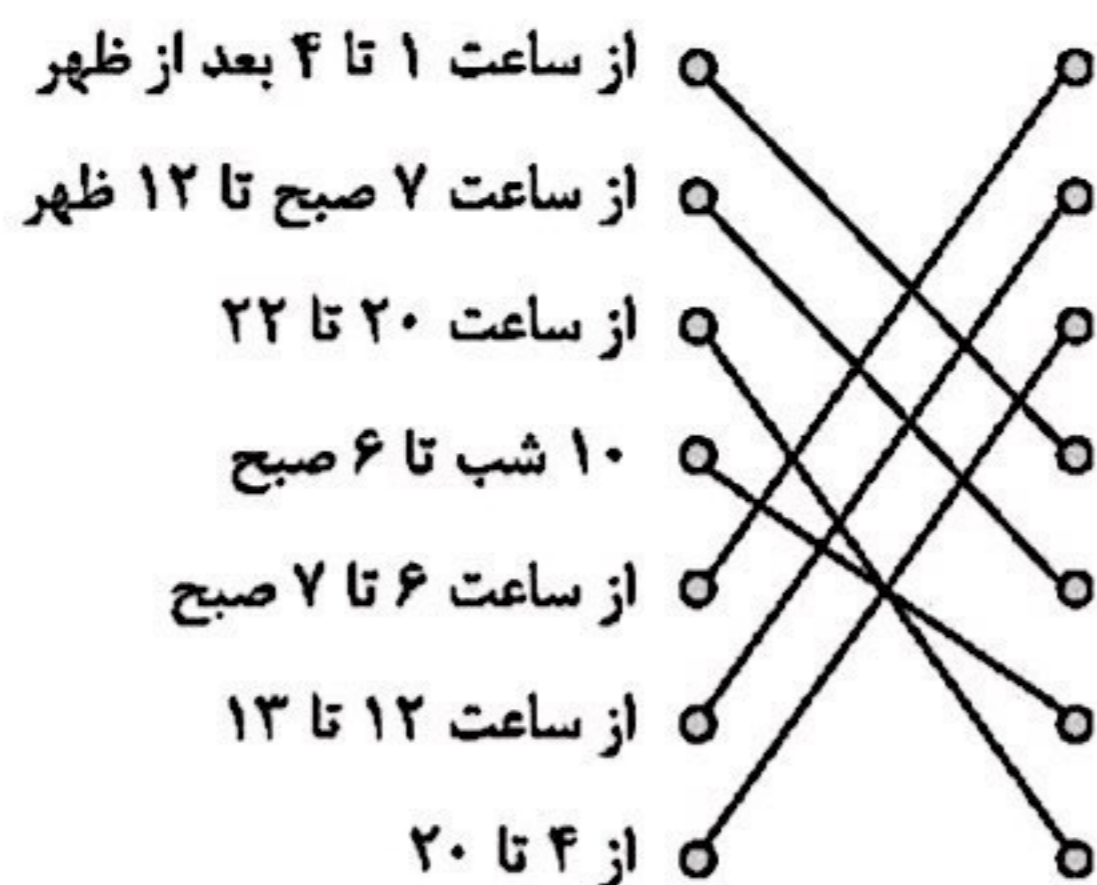
ساعت ۲۰:۳۰



۶:۴۵' بعد از ظهر

تمرین درس چهارم فصل ۱ صفحه ۲۶:

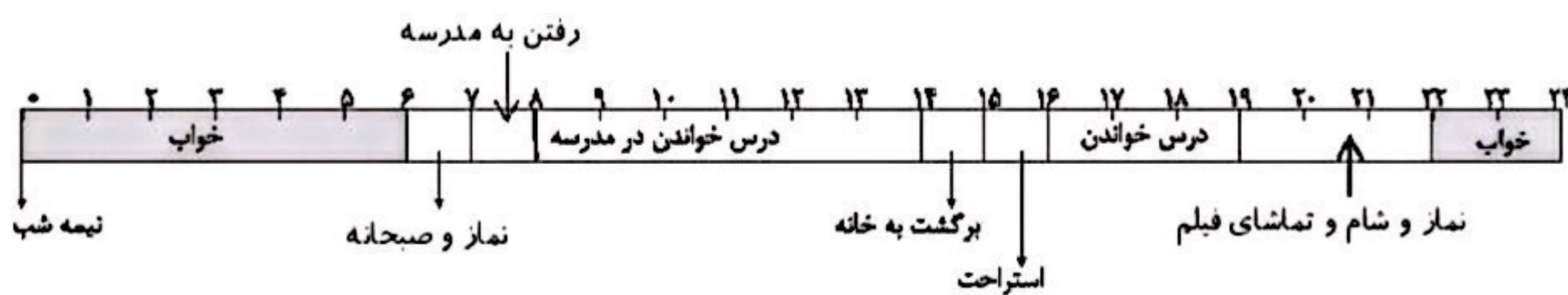
۱.



۲. الف) نادرست: ۲۴ ساعت است.

ب) درست

۳.



$$\begin{array}{r} ۶۴ \\ \underline{۹} \\ ۵ \end{array}$$

۵. به هر شکل درستی رسم شود که با انواع گسترده‌ی مکعب و مکعب در درسنامه هماهنگ باشد، قابل قبول است.

$$۱۹.۶ = ۷ \text{ بعد از ظهر}$$

$$۱۴.۷ \text{ یا } ۲ \text{ بعد از ظهر}$$

# ریاضی

سوم دبستان

$$۸. ۱۶ = ۷ + ۹ \text{ یا } ۴ \text{ بعد از ظهر}$$

$$۹. ۱۹ - ۱۵ = ۴ \text{ ساعت دیگر باید به مهمانی برود}$$

$$۳ \text{ بعد از ظهر} = ۱۵$$

$$۱۰. ۱۴ = ۱۷ - ۳ \text{ یا } ۲ \text{ بعد از ظهر}$$

$$۱۱. ۱:۲۰' \text{ در راه بوده است.}$$

$$۱۵:۲۰' = ۳:۲۰'$$

$$۱۵:۲۰'$$

$$- ۱۴$$

$$\hline ۱:۲۰'$$

$$۱۲. \text{ گزینه «۴» درست است.}$$

$$۱۸:۳۰'$$

$$- ۱۴:۰۰'$$

$$\hline ۴:۳۰'$$