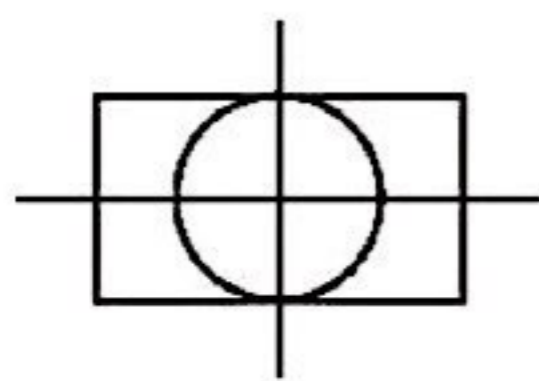
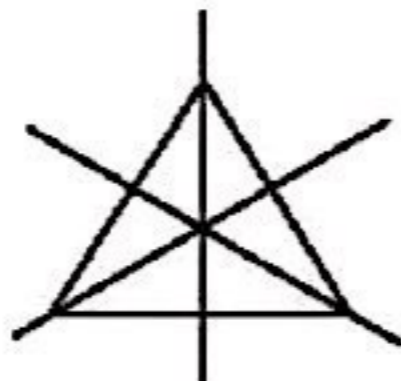


فعالیت کلاسی درس پنجم فصل ۱ صفحه ۳۰:

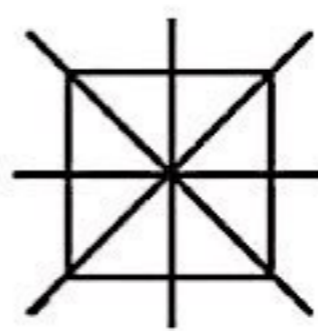
۱.



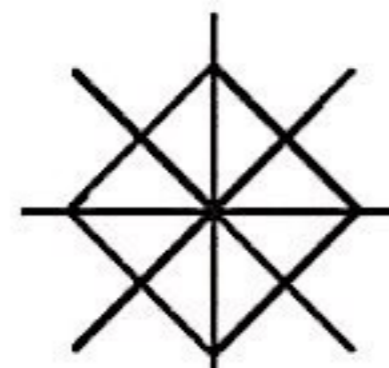
تا ۲



تا ۳

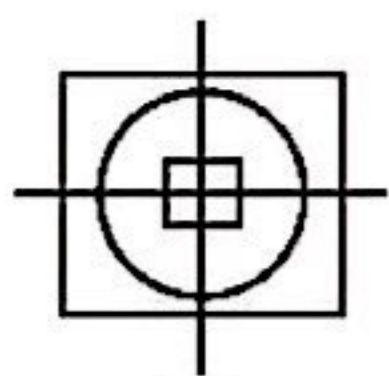


تا ۴



تا ۴

۲.۲ خط تقارن

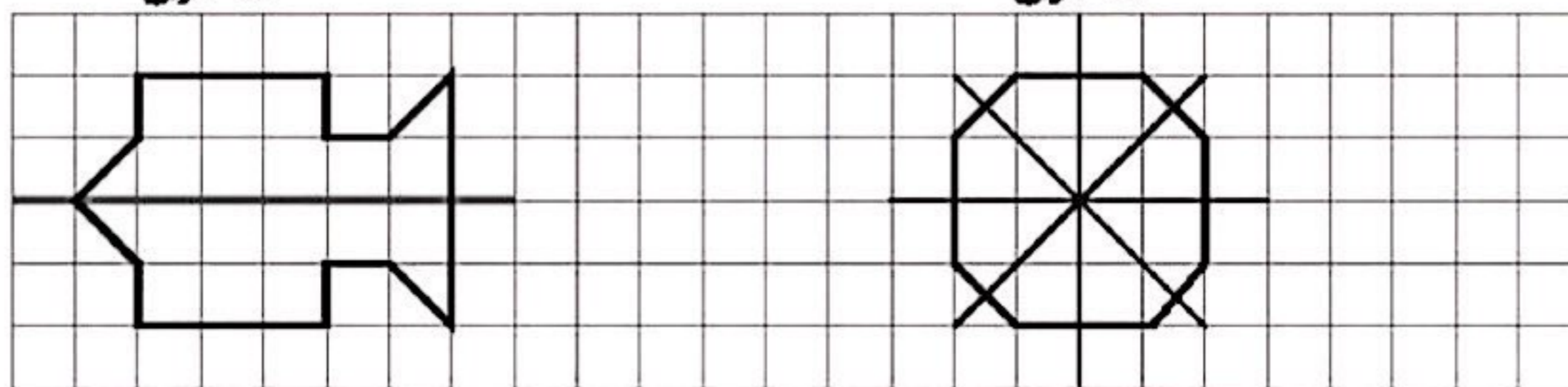


تا ۲

۳.۱ تا ۱۸ تا

۱۸ مربع

۱۴ مربع

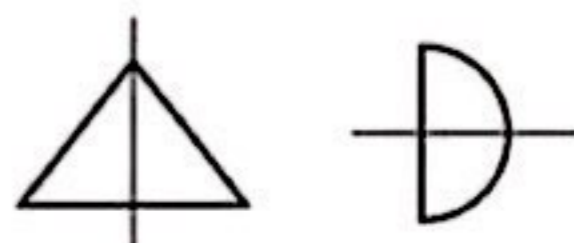


۱ خط تقارن

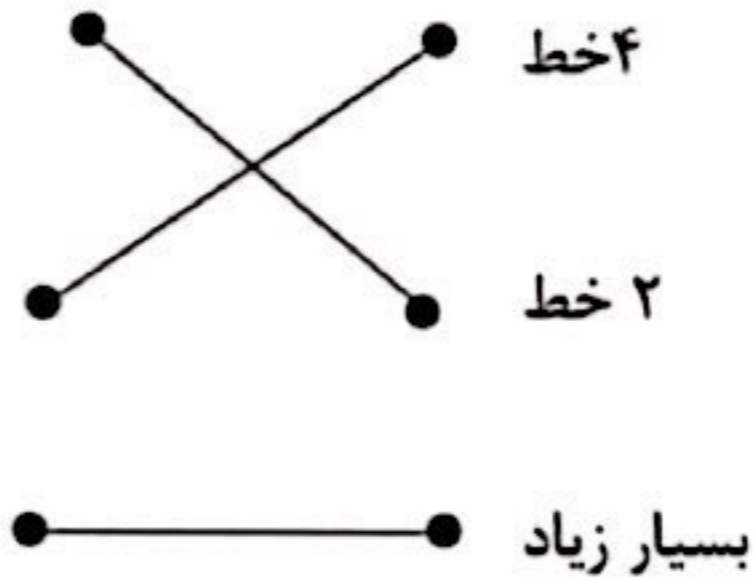
۴ خط تقارن

خط تقارن شکل را به ۲ قسمت کاملاً مساوی تقسیم می کند.

۲.۴ تا




تمرین درس پنجم فصل ۱ صفحه ۳۱:
۱.



۲. الف) نادرست: بی‌نهایت خط تقارن دارد.

ب) نادرست: سه خط تقارن دارد.

۳.



۴. $19 + 19 = 38$


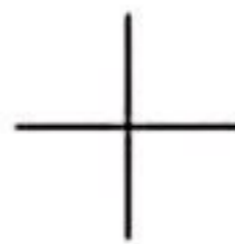
یا

$19, 38$

۵. $7 + 7 + 7 + 7 = 28$

یا

$7, 14, 21, 28$



۶. $9 + 9 + 9 + 9 = 36$

یا

$9, 18, 27, 36$

۷.

$$۱۰ + ۱۰ = ۲۰$$

۸. گزینه «۴» درست است.

