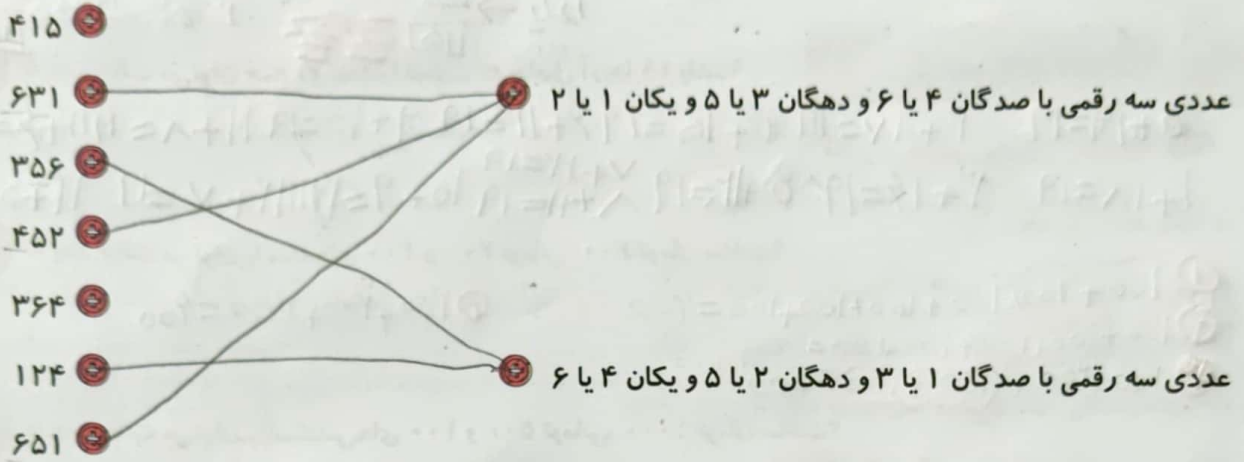


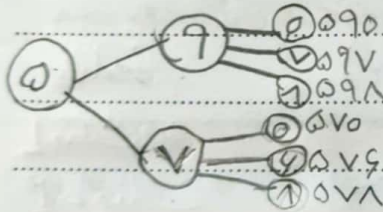
۱ هر عدد را به مشخصات آن وصل کن. (۲ عدد اضافی است).




۲  درست و  نادرست. هر عبارت را مشخص کن.

- الف: با رقم‌های (۰، ۱، ۲) می‌توان ۴ عدد سه رقمی غیر تکراری نوشت.
- ب: با رقم‌های (۱، ۲، ۳) می‌توان ۵ عدد سه رقمی غیر تکراری نوشت.

۳ تمام عددهای سه رقمی را بنویس که رقم صدگان آن‌ها ۵، رقم دهگان آن‌ها ۹ یا ۷ و رقم یکان ۰ یا ۶ یا ۸ باشد.



۴ همه‌ی عددهای سه رقمی را بنویس که رقم یکان آن‌ها ۰، ۴ و ۳ و رقم دهگان آن‌ها ۸ و رقم صدگان آن‌ها ۲ یا ۹ باشد.



۵ در یک کلاس دانش‌آموزان در ردیف‌های ۰ تا ۱۰ مهره قرار داده‌اند و ۱۰ ردیف ۰ تا ۱۰ مهره درست شده است. در کنار آن‌ها نیز ۹ مهره اضافه است. در این کلاس، دانش‌آموزان در کل با چند مهره بازی کرده‌اند؟

ردیف	۱	۲	۳	۴	۵	۶	۷	۸	۹	۱۰	
مهره	۱۰	۲۰	۳۰	۴۰	۵۰	۶۰	۷۰	۸۰	۹۰	۱۰۰	۱۰۹

۶ امید و مریم هر کدام دو جعبه مداد رنگی دارند، یک جعبه ۶ تایی و یک جعبه ۱۲ تایی. در هر جعبه ۶ تایی، یک رنگ سبز و در جعبه ۱۲ تایی، ۳ رنگ سبز وجود دارد. امید و مریم روی هم چند مداد سبز دارند؟

