

## معرفی عدد هزار

### فعالیت




۱۰۰ پاکت ۱۰۰ جعبه



۱- در یک کارخانه‌ی مواد غذایی، ماشین اول ۱۰ کلوچه‌ی کوچک را در یک پاکت بسته‌بندی می‌کند. ماشین دوم ۱۰ پاکت کلوچه را در یک جعبه می‌گذارد. سپس، یک کارگر ۱۰ جعبه را در یک کارتن قرار می‌دهد و در کارتن را می‌بندد. تعداد کلوچه‌های هر جعبه چند است؟ ۱۰۰  
در هر کارتن چند صدتایی کلوچه هست؟ ۱۰

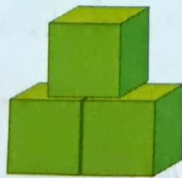
۱۰۰۰ کارتن

۲- در کلاس دوم دبستان یاد گرفتید که می‌توانید ۱۰ تا ۱۰۰ ریالی را با یک ۱۰۰۰ ریالی عوض کنید. علی پول‌های فلک خود را به صورت ۱۰ سکه‌ی ۱۰۰ ریالی بسته‌بندی کرده است تا به بانک بدهد. او ۱۰۰ تا بسته را به بانک برده و بانک به او ۱۰۰۰ ریال داده است. اگر علی ۹ سکه‌ی ۱۰۰ ریالی به بانک بدهد، چند سکه‌ی ۱۰۰ ریالی دیگر باید بدهد تا یک سکه‌ی ۱۰۰۰ ریالی بگیرد؟ یک سکه‌ی صد ریالی




در هر شکل چند مکعب کوچک وجود دارد؟

بشمار و بگو




۳



۴




۶



۱۲



۱- آموزگار دسته‌های ۱۰۰ تایی، ۱۰ تایی و یکی را به گروه‌های دونفری می‌دهد. با کنار هم گذاشتن دسته‌ها الگوها را کامل کنید.



۱۰۰، ۲۰۰، ۳۰۰، ۴۰۰، ۵۰۰، ۶۰۰، ۷۰۰، ۸۰۰، ۹۰۰، ۱۰۰۰

۱ دسته‌ی ۱۰۰ تایی می‌شود ۱۰۰۰.

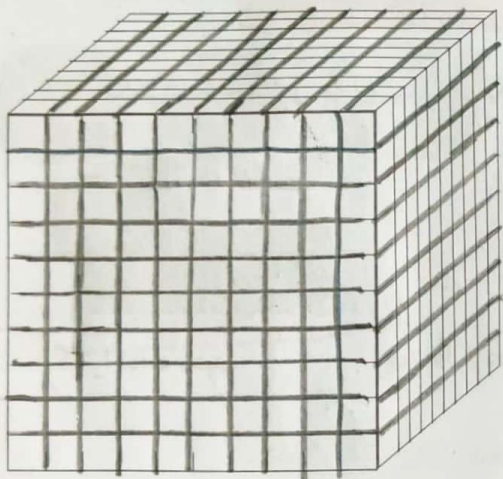
الگوهای زیر را ادامه دهید.

۹۰۰، ۹۱۰، ۹۲۰، ۹۳۰، ۹۴۰، ۹۵۰، ۹۶۰، ۹۷۰، ۹۸۰، ۹۹۰، ۱۰۰۰

۱۰ دسته‌ی ۱۰ تایی می‌شود ۱۰۰۰.

۹۹۰، ۹۹۱، ۹۹۲، ۹۹۳، ۹۹۴، ۹۹۵، ۹۹۶، ۹۹۷، ۹۹۸، ۹۹۹، ۱۰۰۰



۱۰۰ تا یکی می‌شود ۱۰۰۰.




۲- به کمک خط کش بقیه‌ی شکل را کامل کنید.

تعداد مکعب‌های کوچک را بنویسید.

اکنون می‌توانیم برای درست کردن عددهای مختلف از یکی، ده‌تایی، صدتایی و هزارتایی استفاده کنیم.

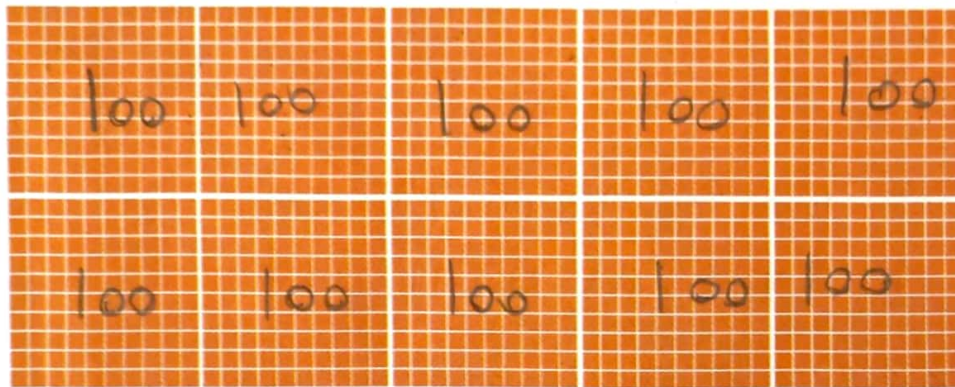


تمرین

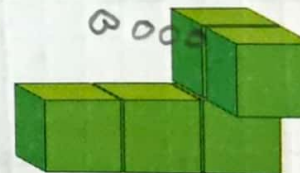




- ۱- عدد ۱۰۰۰ چند تا از ۹۹۱ بیشتر است؟ ۹
- ۲- عدد ۱۰۰۰ چند رقم دارد؟ رقم رار
- ۳- شکل روبه رو چه عددی را نشان می دهد؟ ۱۰۰

۱۰ تا از این شکل را به صورت زیر کنار هم قرار می دهیم. حالا این شکل چه عددی را نشان می دهد؟ ۱۰۰۰



۴- اگر هر مکعب نشان دهنده ۱۰۰۰ باشد، هر یک از شکل های زیر چه عددی را نشان می دهد؟



۱۰۰۰ و ۲۰۰۰ و ۳۰۰۰ و ۴۰۰۰ و ۵۰۰۰ و ۶۰۰۰ و ۷۰۰۰ و ۸۰۰۰ و ۹۰۰۰

۱۰۰۰ و ۳۰۰۰ و ۵۰۰۰ و ۷۰۰۰ و ۹۰۰۰

۲۰۰۰ و ۴۰۰۰ و ۶۰۰۰ و ۸۰۰۰

۵- الگو را ادامه دهید.