

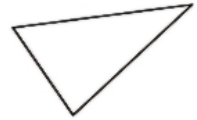
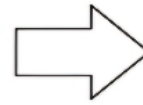

موضوع: ریاضی (فصل ۱)

تاریخ

نام و نام خانوادگی

هدف: مرور فصل ۱

خط تقارن شکل های زیر را رسم کنید.



حاصل جمع های زیر را بنویسید.

$$6 + 7 + 3 + 4 =$$

$$9 + 7 + 5 + 1 =$$

$$2 + 5 + 5 + 8 + 1 + 1 =$$

$$1 + 2 + 3 + 9 + 8 + 7 =$$

حاصل عبارت های زیر را بنویسید.

۱۵	→ +۹	
		۱۲
۲۷		
۵۳		

۲۶	→ -۷	
۳۴		
		۲۷
		۴۳

- برنامه ی کودک تلویزیون ساعت ۱۵:۳۰ پخش می شود. زمان شروع این برنامه ساعت چند بعد از ظهر است؟

- اتوبوسی ساعت ۷ صبح از تهران به سوی تبریز حرکت کرد و بعد از ۹ ساعت به تبریز رسید. این اتوبوس چه زمانی به تبریز رسیده است؟ ساعت یا بعد از ظهر

- جدول زیر را کامل کنید.

زمان	۱۹	۱۶:۱۵		
بعد از ظهر			۱:۲۵	پنج و نیم

