


تمرین



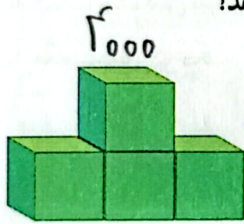
- ۱- عدد ۱۰۰۰ چند تا از ۹۹۱ بیشتر است؟
- ۲- عدد ۱۰۰۰ چند رقم دارد؟
- ۳- شکل روبه‌رو چه عددی را نشان می‌دهد؟

۱۰۰

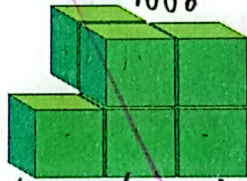
۱۰ تا از این شکل را به صورت زیر کنار هم قرار می‌دهیم. حالا این شکل چه عددی را نشان می‌دهد؟




۴- اگر هر مکعب نشان دهنده ۱۰۰۰ باشد، هر یک از شکل‌های زیر چه عددی را نشان می‌دهد؟



۲۰۰۰



۴۰۰۰



۵۰۰۰

۱۰۰۰ و ۲۰۰۰ و ۳۰۰۰ و ۴۰۰۰ و ۵۰۰۰ و ۶۰۰۰ و ۷۰۰۰ و ۸۰۰۰ و ۹۰۰۰

۱۰۰۰ و ۳۰۰۰ و ۵۰۰۰ و ۷۰۰۰ و ۹۰۰۰


۲۰۰۰ و ۴۰۰۰ و ۶۰۰۰ و ۸۰۰۰

۵- الگو را ادامه دهید.

دلیل بیاور

چون با کنار هم قرار دادن مربع‌ها می‌توان مربع‌ها را کنار هم قرار داد.

کدام شکل باز شده‌ی یک مکعب است؟ برای پاسخ خود دلیل بیاورید.



در جدول ارزش مکانی، عدد شصت راست کمترین ارزش مکانی را دارد و عددی که درست چپ جدول است، بالاترین ارزش مکانی را دارد.

ارزش مکانی


فعالیت



۱- در درس پیش با دسته‌های ۱۰۰۰ تایی، ۱۰۰ تایی، ۱۰ تایی و یکی آشنا شدید.


حالا با این دسته‌ها ابتدا جدول ارزش مکانی را کامل کنید. سپس، آن‌ها را با عدد و حروف بنویسید.

$$۱۳۲۷ = ۱۰۰۰ + ۳۰۰ + ۲۰ + ۷$$



یکان	دهگان	صدگان	هزارگان
------	-------	-------	---------

۱۳۲۷
هزار و سیصد و بیست و هفت
هزارها + سیصدها + بیستها + هفتها



یکان	دهگان	صدگان	هزارگان
------	-------	-------	---------

۱۲۳۶
هزار و دو صد و سی و شش
هزارها + دویستها + سیها + ششها



یکان	دهگان	صدگان	هزارگان
------	-------	-------	---------

۱۰۰۰
هزار و صد و بیست و یک
هزارها + صدها + بیستها + یکها

یکان	دهگان	صدگان	هزارگان
------	-------	-------	---------

۱۰۰۰
هزار و پنجاه و یک
هزارها + پنجاهها + یکها

ریسها

۷	۵	۵	۴
---	---	---	---

هزارها

۲- عددهای بالا، چند رقمی هستند؟ ۴ رقم

۳- یک عدد چهار رقمی بنویسید که رقم یکان آن ۴، دهگان ۵، صدگان ۵ و هزارگان ۷ باشد. ۷۵۵۴

به عدد ۷۵۵۴ به حروف هفت هزار و پنجاه و چهار

اندازه‌گیری کن

۱- طول خط‌ها را با واحد سانتی‌متر بنویسید.

۵ سانتی‌متر

۷ سانتی‌متر

۲- طول خط‌ها را با واحد میلی‌متر بنویسید.

۵ میلی‌متر

۷ میلی‌متر

نکته: همیشه همیشه یک رقم بیشتر از سانتی‌متر است