

فعالیت کلاسی



۱ در عدد ۲۳۴۵ رقم صدگان کدام است؟




۲ جدول را کامل کن تا به خط پایان برسی.



شروع		
۱۰۰	۳۰۰
.....	۵۰۰	۴۰۰
۷۰۰	۸۰۰
	
	
		پایان



۱۰۰



۵۰۰

۳ چند مربع و چند مثلث لازم داری که جمع آن‌ها ۱۰۰۰ شود؟



پیشنهاد اول

پیشنهاد دوم

پیشنهاد سوم

۴ حاصل کدام عبارت ۱۰۰۰ می‌شود؟



(۱) ۳ صدتایی و ۷ ده‌تایی

(۲) ۷ صدتایی و ۳۰ ده‌تایی


۵ سه نمونه از انواع گسترده‌ی مکعب را بکش.




۶ اگر از عدد ۹۰۰ تا ۱۰۲۰ را ده‌تا بنویسیم، روی هم چند تا عدد نوشته‌ایم؟ نشان بده.



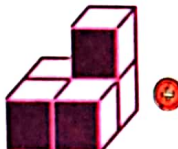
۱ اگر هر مکعب نشان دهنده یک بسته ۱۰۰۰ تایی باشد، با توجه به تعداد مکعب‌ها عدد مربوط به هر شکل را به آن وصل کن.



۶۰۰۰



۵۰۰۰



۷۰۰۰



۲ درستی و نادرستی هر عبارت را مشخص کن.

الف: ۱۰ سکه ۱۰ ریالی مساوی با یک سکه ۱۰۰۰ ریالی است.

ب: ۱۰ تا سکه ۱۰۰ ریالی برابر با یک سکه ۱۰۰ ریالی است.

پ: ۱۰ تا سکه ۱۰ ریالی برابر با یک سکه ۱۰ تومانی است.

۳ الگوهای زیر را کامل کن.

۱۰۰, ۲۰۰, ۳۰۰,

۹۴۰, ۹۵۰, ۹۶۰,

۹۹۴, ۹۹۵, ۹۹۶,

۴ با توجه به الگو در جاهای خالی عدد مناسب بنویس.

۴۰۰۰, ۵۰۰۰, ۶۰۰۰, ۷۰۰۰,

۲۰۰۰, ۴۰۰۰, ۶۰۰۰,

۵ من چه عددی هستم؟ اگر ۲ هزار تایی به من اضافه کنی بزرگ‌ترین عدد چهاررقمی می‌شوم؟

.....

.....

.....