



نام و نام خانوادگی

تاریخ

موضوع:

هدف:


الگوهای زیر را ادامه دهید و شکل را بصورت الگو رنگ کن.

۳، ۶، ۹، ۱۲، ، ،

۱۵۰، ۲۵۰، ۳۵۰، ، ،

۱، ۲، ۴، ۷، ، ،

۰، ۱، ۴، ۹، ، ،



خانه ی سارا در یک ساختمان ۵ طبقه است. هر طبقه آن ۲ واحد دارد. با کمک جدول به سوالات پاسخ دهید.

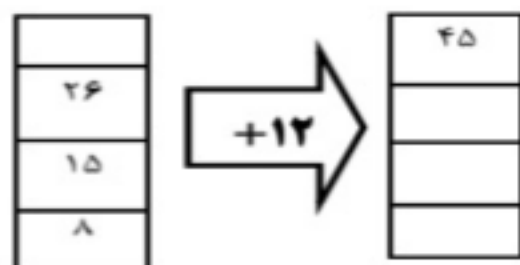
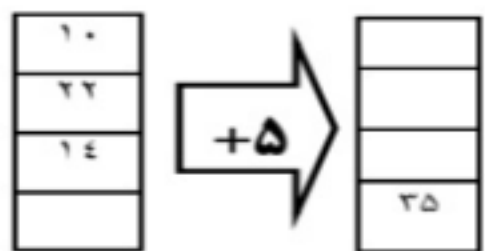
طبقه					
واحد					

۲ طبقه آن چند واحد دارد؟

۳ طبقه آن چند واحد دارد؟

۵ طبقه آن چند واحد دارد؟

جاهای خالی را با عدد مناسب در ماشین های ورودی و خروجی زیر پر کنید؟



جدول زیر را کامل کنید.

زمان	۱۵			بیست و ربع	13:30	
بعد از ظهر		۷	-۲:۱۵			۱۰

خط تقارن شکل های زیر را رسم کنید و بنویسید هر شکل چند خط تقارن دارد.

