

تاریخ: ۱۳۰۳/۸/۱۷

دفتر من

موضوع: تکلیف ریاضی

۱- جمع دو عدد که حاصل آن ۱۳ باشد، به چند حالت می توانیم

بنویسیم؟

۲- سهی رقم های سه رقمی را بنویسید به رقم بیان آن ها ۵۶۶۵۶۹

صدگان ۲ و دهگان آن ۶۶۳ باشد.

۳- محمد نالین سوم است. روز اول او ۱ دقیقه مطالعه می کند.

اگر او هر روز ۵ دقیقه بیشتر مطالعه کند، پس از چند روز می تواند

۳۵ دقیقه مطالعه کند؟

فعالیت کلاسی



۱ در عدد ۲۳۴۵ رقم صدگان کدام است؟

۱

۲ جدول را کامل کن تا به خط پایان برسی.

۲

شروع			
۱۰۰	→ ۲۰۰	→ ۳۰۰	
۶۰۰	← ۵۰۰	← ۴۰۰	
↓ ۷۰۰	→ ۸۰۰	→ ۹۰۰	
		↓ ۱۰۰۰	
		↓	
		پایان	

۳ چند مربع و چند مثلث لازم داری که جمع آن‌ها ۱۰۰۰ شود؟

۳

پیشنهاد اول ۱۰ تا مربع

پیشنهاد دوم ۱ مثلث و ۵ مربع

پیشنهاد سوم ۲ مثلث

۴ حاصل کدام عبارت ۱۰۰۰ می‌شود؟

۴

(۱) ۳ صدتایی و ۷ ده‌تایی = ۳۷۰

(۲) ۷ صدتایی و ۳ ده‌تایی = ۷۳۰ ✓

۵ سه نمونه از انواع گسترده‌ی مکعب را بکش.

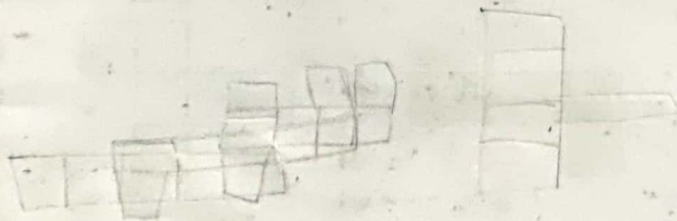
۵



۱۰۰



۵۰۰




۶ اگر از عدد ۹۰۰ تا ۱۰۲۰ را ده‌تا ده‌تا بنویسیم، روی هم چند تا عدد نوشته‌ایم؟ نشان بده.

۶

۹۰۰ - ۹۱۰ - ۹۲۰ - ۹۳۰ - ۹۴۰ - ۹۵۰ - ۹۶۰ - ۹۷۰ - ۹۸۰ - ۹۹۰ - ۱۰۰۰ - ۱۰۱۰ - ۱۰۲۰



۱ اگر هر مكعب نشان دهنده يك بسته ۱۰۰۰ تایی باشد، با توجه به تعداد مكعب‌ها عدد مربوط به هر شكل را به آن وصل كن.



۲ درستی و نادرستی هر عبارت را مشخص كن.

- الف: ۱۰ سكه‌ی ۱۰۰ ریالی مساوی با يك سكه‌ی ۱۰۰۰ ریالی است.
- ب: ۱۰ تا سكه‌ی ۱۰۰ ریالی برابر با يك سكه‌ی ۱۰۰ ریالی است.
- پ: ۱۰ تا سكه‌ی ۱۰ ریالی برابر با يك سكه‌ی ۱۰ تومانی است.

۳ الگوهای زیر را كامل كن.

۱۰۰, ۲۰۰, ۳۰۰, ۴۰۰, ۵۰۰, ۶۰۰, ۷۰۰, ۸۰۰, ۹۰۰, ۱۰۰۰

۹۴۰, ۹۵۰, ۹۶۰, ۹۷۰, ۹۸۰, ۹۹۰, ۱۰۰۰, ۱۰۱۰, ۱۰۲۰, ۱۰۳۰

۹۹۴, ۹۹۵, ۹۹۶, ۹۹۷, ۹۹۸, ۹۹۹, ۱۰۰۰, ۱۰۰۱, ۱۰۰۲, ۱۰۰۳

۴ با توجه به الگو در جاهای خالی عدد مناسب بنویس.

۴۰۰۰, ۵۰۰۰, ۶۰۰۰, ۷۰۰۰, ۸۰۰۰, ۹۰۰۰

۲۰۰۰, ۴۰۰۰, ۶۰۰۰, ۸۰۰۰, ۱۰۰۰۰

۵ من چه عددی هستم؟ اگر ۲ هزار تایی به من اضافه کنی بزرگ‌ترین عدد چهاررقمی می‌شوم؟ ۷۹۹

$$\begin{array}{r} 9999 \\ - 2000 \\ \hline 7999 \end{array}$$

۶ یگانه در جیبش تعداد زیادی سکه‌های ۱۰۰ و ۵۰ ریالی دارد. به نظر شما به چند شکل می‌تواند برای خرید روسری

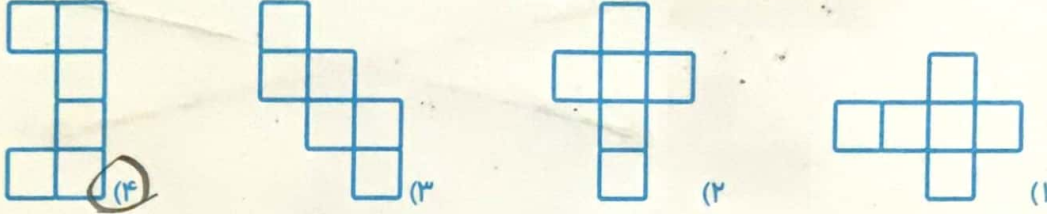
۴۰۰ ریالی، سکه بدهد؟

① $50 + 50 + 50 + 50 + 50 + 50 + 50 + 50 = 400$ ② $100 + 100 + 100 + 50 + 50 = 400$

③ $100 + 50 + 50 + 50 + 50 + 50 + 50 = 400$ ④ $100 + 100 + 100 + 100 = 400$

..... ⑤ $100 + 100 + 50 + 50 + 50 + 50 = 400$ ⑥ $100 + 100 + 100 + 100 = 400$

۷ کدام یک از شکل‌های زیر باز شده یک مکعب نیست؟



زنگ تفریح

معلم به دانش‌آموز گفت: عدد هزار و صد را بنویس.

دانش‌آموز نوشت: ۱۰

خودارزیابی

خیلی خوب خوب قابل قبول نیاز به تلاش

<input type="radio"/>	<input type="radio"/>	<input type="radio"/>	<input type="radio"/>
<input type="radio"/>	<input type="radio"/>	<input type="radio"/>	<input type="radio"/>
<input type="radio"/>	<input type="radio"/>	<input type="radio"/>	<input type="radio"/>

شناسایی اعداد چهاررقمی و نوشتن آن‌ها به رقم و به حروف

توانایی تشخیص الگو در اعداد چهاررقمی و ادامه دادن آن‌ها

توانایی تشخیص انواع گسترده‌های مکعب و رسم آن‌ها