

۱

اگر هر مكعب نشان دهنده يك بسته ۱۰۰۰ تایی باشد، با توجه به تعداد مكعب‌ها عدد مربوط به هر شكل را به آن وصل كن.

۲

درستی و نادرستی هر عبارت را مشخص كن.



الف: ۱۰ سکه‌ی ۱۰ ریالی مساوی با یک سکه‌ی ۱۰۰۰ ریالی است.

ب: ۱۰ تا سکه‌ی ۱۰۰ ریالی برابر با یک سکه‌ی ۱۰۰ ریالی است.

پ: ۱۰ تا سکه‌ی ۱۰ ریالی برابر با یک سکه‌ی ۱۰ تومانی است.

۳

الگوهای زیر را کامل كن.

۱۰۰۰, ۲۰۰۰, ۳۰۰۰, ۴۰۰۰, ۵۰۰۰, ۶۰۰۰, ۷۰۰۰, ۸۰۰۰, ۹۰۰۰, ۱۰۰۰۰

۹۳۰, ۹۵۰, ۹۶۰, ۹۷۰, ۹۸۰, ۹۹۰, ۱۰۰۰, ۱۰۱۰, ۱۰۲۰, ۱۰۳۰

۹۹۳, ۹۹۵, ۹۹۶, ۹۹۷, ۹۹۸, ۹۹۹, ۱۰۰۰, ۱۰۰۱, ۱۰۰۲, ۱۰۰۳

۴

با توجه به الگو در جاهای خالی عدد مناسب بنویس.

۴۰۰۰, ۵۰۰۰, ۶۰۰۰, ۷۰۰۰, ۸۰۰۰, ۹۰۰۰

۲۰۰۰, ۴۰۰۰, ۶۰۰۰, ۸۰۰۰, ۱۰۰۰۰

۵

من چه عددی هستم؟ اگر ۲ هزار تایی به من اضافه کنی بزرگ‌ترین عدد چهاررقمی می‌شوم؟

$7999 + 2000 = 9999$

$9999 - 2000 = 7999$

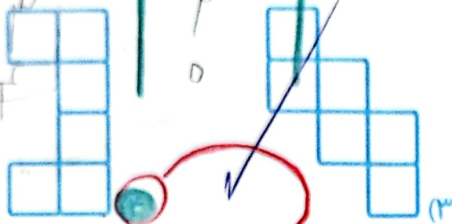
$7999 + 2000 = 9999$

۶ یگانه در جیبش تعداد زیادی سکه‌های ۱۰۰ و ۵۰ ریالی دارد. به نظر شما به چند شکل می‌تواند برای خرید روسری

۴۰۰ ریالی، سکه بدهد؟
دوالت

تالت	۱۰۰ ریالی	۵۰ ریالی
۱	۳	۱
۲	۱	۶
۳	۲	۳
۴	۲	۲
۵	۱	۵

۷ کدام یک از شکل‌های زیر باز شده یک مکعب نیست؟



زنگ تفریح

معلم به دانش‌آموز گفت: عدد هزار و صد را بنویس.
دانش‌آموز نوشت: ۱۰
نکته: * طبق قانون روانای بودن نیاز به هر دو

خودارزیابی

خیلی خوب خوب قابل قبول نیاز به تلاش

<input checked="" type="radio"/>	<input type="radio"/>	<input type="radio"/>	<input type="radio"/>
<input checked="" type="radio"/>	<input type="radio"/>	<input type="radio"/>	<input type="radio"/>
<input checked="" type="radio"/>	<input type="radio"/>	<input type="radio"/>	<input type="radio"/>

شناسایی اعداد چهاررقمی و نوشتن آن‌ها به رقم و به حروف

توانایی تشخیص الگو در اعداد چهاررقمی و ادامه دادن آن‌ها

توانایی تشخیص انواع گسترده‌های مکعب و رسم آن‌ها

ارزش مکانی

در سال گذشته با جدول ارزش مکانی آشنا شدی و امسال با خانه‌ی دیگر این جدول آشنا می‌شویم. به جدول زیر نگاه کن:

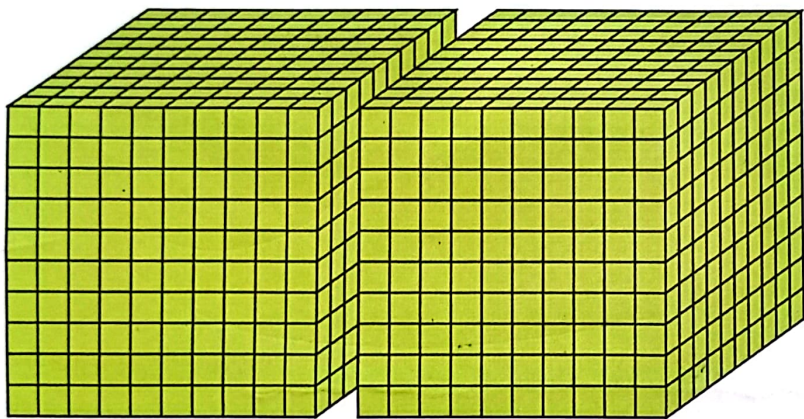
یکان	دهگان	صدگان	هزارگان
------	-------	-------	---------

همان‌طور که می‌دانیم رقم‌ها در هر جای جدول قرار بگیرند، ارزش خاص خود را دارند. به عدد مقابل توجه کن:

۲۰۳۷

یکان	دهگان	صدگان	هزارگان
۷	۳	۰	۲

ارزش مکانی رقم ۷ از همه کم‌تر است، چون در مرتبه یکان می‌باشد و ارزش مکانی رقم (۲) از همه بیش‌تر است، چون در مرتبه هزارگان قرار دارد.



$$2000 > 7$$

پول

باید بدانیم که واحد پول کشور ایران ریال است و هر ۱۰ ریال برابر است با یک تومان.



به مثال زیر دقت کن.

۳۷۰ ریال \rightarrow ۳۷ تومان



۱۴۸۰ ریال \rightarrow ۱۴۸ تومان

مثال: ۳ تا هزار ریالی می‌شود ۳۰۰۰ ریال و ۶ تا صد ریالی می‌شود ۶۰۰ ریال که روی هم می‌شوند:

$$3000 + 600 = 3600$$

۳۶ تا صد ریالی می‌شود ۳۶۰۰ ریال

حالا تو بگو ۲۰ تا ۱۰۰ ریالی چقدر می‌شود؟ ۲۰۰۰ یا ۲۰۰ تومان



۱ با توجه به شکل، جدول ارزش مکانی را کامل کرده، به عدد و حروف بنویس.



هزارگان	صدگان	دهگان	یکان
۳	۲	۵	۴

عدد: ۳۲۵۴


حروف: سه هزار و دو صد و پنجاه و چهار



عدد: ۲۲۲۲

حروف: دو هزار و دو صد و بیست و دو

بیست و چهار



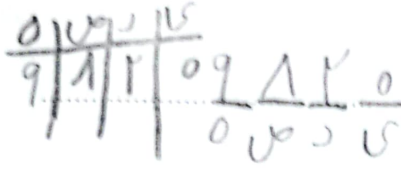
هزارگان	صدگان	دهگان	یکان
۲	۲	۲	۴

عددهایی که ساخته‌ای چند رقم دارند؟ آ رقم

۲ عددهای زیر را به رقم یا حروف بنویس.

سه هزار و هفتصد و بیست و دو	۳۷۴۲
چهار هزار و چهارصد و پنج	۴۴۰۵
هفت هزار و ششصد و بیست و یک	۷۶۲۱
سه هزار و شش	۳۰۰۶
چهار هزار و پانصد و شصت	۴۵۶۰
هفت هزار و سیصد و بیست و نوا	۷۳۲۹
هفت هزار و یکصد و هفتاد	۷۱۷۰
یک هزار و پنجاه	۱۰۵۰


۳ عدد چهاررقمی بساز که یکان آن صفر، دهگان ۲ واحد از یکان بیش تر، صدگان ۸ و هزارگان بزرگ ترین عدد



تروف: نه هزار هشتصد و بیست

فرد یک رقمی باشد.
عدد: ۱۸۰۵

۴ طول خطها را با واحد سانتی متر بنویس.



۱ سانتی متر



۱ سانتی متر

۵ مبلغ ۳۵۰۰ ریال را در نظر بگیر و جاهای خالی را پر کن.

الف: این عدد برابر رقمی است.

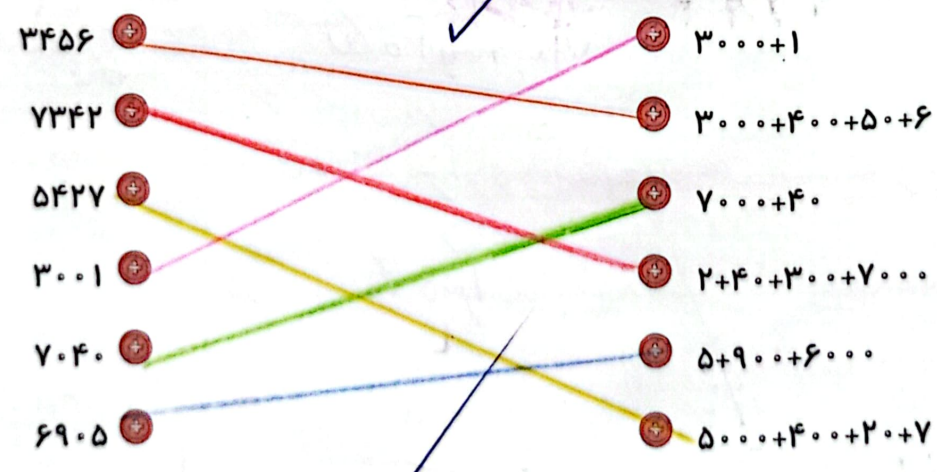
ب: رقم دهگان آن ۵ می باشد.

پ: رقم بیشترین ارزش مکانی را دارد.

ت: این مبلغ برابر با ۱۸۰۵ تومان است.

تمرین

۱ باز شده‌ی هر عدد را به آن وصل کن.



۲ درستی و نادرستی هر عبارت را مشخص کن.

الف: ۱۰ تومان برابر است با ۱۰۰ ریال

ب: ۲۷۰۰ ریال برابر است با ۲۰۰۰ ریال و ۷۰۰ تومان

پ: ۱۶۰ تومان برابر است با ۶۰ ریال و ۱۰۰ تومان

ت: ۳۵۲۰ ریال برابر است با ۳۵۲ تومان