











1 - جاهای خالی را با یکی از کلمه های روبه روی هر جمله پر کنید.

۱۰۰۰ مورچه بزرگ در یک **پارچ** جامی گیرند. (بارج، فنجان، قوطی کبریت)

۱۰۰۰ آدم در یک **باغ** جامی گیرند. (باغ، اتاق، خانه)

۱۰۰۰ کلوجه در یک **کارتن** جامی گیرند. (کبسه فریزر، باکت، کارتن)

۱۰۰۰ مانسین در یک **اتوبان** جامی گیرند. (خيابان فرعی، کوچه، اتوبان)

۱۰۰۰ صندلی در یک **دانشگاه** جامی گیرند. (کلاس، مدرسه، دانشگاه)


۱۰۰۰ کولر آبی در یک **انبار** جامی گیرند. (کامیون، دفترکار، انبار)












الزينة

### الزينة

الزينة هي ما نضعه على رأسنا أو على ملابسنا أو على بيوتنا أو على سياراتنا أو على كل شيء نريده أن يكون جميلاً.  
الزينة هي ما نضعه على رأسنا أو على ملابسنا أو على بيوتنا أو على سياراتنا أو على كل شيء نريده أن يكون جميلاً.  
الزينة هي ما نضعه على رأسنا أو على ملابسنا أو على بيوتنا أو على سياراتنا أو على كل شيء نريده أن يكون جميلاً.



### الزينة


الزينة هي ما نضعه على رأسنا أو على ملابسنا أو على بيوتنا أو على سياراتنا أو على كل شيء نريده أن يكون جميلاً.

NEGAR









علوی

الزئلی حسانی

1. در صورتی که یک جسم را با سرعت 10 م/ث در جهت راست حرکت دهد و در مدت 5 ثانیه متوقف شود، مسافت آن چقدر است؟

| زمان (ثانیه) | سرعت (م/ث) | مسافت (متر) |
|--------------|------------|-------------|
| 0            | 10         | 0           |
| 1            | 10         | 10          |
| 2            | 10         | 20          |
| 3            | 10         | 30          |
| 4            | 10         | 40          |
| 5            | 0          | 50          |

2. اگر یک جسم در مدت 3 ثانیه مسافت 60 متر را طی کند، سرعت آن چقدر است؟

| زمان (ثانیه) | سرعت (م/ث) | مسافت (متر) |
|--------------|------------|-------------|
| 0            | 20         | 0           |
| 1            | 20         | 20          |
| 2            | 20         | 40          |
| 3            | 20         | 60          |

3. اگر یک جسم در مدت 4 ثانیه مسافت 80 متر را طی کند، سرعت آن چقدر است؟

| زمان (ثانیه) | سرعت (م/ث) | مسافت (متر) |
|--------------|------------|-------------|
| 0            | 20         | 0           |
| 1            | 20         | 20          |
| 2            | 20         | 40          |
| 3            | 20         | 60          |
| 4            | 20         | 80          |

4. اگر یک جسم در مدت 5 ثانیه مسافت 100 متر را طی کند، سرعت آن چقدر است؟

| زمان (ثانیه) | سرعت (م/ث) | مسافت (متر) |
|--------------|------------|-------------|
| 0            | 20         | 0           |
| 1            | 20         | 20          |
| 2            | 20         | 40          |
| 3            | 20         | 60          |
| 4            | 20         | 80          |
| 5            | 20         | 100         |

5. اگر یک جسم در مدت 6 ثانیه مسافت 120 متر را طی کند، سرعت آن چقدر است؟

| زمان (ثانیه) | سرعت (م/ث) | مسافت (متر) |
|--------------|------------|-------------|
| 0            | 20         | 0           |
| 1            | 20         | 20          |
| 2            | 20         | 40          |
| 3            | 20         | 60          |
| 4            | 20         | 80          |
| 5            | 20         | 100         |
| 6            | 20         | 120         |

6. اگر یک جسم در مدت 7 ثانیه مسافت 140 متر را طی کند، سرعت آن چقدر است؟

| زمان (ثانیه) | سرعت (م/ث) | مسافت (متر) |
|--------------|------------|-------------|
| 0            | 20         | 0           |
| 1            | 20         | 20          |
| 2            | 20         | 40          |
| 3            | 20         | 60          |
| 4            | 20         | 80          |
| 5            | 20         | 100         |
| 6            | 20         | 120         |
| 7            | 20         | 140         |

7. اگر یک جسم در مدت 8 ثانیه مسافت 160 متر را طی کند، سرعت آن چقدر است؟

| زمان (ثانیه) | سرعت (م/ث) | مسافت (متر) |
|--------------|------------|-------------|
| 0            | 20         | 0           |
| 1            | 20         | 20          |
| 2            | 20         | 40          |
| 3            | 20         | 60          |
| 4            | 20         | 80          |
| 5            | 20         | 100         |
| 6            | 20         | 120         |
| 7            | 20         | 140         |
| 8            | 20         | 160         |

8. اگر یک جسم در مدت 9 ثانیه مسافت 180 متر را طی کند، سرعت آن چقدر است؟

| زمان (ثانیه) | سرعت (م/ث) | مسافت (متر) |
|--------------|------------|-------------|
| 0            | 20         | 0           |
| 1            | 20         | 20          |
| 2            | 20         | 40          |
| 3            | 20         | 60          |
| 4            | 20         | 80          |
| 5            | 20         | 100         |
| 6            | 20         | 120         |
| 7            | 20         | 140         |
| 8            | 20         | 160         |
| 9            | 20         | 180         |

9. اگر یک جسم در مدت 10 ثانیه مسافت 200 متر را طی کند، سرعت آن چقدر است؟

| زمان (ثانیه) | سرعت (م/ث) | مسافت (متر) |
|--------------|------------|-------------|
| 0            | 20         | 0           |
| 1            | 20         | 20          |
| 2            | 20         | 40          |
| 3            | 20         | 60          |
| 4            | 20         | 80          |
| 5            | 20         | 100         |
| 6            | 20         | 120         |
| 7            | 20         | 140         |
| 8            | 20         | 160         |
| 9            | 20         | 180         |
| 10           | 20         | 200         |











