









ارزش مکانی

فعالیت

۱- در درس پیش با دسته‌های ۱۰۰۰ تایی، ۱۰۰ تایی، ۱۰ تایی و یکی آشنا شدید. حالا با این دسته‌ها ابتدا جدول ارزش مکانی را کامل کنید، سپس آن‌ها را با عدد و حرف بنویسید.

هزارگان	صدگان	دهگان	یکان
۱	۳	۲	۷

۱۰۳۲۷
هزار و سی صد و بیست و هفت

هزارگان	صدگان	دهگان	یکان
۱	۲	۴	۶

۱۰۲۴۶
هزار و دو صد و چهل و شش

هزارگان	صدگان	دهگان	یکان
۱	۳	۳	۴

۱۰۳۳۴
ده هزار و سه صد و سی و چهار

هزارگان	صدگان	دهگان	یکان
۷	۵	۰	۵

هزار و پانصد و پنجاه و پنج

۱۰۰۰۰

- ۲- عددی با ۱۰ هزار، ۳ صد و ۴ ده و ۵ یکی
- ۳- یک عدد چهار رقمی که در دهگان ۰ و در صدگان ۵ و در هزارگان ۱ باشد
- ۴- عددی که در دهگان ۰ و در صدگان ۳ و در هزارگان ۱ باشد

۱۵۰۰۰

۱۰ هزارگان ۱۰۰۰۰

۳ صدگان ۳۰۰

۴ دهگان ۴۰






۵ یکی ۵

کتابخانه مرکزی دانشگاه تبریز
۷
۵
۵
۲

به حرف هفت هزار و پینجاه و پنجاه و پنج
۷۰۰۵

۱۰۰۰
۱
۰
۰
۰








۱- طول خط‌ها را با واحد سانتی‌متر بنویسید.

به حروف هفت‌صورتی و بیست‌و نه

- ۲- عددهای بالا، چند رقمی هستند؟ ۴ رقمی
- ۳- یک عدد چهار رقمی بنویسید که رقم یکی آن ۴، دهگانش ۵، صدگانش ۷ و عدد ۲ به

۱۰۰۰				
	۱	۰	۰	۰
یکان	دهگان	صدگان	هزارگان	



مستطیل: مستطیل کے چاروں اطراف برابر ہوتے ہیں۔
مربع: مربع کے چاروں اطراف برابر ہوتے ہیں۔
مستطیل کے چاروں کونے قائم ہوتے ہیں۔
مربع کے چاروں کونے قائم ہوتے ہیں۔
مستطیل کے متقابل اطراف برابر ہوتے ہیں۔
مربع کے متقابل اطراف برابر ہوتے ہیں۔
مستطیل کے متقابل کونے برابر ہوتے ہیں۔
مربع کے متقابل کونے برابر ہوتے ہیں۔
مستطیل کے متقابل اضلاع برابر ہوتے ہیں۔
مربع کے متقابل اضلاع برابر ہوتے ہیں۔
مستطیل کے متقابل کونے برابر ہوتے ہیں۔
مربع کے متقابل کونے برابر ہوتے ہیں۔
مستطیل کے متقابل اضلاع برابر ہوتے ہیں۔
مربع کے متقابل اضلاع برابر ہوتے ہیں۔



