

علوی

حاصل جمع و تفریق‌ها را بنویس.

الف: $2(دهتایی) + 6(دهتایی) = 8(دهتایی)$

ب: $3(هزارتایی) + 2(هزارتایی) = 5(هزارتایی)$

پ: $40 + 30 = 70$

ت: $7(هزارتایی) + 2(هزارتایی) = 9(هزارتایی)$

ث: $700 + 300 = 1000$

ج: $2000 + 500 = 2500$

ج: $600 + 700 = 1300$

ح: $3 + 40 + 6000 = 6043$

خ: $10 + 50 + 100 + 4000 = 4140$

د: $70 + 10 + 100 + 200 + 200 = 510$

ذ: $7(صدتایی) + 4(هزارتایی) + 3(دهتایی) = 4730$

درنا برای خرید یک جامدادی ۸ اسکناس ۱۰۰۰ تومانی و ۲ سکه ۵۰۰ تومانی به فروشنده داد. قیمت جامدادی

چند تومان بود؟

$8000 + 1000 = 9000$

قیمت جامدادی ۹۰۰۰ تومان است.

$2000 + 700 + 30 + 9 = 2739$

چه عددی را باید داخل قرار دهیم تا عبارت درست دربیاید؟

عدد ۶۰۲۱ یعنی ۱ یکی، ۲ دهتایی، ۰ صدتایی، ۶ هزارتایی


الف: عدد ۸۵۵۹ یعنی ۹ یکی، ۵ دهتایی، صفر صدتایی، ۸ هزارتایی

ب: عدد ۱۹۴۴ یعنی ۸ هزارتایی، ۴ یکی، ۹ دهتایی و ۶ صدتایی

پ: عدد ۷۵۵۵ یعنی ۷ هزارتایی و ۵ یکی

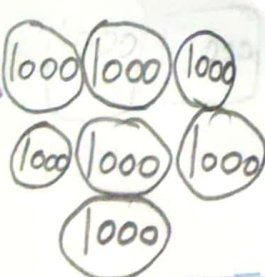
ت: عدد ۲۳۵۰ یعنی ۳ صدتایی و ۲ هزارتایی

به اندازه‌ی عدد داده شده شکل‌ها را کامل کن.




۶۱۹۵

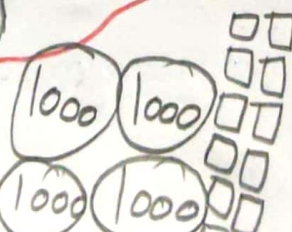
برای هریک از عددهای زیر شکل مناسب بکش.




۷۵۳۲



چهار هزار و چهارده



دو هزار و دو



جاهای خالی را با اعداد مناسب پر کن.

۹

الف: ۳ ده‌تایی، ۵ صدتایی و ۶ هزارتایی و ۲۵ یکی برابر است با ۶۵۵۵

| یکان هزار | صدگان | دهگان | یکان |
|-----------|-------|-------|------|
| ۶ | ۵ | ۵ | ۵ |

ب: ۱۴ ده‌تایی، ۷ هزارتایی و ۳ صدتایی برابر است با ۷۳۴۴

| یکان هزار | صدگان | دهگان | یکان |
|-----------|-------|-------|------|
| ۷ | ۳ | ۴ | ۴ |

پ: ۱۹ صدتایی، ۲۰ ده‌تایی و ۱۲ یکی و ۵ هزارتایی برابر است با ۷۱۱۲

| یکان هزار | صدگان | دهگان | یکان |
|-----------|-------|-------|------|
| ۷ | ۱ | ۱ | ۲ |

۱۰ کدام گزینه درباره‌ی عدد ۷۵۸۱ درست نیست؟

(۲) رقم ۸ بیش‌ترین ارزش مکانی را دارد.

(۱) عدد چهار رقمی می‌باشد.

(۴) رقم یکان آن ۱ است.

(۳) رقم صدگان آن ۵ است.

خودارزیابی

خیلی خوب خوب قابل قبول نیاز به تلاش

| | | | |
|----------------------------------|-----------------------|----------------------------------|----------------------------------|
| <input checked="" type="radio"/> | <input type="radio"/> | <input checked="" type="radio"/> | <input type="radio"/> |
| <input checked="" type="radio"/> | <input type="radio"/> | <input checked="" type="radio"/> | <input type="radio"/> |
| <input type="radio"/> | <input type="radio"/> | <input type="radio"/> | <input checked="" type="radio"/> |
| <input type="radio"/> | <input type="radio"/> | <input type="radio"/> | <input checked="" type="radio"/> |

توانایی تبدیل اعداد چهار رقمی به گسترده و برعکس

توانایی تبدیل ریال و تومان به یکدیگر

توانایی بیان طول پاره‌خطها با میلی‌متر یا سانتی‌متر

نمایش اعداد چهاررقمی در جدول ارزش مکانی