

دو عدد ۱

۱۰۰۰ و ۱۰۰

۱۰۰۰۰
۱۰۰۰۰۰



made in china

brand

resort

این چند تری آن کنون است
۱۰۰۰
۱۰۰۰۰
۱۰۰۰۰۰

از این کنون چند تری آن ارزانتر دارد


۱۰۰۰
۱۰۰۰۰
۱۰۰۰۰۰

۱۰۰۰ → ۱۰۰
۱۰۰۰۰ → ۱۰۰۰
۱۰۰۰۰۰ → ۱۰۰۰۰
۱۰۰۰۰۰۰ → ۱۰۰۰۰۰



۱۰۰۰ → ۱۰۰
۱۰۰۰۰ → ۱۰۰۰
۱۰۰۰۰۰ → ۱۰۰۰۰
۱۰۰۰۰۰۰ → ۱۰۰۰۰۰

۱۰۰۰ → ۱۰۰
۱۰۰۰۰ → ۱۰۰۰
۱۰۰۰۰۰ → ۱۰۰۰۰
۱۰۰۰۰۰۰ → ۱۰۰۰۰۰







Handwritten notes on a spiral notebook page, featuring mathematical problems and solutions in Persian. The page includes a title box, a list of problems, and detailed solutions with diagrams.

Section 1: Problems

- 1) ...
- 2) ...
- 3) ...
- 4) ...
- 5) ...
- 6) ...
- 7) ...

Section 2: Solutions

1) ...

2) ...

3) ...

4) ...

5) ...

6) ...

7) ...

Section 3: Diagrams

Diagrams showing mathematical relationships with numbers and symbols:

- Diagram 1: $100 \div 10 = 10$
- Diagram 2: $100 \div 10 = 10$
- Diagram 3: $100 \div 10 = 10$
- Diagram 4: $100 \div 10 = 10$
- Diagram 5: $100 \div 10 = 10$
- Diagram 6: $100 \div 10 = 10$
- Diagram 7: $100 \div 10 = 10$



۷ یلدا و رضا هر کدام ۲ کیسه میوه دارند، یک کیسه ۱۰ تایی میوه و یک کیسه ۵ تایی. در

هر کیسه ۵ تایی ۷ عدد سیب است، یلدا و رضا روی هم چند عدد سیب دارند؟

۱۵
۷

$$11 + 11 = 22$$

روی هم ۲۲ سیب دارند

۸ به چند حالت می توان جمع دو عدد را نوشت که حاصل آن ها ۱۹ باشد؟

۴ + ۱۵ ۶ + ۱۳ ۱ + ۱۸ ۱۱ + ۸ ۱۳ + ۶ ۱۵ + ۴ ۱۷ + ۲

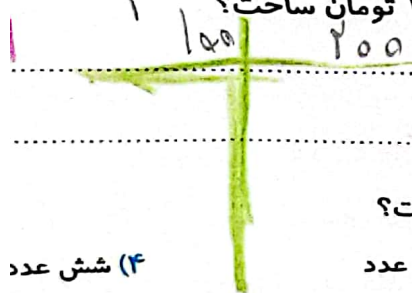
۵ + ۱۴ ۷ + ۱۲ ۹ + ۱۰ ۱۲ + ۷ ۱۴ + ۵ ۱۶ + ۳ ۱۸ + ۱

۹ به چند حالت می توان با سکه های ۱۰۰ و ۲۰۰ تومانی، ۶۰۰ تومان ساخت؟

سکه ها (مدرسه یار است)

۳
۲
۱۰۰
۲۰۰

با ۵ تومانی، ۱۰۰۰ تومان ساخت؟



۱۱ با رقم های (۳، ۵، ۹) چند عدد سه رقمی غیر تکراری می توان نوشت؟

۴ شش عدد

۳ پنج عدد

۲ چهار عدد

۱ سه عدد

۱۲ به چند حالت می توان با سکه های ۵۰ و ۲۵۰ و ۵۰۰ تومان ساخت؟

۴ چهار حالت

۳ سه حالت

۲ دو حالت

۱ یک حالت

زنگ تفریح

آیا می دانید الگوسازی در طراحی لباس و دوخت بسیار کاربرد دارد؟ کسانی که می توانند الگوهای زیبایی الگوسازی جمعی خوبی داشته باشند در صنعت مد و مدینگ پیشرفت بسیاری می کنند.

خودارزیابی

خیلی خوب	خوب	قابل قبول	نیاز به
<input type="radio"/>	<input type="radio"/>	<input type="radio"/>	<input type="radio"/>
<input type="radio"/>	<input type="radio"/>	<input type="radio"/>	<input type="radio"/>
<input type="radio"/>	<input type="radio"/>	<input type="radio"/>	<input type="radio"/>

- توانایی حل مسئله با کاربرد الگوسازی
- بررسی جمع اعداد با کمک الگوسازی و قانون گذاری حالت های مختلف
- توانایی مرتب کردن و دسته بندی اطلاعات اعداد هر مسئله با استفاده از الگوسازی







روش تدریس

۱۱) با رقمهای ۳، ۴، ۵، ۶ چند عدد سه رقمی می توان نوشت؟
۱۲) با رقمهای ۱، ۲، ۳، ۴، ۵، ۶، ۷، ۸، ۹، ۰ چند عدد سه رقمی می توان نوشت؟
۱۳) با رقمهای ۱، ۲، ۳، ۴، ۵، ۶، ۷، ۸، ۹، ۰ چند عدد سه رقمی می توان نوشت که مجموع رقمهای آن ۱۰ باشد؟
۱۴) با رقمهای ۱، ۲، ۳، ۴، ۵، ۶، ۷، ۸، ۹، ۰ چند عدد سه رقمی می توان نوشت که مجموع رقمهای آن ۱۱ باشد؟
۱۵) با رقمهای ۱، ۲، ۳، ۴، ۵، ۶، ۷، ۸، ۹، ۰ چند عدد سه رقمی می توان نوشت که مجموع رقمهای آن ۱۲ باشد؟
۱۶) با رقمهای ۱، ۲، ۳، ۴، ۵، ۶، ۷، ۸، ۹، ۰ چند عدد سه رقمی می توان نوشت که مجموع رقمهای آن ۱۳ باشد؟
۱۷) با رقمهای ۱، ۲، ۳، ۴، ۵، ۶، ۷، ۸، ۹، ۰ چند عدد سه رقمی می توان نوشت که مجموع رقمهای آن ۱۴ باشد؟
۱۸) با رقمهای ۱، ۲، ۳، ۴، ۵، ۶، ۷، ۸، ۹، ۰ چند عدد سه رقمی می توان نوشت که مجموع رقمهای آن ۱۵ باشد؟
۱۹) با رقمهای ۱، ۲، ۳، ۴، ۵، ۶، ۷، ۸، ۹، ۰ چند عدد سه رقمی می توان نوشت که مجموع رقمهای آن ۱۶ باشد؟
۲۰) با رقمهای ۱، ۲، ۳، ۴، ۵، ۶، ۷، ۸، ۹، ۰ چند عدد سه رقمی می توان نوشت که مجموع رقمهای آن ۱۷ باشد؟





نا علی نژاد





مادر



مادر



پدر




مادر بزرگ

مادر بزرگ



مادر بزرگ



پدر بزرگ

وینا علی نژاد



