



۱- با ۵۰۰۰ ریال چه چیزی می توان خرید؟

آبشار سوزن

با ۱۰۰۰ تومان چه چیزی می توان خرید؟

یک عدد خان لواش

با ۵۰۰۰ تومان چه چیزی می توان خرید؟

یک عدد خان مبرری

< = >

۲- یک دلار کشور شورستان به اندازه ی ۱۰۰۰ تومان ارزش دارد.

۴ دلار این کشور ارزش بیشتری دارد یا ۳۵۲۸ تومان؟ چرا؟

|       |      |      |      |      |
|-------|------|------|------|------|
| دلار  | ۱    | ۲    | ۳    | ۴    |
| تومان | ۱۰۰۰ | ۲۰۰۰ | ۳۰۰۰ | ۴۰۰۰ |

۳- یک ریال ایران به اندازه ی ۱۰۰۰ لیره ی کشور قندستان می ارزد.

۴ ریال ایران با ارزش تر است یا ۴۵۰۰ لیره ی قندستان؟ چرا؟

|      |      |      |      |      |
|------|------|------|------|------|
| ریال | ۱    | ۲    | ۳    | ۴    |
| لیره | ۱۰۰۰ | ۲۰۰۰ | ۳۰۰۰ | ۴۰۰۰ |

۴- ۱۰۰ تومان با ارزش تر است یا ۹۸۹ ریال؟

۱۰۰ ریال < ۶۸۹ ریال

نکته: در صفایه باید حواصه عین هم با نشت مثال تقریباً کبوتر باز با باز کند هم جنس با هم جنس پرواز



اندازه گیری کن

در شکل روبه رو می بینید که چگونه پارچه را با متر اندازه گیری می کنند.



۱۳۷ سانتی متر یعنی یک متر و ۳۷ سانتی متر.

$$137 = 100 + 37$$

↓                      ↓

۱ متر                  ۳۷ سانتی متر

حالا شما هم با یک متر پارچه ای، قد خود و طول میزتان را اندازه بگیرید.

## تمرین



۳ دلار این کشور ۳۶۰ تومان  
ارزش دارد

۱- یک دلار کشور شکرستان ۱۲۰۰ تومان ارزش دارد. ۳ دلار این کشور چند تومان ارزش دارد؟

|       |      |      |      |
|-------|------|------|------|
| دلار  | ۱    | ۲    | ۳    |
| تومان | ۱۲۰۰ | ۲۴۰۰ | ۳۶۰۰ |

۲- ارزش ۲۱۰۰ لیره‌ی کشوری ۱۰ ریال ایران است. ۲ تومان ایران چند لیره‌ی آن کشور است؟

|       |      |      |
|-------|------|------|
| لیره  | ۲۱۰۰ | ۴۲۰۰ |
| ریال  | ۱۰   | ۲۰   |
| تومان | ۱    | ۲    |

۳ تومان ۴۲۰۰ لیره باشد

۳- عدد هفت هزار و چهارصد و سی را با رقم بنویسید.

۷۴۳۰

عدد ۶۸۷۲ را با حروف بنویسید. شش هزار و هشتصد و七十二

۴- الگوها را ادامه دهید.



۱۰۰۰ و ۱۱۰۰ و ۱۲۰۰ و ..... و ..... و ..... و .....

۱۰۰۰ و ۱۵۰۰ و ۲۰۰۰ و ..... و ..... و ..... و .....

۵- از ۱۰۰۰ تا ۳۰۰۰ را ۲۰۰ تا ۲۰۰ بنویسید.

۱۰۰۰ و ۱۲۰۰ و .....

۶- از ۵۰۰۰ تا ۶۰۰۰ را ۱۰۰ تا ۱۰۰ بنویسید.

## کامل کن



سارا و پدر و مادرش با ماشین به طرف تهران می‌رفتند.

سارا که تابلوهای کنار جاده را می‌خواند، از پدرش پرسید:

«تهران ۴۰ یعنی چه؟»

پدرش جواب داد: «یعنی فاصله‌ی اینجا تا شهر تهران ۴۰ کیلومتر است.»

از واحد کیلومتر برای اندازه‌گیری طول‌های زیاد مثل فاصله‌ی بین دو شهر











استفاده می‌کنند.

هر کیلومتر ۱۰۰۰ متر است. ۳ کیلومتر چند متر است؟

۷۰۰۰ متر چند کیلومتر است؟

# آموزش ضرب ۳

فعالیت  
کلاس  
شکل ضرب

| شکل ضرب  | عبارت ضرب          | عبارت فارسی         | جمع                      | الگو            |
|--|--------------------|---------------------|--------------------------|-----------------|
|    | $1 \times 3 = 3$   | یک دسته ۳ تایی      | ۳                        | ۳               |
|    | $2 \times 3 = 6$   | دو تا دسته ۳ تایی   | $3 + 3 = 6$              | ۳، ۶            |
|    | $3 \times 3 = 9$   | سه تا دسته ۳ تایی   | $3 + 3 + 3 = 9$          | ۳، ۶، ۹         |
|    | $4 \times 3 = 12$  | چهار تا دسته ۳ تایی | $3 + 3 + 3 + 3 = 12$     | ۳، ۶، ۹، ۱۲     |
|  | $5 \times 3 = 15$  | پنج تا دسته ۳ تایی  | $3 + 3 + 3 + 3 + 3 = 15$ | ۳، ۶، ۹، ۱۲، ۱۵ |
|  | $6 \times 3 = 18$  |                     |                          |                 |
|  | $7 \times 3 = 21$  |                     |                          |                 |
|  | $8 \times 3 = 24$  |                     |                          |                 |
|  | $9 \times 3 = 27$  |                     |                          |                 |
|  | $10 \times 3 = 30$ |                     |                          |                 |

