

(۱) الگوها را ادامه دهید.

۸۵, ۹۲, ۹۹,,,

.....,,, ۴۲۴, ۴۳۰, ۴۳۶

۱, ۴, ۹, ۱۶,,,

۱, ۳, ۶,,,,

۲) یک فروشنده نوعی شکلات را بسته ای ۳۰۰ تومان می خرد و ۴۵۰ تومان می فروشد.
با پر کردن جدول به سوال های زیر پاسخ دهید.

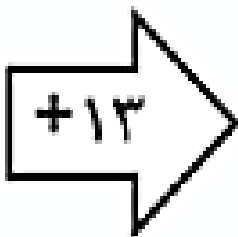
الف) اگر ۴ بسته شکلات بفروشد، چند تومان سود می کند؟

ب) چند بسته شکلات بفروشد تا ۷۵۰ تومان سود کند؟

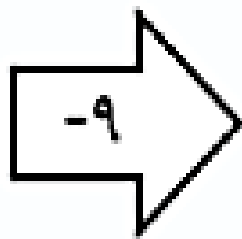
ج) چند بسته شکلات بفروشد تا با سود آن ها یک بسته شکلات بخرد؟

شکلات					
سود					

۱۰
۹۹
۵۶۲



۶۹

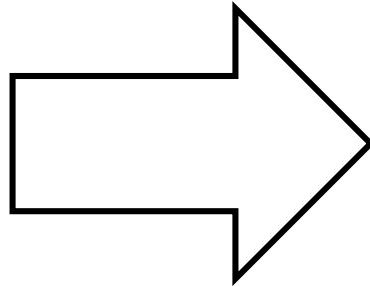


۴۹

۳) جاهای خالی را کامل کنید.

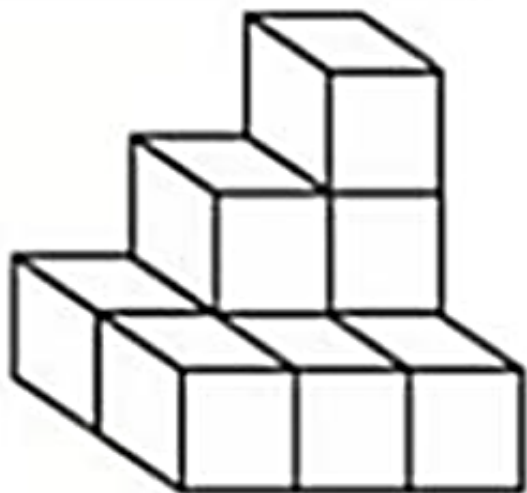
۴) جاهای خالی را کامل کنید.

۱۵
۹
۲۹۸





۱۷
۲۰

۵) شکل مقابل از چند مکعب ساخته شده است؟



۶) دسته بندی کنید و عبارت جمع بنویسید.



۷) جدول ها را کامل کنید.

ساعت	۲۰:۴۵	۱۸			۱۴:۱۵		
بعد از ظهر			هفت و نیم	۱۰:۲۰		سه و ربع	۱:۱۰

ساعت	۱۶		۱۷:۱۵		۲۲ و ربع
بعد از ظهر		۲:۲۵		۶:۳۰	

۱) همه ی عددهای سه رقمی را بنویسید که رقم یکان آن ها ۲ و ۰ و ۵ و رقم دهگان آن ها ۶ و رقم صدگان آن ها ۸ یا ۱ باشد.