

(۱) الگوها را ادامه دهید.

۸۵, ۹۲, ۹۹, ....., ....., .....

....., ....., ....., ۴۲۴, ۴۳۰, ۴۳۶

۱, ۴, ۹, ۱۶, ....., ....., .....

۱, ۳, ۶, ....., ....., ....., .....

۲) یک فروشنده نوعی شکلات را بسته ای ۳۰۰ تومان می خرد و ۴۵۰ تومان می فروشد.

با پر کردن جدول به سوال های زیر پاسخ دهید.


الف) اگر ۴ بسته شکلات بفروشد، چند تومان سود می کند؟

ب) چند بسته شکلات بفروشد تا ۷۵۰ تومان سود کند؟

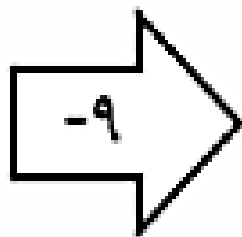
ج) چند بسته شکلات بفروشد تا با سود آن ها یک بسته شکلات بخرد؟

شکلات					
سود					

۱۰
۹۹
۵۶۲



۶۹

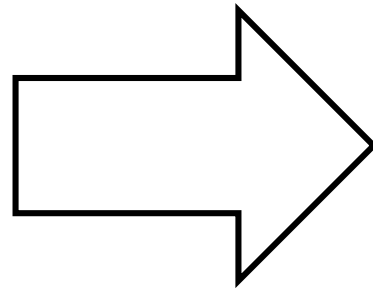


۴۹

۳) جاهای خالی را کامل کنید.

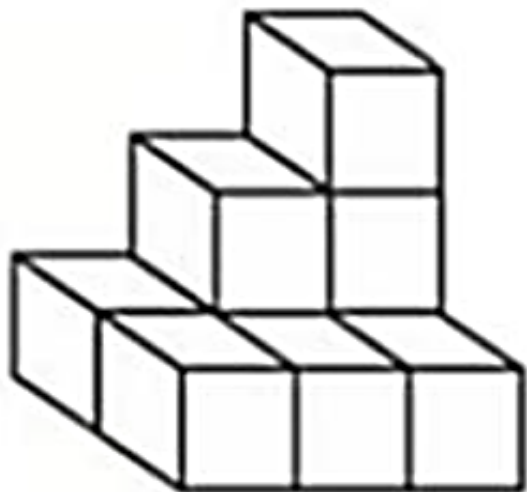
۴) جاهای خالی را کامل کنید.

۱۵
۹
۲۹۸





۱۷
۲۰

۵) شکل مقابل از چند مکعب ساخته شده است؟



۶) دسته بندی کنید و عبارت جمع بنویسید.



۷) جدول ها را کامل کنید.

ساعت	۲۰:۴۵	۱۸			۱۴:۱۵		
بعد از ظهر			هفت و نیم	۱۰:۲۰		سه و ربع	۱:۱۰

ساعت	۱۶		۱۷:۱۵		۲۲ و ربع
بعد از ظهر		۲:۲۵		۶:۳۰	

۱) همه ی عددهای سه رقمی را بنویسید که رقم یکان آن ها ۲ و ۰ و ۵ و رقم دهگان آن ها ۶ و رقم صدگان آن ها ۸ یا ۱ باشد.



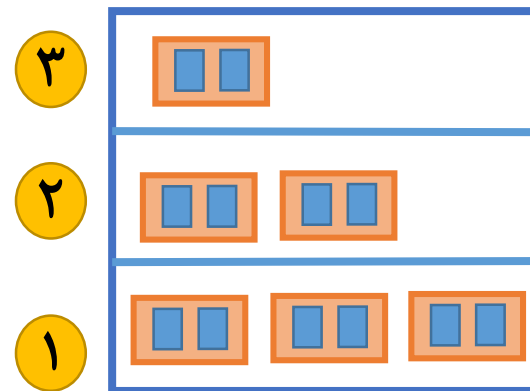
۹) به چند حالت می توانیم با سکه های ۱۰۰ و ۵۰ ریالی، ۳۰۰ ریالی درست کنیم.

۱۰) ساختمان ۳ طبقه ای داریم. بالاترین طبقه ی آن یک واحد دارد.  
 هر طبقه که پایین می رویم یک واحد اضافه می شود. اگر در هر واحد  
 ۲ اتاق داشته باشد:

الف) جدول را کامل کنید.

ب) طبقه ی دوم چند واحد دارد؟  
 پ) طبقه ی اول چند اتاق دارد؟

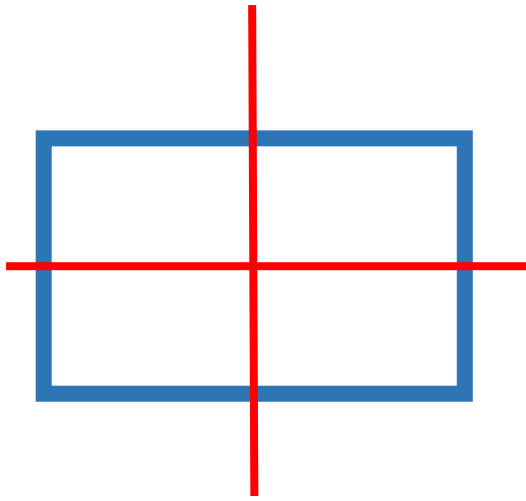
طبقه	
واحد	
اتاق	



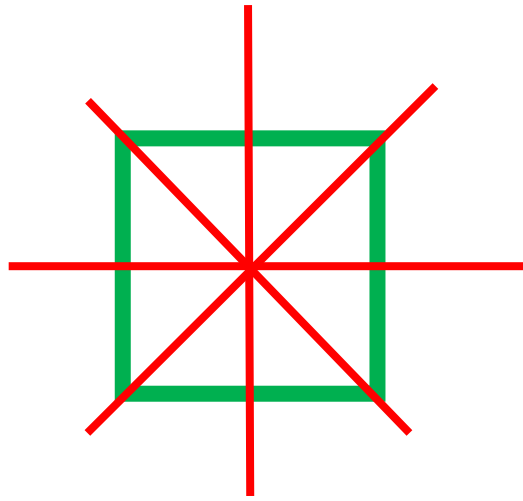
۱۱) امروز سه شنبه و اولین روز ماه است. تا آخر این ماه، سه شنبه ها چه روزهایی از ماه هستند؟

۱۲) تمام حالت هایی را بنویسید که جمع دو عدد ۶ شود.

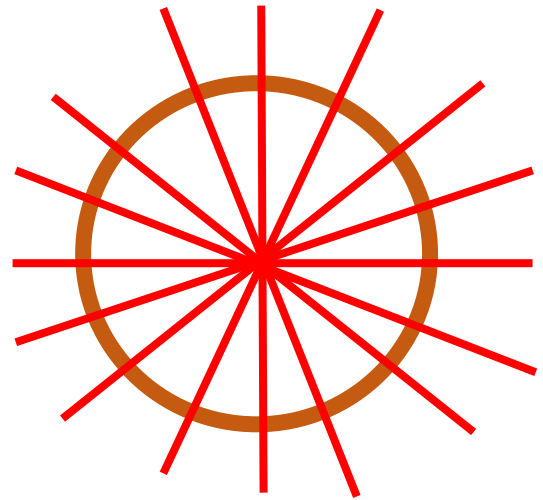
# تقارن



مستطیل ۲ خط تقارن دارد.



مربع ۴ خط تقارن دارد.



دایره بی شمار خط تقارن دارد.

۱۳) با توجه به خط تقارن، نیمه ی دیگر شکل ها را کامل کنید و تعداد مربع های شکل ها را بنویسید.

