









اگر یکجانبه باشد یعنی در یک طرف منتهی است
و یکجانبه در آن است
اگر دو طرف منتهی باشد یعنی در دو طرف منتهی است
و دو طرفه در آن است
اگر سه طرف منتهی باشد یعنی در سه طرف منتهی است
و سه طرفه در آن است
اگر چهار طرف منتهی باشد یعنی در چهار طرف منتهی است
و چهار طرفه در آن است

۱- اوج و عمق هر کلمه از عبارات معنی در جدول معنی بنویسید

مربع	مستطیل	مخمس	مستطیل	مربع	مستطیل
مربع	مستطیل	مخمس	مستطیل	مربع	مستطیل
مربع	مستطیل	مخمس	مستطیل	مربع	مستطیل
مربع	مستطیل	مخمس	مستطیل	مربع	مستطیل

شکل



این کلمه را در جملات زیر بنویسید
۱- مربعی از این میوه را میوه نامیده اند
۲- این میوه را میوه نامیده اند




Handwritten text and diagrams in the notebook. The page features a grid of shapes (squares, triangles, diamonds, circles) and some handwritten text. There are also small illustrations of a yellow and green fruit, a pink envelope, and a purple folder.



با رنگ‌های مختلف رنگ کنید.
حرکت‌های مختلف را در کتاب‌های خود نشان دهید.
حرکت‌های مختلف را در کتاب‌های خود نشان دهید.
حرکت‌های مختلف را در کتاب‌های خود نشان دهید.

این اشکال هندسی را با نام‌های خود نام کنید.
مربع
مستطیل
مثلث
دایره
مخمس
شش‌ضلعی
هشت‌ضلعی



مربع

مستطیل

مثلث

دایره


مخمس

شش‌ضلعی

هشت‌ضلعی












مرور فصل



از پدر یا مادر خود مقداری پول بگیرید. با آن پول چیزی بخرید. پول را به فروشنده بدهید و باقی مانده ی آن را از او پس بگیرید. ماجرای این خرید خود را به اضافه ی مقدار پولی که داشته اید، چیزی که خریده اید و مقدار پول باقی مانده را بنویسید.

از پدرم 1000 تومان پول گرفتم و به مغازه رفتم و یک بستنی به قیمت 700 تومان خریدم. وقتی 1000 تومانی را به فروشنده دادم به من یک سکه 200 تومانی و یک سکه 100 تومانی داد





Handwritten mathematical content on a whiteboard:

- Top Left:** A number line from 0 to 10. Below it, a small table with numbers 1-10 and arrows indicating a sequence.
- Top Center:** A box containing the number 2973. To its right, a box with the equation $2 \times 3 = 6$.
- Top Right:** A diagram showing a grid with numbers and arrows, possibly representing a multiplication or addition process.
- Middle Left:** A vertical stack of colored blocks (purple, blue, green, yellow, red) with mathematical symbols: \times , $+$, $-$, \div .
- Middle Center:** A diagram with a central point and lines extending outwards, labeled with terms like "نقاط" (Points), "خط" (Line), "خطوط" (Lines), "شعاع" (Ray), and "زاویه" (Angle).
- Middle Right:** A large, colorful title "سپهرین ستم افزون ریاضی جبهه" (Sapheerain Sastam Afzun Math Front) with a blue heart.
- Bottom Center:** A drawing of a girl with long brown hair, wearing a red dress, with the text "خارجی" (Foreign) above her.
- Bottom Right:** The text "رضویہ" (Rasooliyah) with a purple heart.

