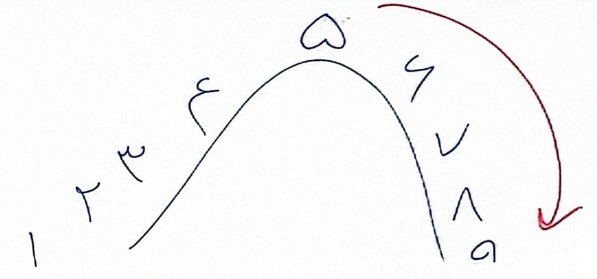



تقریب تلاقی


۳، ۸، ۴

$7\overset{\circ}{9}9\overset{\circ}{2} = 8000$
 $7\overset{\circ}{9}9\overset{\circ}{2} = 7700$
 $7\overset{\circ}{9}9\overset{\circ}{2} = 7690$



7990

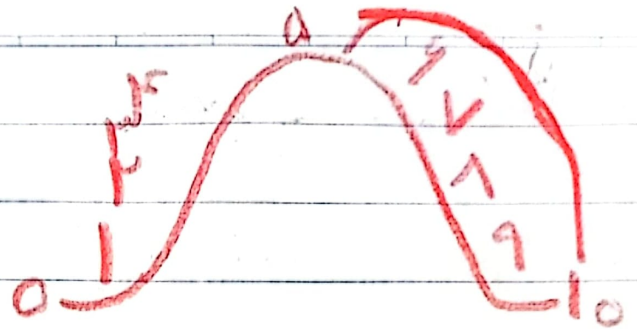
~~7990~~
~~7900~~
~~7900~~



1x5=5	1x
2x5=10	2x
3x5=15	3x
4x5=20	4x
5x5=25	5x
6x5=30	6x
7x5=35	7x
8x5=40	8x
9x5=45	9x

۲۰۳۰ ، ۵۱/۳

تعیین کلاس



$\overset{0000}{\cancel{7691}} = 8000$ هزاران
 $\overset{000}{\cancel{7690}} = 7700$ صدگان
 $\overset{00}{\cancel{769}} = 760$ دهگان

تقریب کردن
(مسایه مهم)

$\overset{000}{\cancel{7694}} = 7700$

$\overset{0}{\cancel{7694}} = 7690$
 $\overset{00}{\cancel{7693}} = 7600$
 $\overset{000}{\cancel{7692}} = 7000$

حذف کردن
ص ^ص _ص ^ص _ص ^ص _ص

(مسایه اهمیت)

(باید صفر بذاریم)

پرسش کلاسی

~~۵۰۰۰~~ = ۵۰۰۰

~~۷۱۰۰~~ = ۷۱۰۰

~~۲۰۰۰~~ = ۲۰۰۰

~~۳۷۰۰~~ = ۳۷۰۰

~~۵۶۶۰~~ = ۵۶۶۰

به تقریب هزارگان

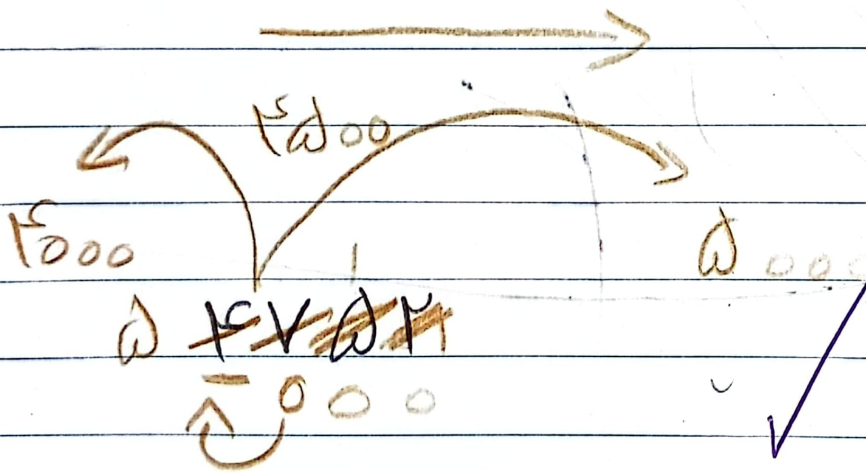
به تقریب صدگان

به تقریب هزارگان

به تقریب صدگان

به تقریب دهگان

به تقریب هزارگان



۱ متر ۱۰۰ سانتی متر

۳ متر ۳۰۰ سانتی متر

۷۳۴ سانتی متر \checkmark متر
۳۴ سانتی متر


۱ کیلو متر ۱۰۰۰ متر

۴ کیلو متر ۴۰۰۰ متر

۳۴۲ متر کیلو ۳۴۲ متر

۱ کیلو گرم ۱۰۰۰ گرم

۳۷۲ وات گرم و کیلو ۳۷۲ وات





موضوع: تکرار و تمرین مبحث اندازه گیری

تاریخ

نام و نام خانوادگی

۱) ۶۲۷ سانتی متر متر و سانتی متر است.



۲۰۷ سانتی متر متر و سانتی متر است.

۱۲۰۰ سانتی متر متر و سانتی متر است.

۳ متر و ۲۰ سانتی متر یعنی سانتی متر ، ۴۰ متر یعنی سانتی متر

۲) هر یک کیلومتر ۱۰ تا صد متر است.

۵ کیلومتر چند ۱۰۰ متر است؟

۳ کیلومتر چند ۱۰۰ متر است؟

۳) یک کیلوگرم ۱۰۰۰ گرم است.

۷۰۰۰ گرم چند کیلوگرم است؟


۳۰۰۰ گرم چند کیلوگرم است؟

۳۲۰۰ گرم یعنی کیلوگرم و گرم

۵۷۵۰ گرم یعنی کیلوگرم و گرم

۱۳۵۹ گرم یعنی کیلوگرم و گرم





موضوع: تقریب

تاریخ

نام و نام خانوادگی

هدف: تثبیت یادگیری

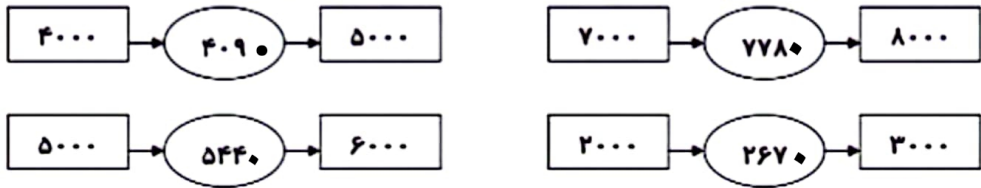
۱- با توجه به محور ، عددهای داده شده را به صورت تقریبی نشان دهید .



۲۷ و ۴۳۹
۱۰۵ و ۲۴۷ و ۸۰۷

۹۲۰ و ۲۲۵۰ و ۴۷۸۶ و ۶۰۷۴ و ۸۱۱۱

۲- عدد داخل دایره به کدام عدد در مربع ها نزدیک تر است ؟ آن مربع را رنگ کنید .

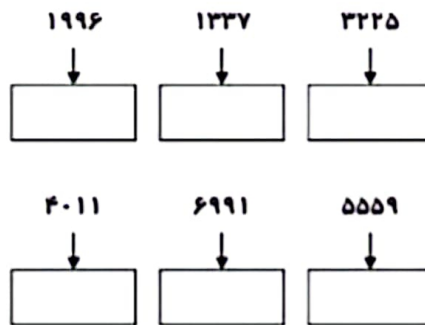


۳- به جای رقم های یکان ، دهگان و صدگان عددهای زیر ، صفر قرار دهید و آن ها را بنویسید .

۷۴۰۱ → ۸۰۷۰ →
۶۷۲۱ → ۱۴۳۷ →

۴- عدد تقریبی اعداد زیر را از داخل شکل روبرو انتخاب کنید .

۶۹۹۰ - ۳۲۳۰
۵۵۶۰ - ۲۰۰۰
۴۰۱۰ - ۱۳۴۰



Blank rounded rectangular box for student response.

