


$7870 \rightarrow 1000$
 هر عبارت را مشخص کن.
 و نادرستی و نادرستی
 عدد 7870 به عدد 7000 نزدیکتر است.
 با حذف یکان و دهگان 9346 می شود 9300 .
 با توجه به محور، عددهای داده شده را به صورتی تقریبی نشان بده.
 ۵۲
 ۴۷۹
 ۱۰۰ ۲۰۰ ۳۰۰ ۴۰۰ ۵۰۰ ۶۰۰ ۷۰۰ ۸۰۰ ۹۰۰ ۱۰۰۰
 ۱۰۰ ۲۰۰ ۳۰۰ ۴۰۰ ۵۰۰ ۶۰۰ ۷۰۰ ۸۰۰ ۹۰۰ ۱۰۰۰
 ۱۰۰ ۲۰۰ ۳۰۰ ۴۰۰ ۵۰۰ ۶۰۰ ۷۰۰ ۸۰۰ ۹۰۰ ۱۰۰۰
 کف او تقریباً چند کیلوگرم است؟



۱,۸۰۸,۹۹۹

۹,۳۹۰

۱۳



بسم الله الرحمن الرحيم

۵۳,۴۷۹,۸۰۸,۹۹۹

۷۰۳,۵۹۹,۳۹۰

۴۵۷,۹۸۳


چون که اول تقریباً چند کیلوگرم است؟

The whiteboard contains several mathematical problems and diagrams. At the top, there is a diagram with an arrow pointing to the number ۱۰۰۰. Below it, there are three large numbers written in red: ۵۳,۴۷۹,۸۰۸,۹۹۹, ۷۰۳,۵۹۹,۳۹۰, and ۴۵۷,۹۸۳. In the center, there are three horizontal number lines, each with a vertical line and a point labeled ۵۳. The first number line has a point labeled ۵۰ to its left and ۵۴ to its right. The second and third number lines have points labeled ۱۰۰, ۲۰۰, ۳۰۰, ۴۰۰, ۵۰۰, ۶۰۰, ۷۰۰, ۸۰۰, ۹۰۰, and ۱۰۰۰. At the bottom, there is a question in Persian: 'چون که اول تقریباً چند کیلوگرم است؟' (Since the first is approximately how many kilograms?). To the right of the whiteboard, there is a red banner with the Basmala (Bismillah) in calligraphy. Below the banner, there is a shelf with various items, including a small framed picture and some boxes.




درستی و نادرستی
الف: عدد ۷۸۷ به عدد ۷۰۰ نزدیکتر است یا ۹۲۰ می شود.
ب: عدد ۹۲۲ با حد یکان و دهگان تقریبی نشان بدهد.

۲) بازخوبه محور، عددهای داده شده را به صورتی تقریبی نشان بدهد.



جرم کیف او تقریباً چند کیلوگرم است؟



۷۸۷۶۵ → ۱۰۰۰

شماره کارت را مشخص کنید

شماره کارت: ۵۳,۴۷۹,۸۰۸,۹۹۹

ب: ۹۹,۷۰۳,۵۹۹,۳۹۹

ب: ۱۶,۳۹,۴۵۷,۹۸۳


شماره کارت: ۱۲۳۴۵۶۷۸۹۱۰۱۱۲۳۴۵۶۷۸۹۱۰


شماره کارت: ۱۲۳۴۵۶۷۸۹۱۰۱۱۲۳۴۵۶۷۸۹۱۰

شماره کارت: ۱۲۳۴۵۶۷۸۹۱۰۱۱۲۳۴۵۶۷۸۹۱۰

شماره کارت: ۱۲۳۴۵۶۷۸۹۱۰۱۱۲۳۴۵۶۷۸۹۱۰







۲۰۰ کیلوگرم است

چند کیلوگرم است؟

گرم	کیلوگرم
۲۰۰	۰/۲

۲۰۰ کیلوگرم است

چند کیلوگرم است؟

کیلو

۷) گرم باشد و ۲۵۰ گرم بسته را خورده باشیم، چند گرم بسته

$$\begin{array}{r} 10 \\ 250 \\ - 150 \\ \hline \end{array}$$

$$\begin{array}{r} 10 \\ 250 \\ - 150 \\ \hline \end{array}$$

$$250$$

$$250$$

و ابتدا خودش روی ترازو رفت و دید ترازو ۵۷ کیلوگرم را نشان می دهد.

و رفت. اگر ترازو ۶۲ کیلوگرم را نشان دهد. وزن کیف چند کیلوگرم است؟

.....

۵۰۰ گرم مادر نشان ۱۵

و جرم درنا ۲۰ کیلوگرم و
کیلوگرم و چند گرم می باشد؟





