

علوی

۶ یک باغچه داریم. به شکل مربع آن را نصف کرده، نیمی از آن را سبزی خوردن و نیمی دیگر را به ۳ قسمت تقسیم کرده‌ایم، در یک قسمت آن گوجه‌فرنگی و در قسمت دیگر آن خیار کاشته‌ایم. (با رسم شکل جملات زیر را کامل کن.)

الف: قسمت از قسمت مساوی سبزی خوردن کاشته‌ایم.
 ب: قسمت از قسمت مساوی گوجه‌فرنگی کاشته‌ایم.
 پ: قسمت از قسمت مساوی گوجه‌فرنگی و خیار کاشته‌ایم.



۷ طول قالیچه با دست سپهر ۱۰ وجب و با دست سامان ۷ وجب شد، اندازه یک وجب دست سپهر بیش‌تر است یا سامان؟ (چرا؟)

سپهر

سامان چون تعداد وجب‌ها کم‌تر است

سامان


سامان

۱۱۲۳ + ۲۰۱۳ = ۳۱۳۶

با رسم شکل جمع و تفریق زیر را انجام بده.


۳۱۴۲ - ۲۰۳۱ = ۱۱۱۱

۹ طول مداد امیر از رضا بزرگ‌تر است و طول مداد رضا از محمد بزرگ‌تر است. با رسم شکل مناسب مدادها را از بزرگ‌تر به کوچک‌تر مرتب کن.




۱۰ مجید، سعید، مهران، همایون و امین در یک صف پشت سر هم ایستاده‌اند. مجید اولین نفر است و سعید و همایون پشت

مهران هستند. امین آخرین نفر است و همایون جلوی سعید ایستاده است. سومین نفر در این صف چه شخصی است؟



۱۱ کشاورزی دو قسمت از چهار قسمت مساوی از زمین را گندم و یک قسمت از چهار قسمت مساوی زمین را جو کاشته

است. چه کسری از زمین زیر کشت رفته است؟ (با رسم شکل) $\frac{3}{4}$
 سطح زیر کشت کدام یک بیش تر است؟ گندم $\frac{2}{4}$



۱۲ چهار پسر عرض یک اتاق را با قدم‌های خود اندازه گرفتند. جدول زیر نتیجه اندازه گیری آن‌ها را نشان می‌دهد. طول

تعداد قدم‌ها	نام
۱۰	سامان
۸	امیر
۹	هوراد
۷	کاوه

قدم کدام یک از چهار نفر از همه بزرگ تر است؟

(۱) سامان

(۲) امیر

(۳) هوراد

(۴) کاوه

خودارزیابی

خیلی خوب خوب قابل قبول نیاز به تلاش

<input type="radio"/>	<input type="radio"/>	<input type="radio"/>	<input type="radio"/>
<input type="radio"/>	<input type="radio"/>	<input type="radio"/>	<input type="radio"/>

توانایی استفاده از راهبرد رسم شکل برای حل مسئله

توانایی استفاده از رسم شکل برای محاسبه‌ی جمع و تفریق

