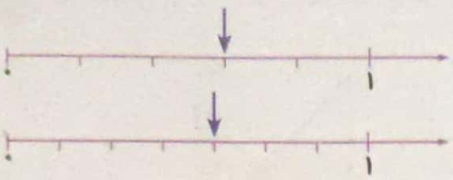


۲ درستی و نادرستی هر عبارت را مشخص کن.

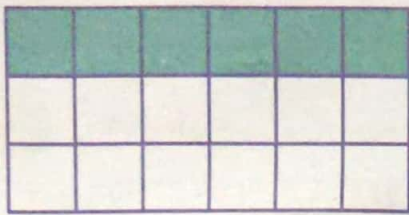
الف: قسمت مشخص شده در محور کسر $\frac{3}{5}$ است.

ب: قسمت مشخص شده در محور کسر $\frac{2}{6}$ است.

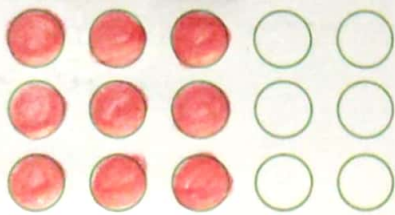


۳ چه کسری از این مستطیل رنگ شده و چه کسری رنگ نشده است؟


رنگ شده: $\frac{6}{18}$
رنگ نشده: $\frac{12}{18}$



۴ کسرهای داده شده را روی شکل نشان بده.

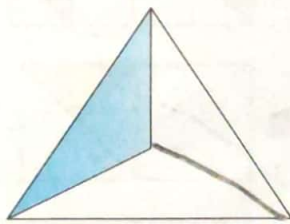


$\frac{3}{5}$

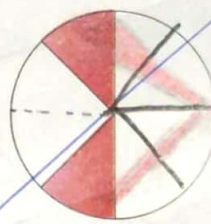


$\frac{2}{4}$

۵ چه کسری از هر شکل رنگ نشده است؟

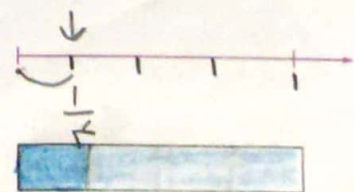

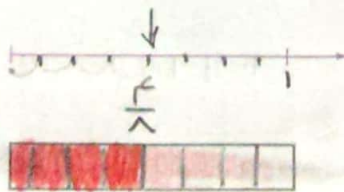
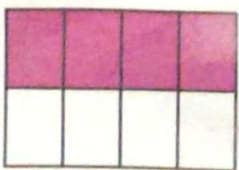
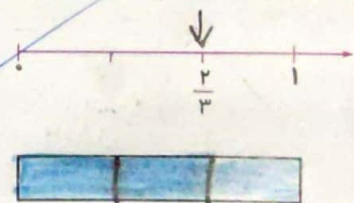
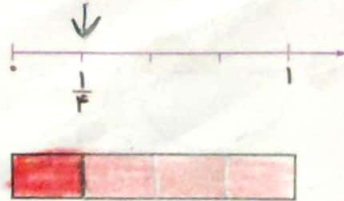



$\frac{2}{3}$



$\frac{6}{8}$

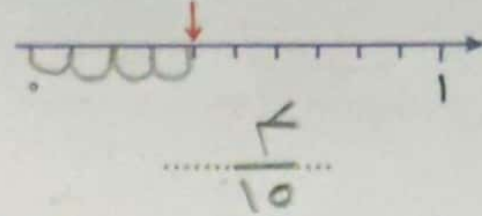
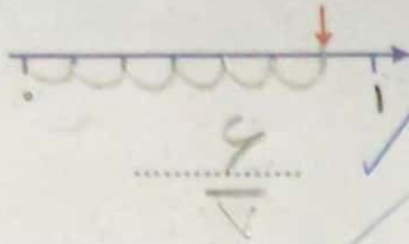
۶ مقدار رنگ شده هر شکل را روی محور نشان بده و به همان مقدار از مستطیل را رنگ کن.



علوی

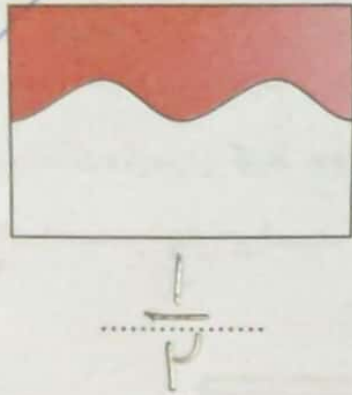
بر روی هر محور، علامت چه کسری را نشان می‌دهد؟

۷



به طور تقریبی چه کسری از هر شکل رنگ شده است؟

۸



چه کسری از این شکل رنگ شده است؟

۹

۱ = ۵/۴
۳ = ۶/۲

۴ = ۵/۵
۴ = ۵/۵

