


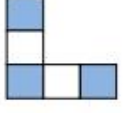


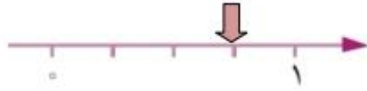





نام و نام خانوادگی: _____ تاریخ: _____ موضوع: _____ هدف: _____

۱- کسر مربوط به قسمت رنگی هر شکل را بنویسید.

۲- در هر محور فلش، چه کسری را مشخص می کند.

 واحد ----
 واحد از عدد
 واحد ----
 واحد از عدد

۳- کسرهای زیر را روی شکل نشان دهید.

$\frac{1}{3}$ $\frac{3}{6}$ $\frac{2}{5}$ $\frac{6}{9}$

۴- عددهای خواسته شده را روی محور نشان دهید.

$\frac{1}{2}$ واحد بعد از عدد ۳ $\frac{4}{9}$ واحد بعد از عدد ۱

