



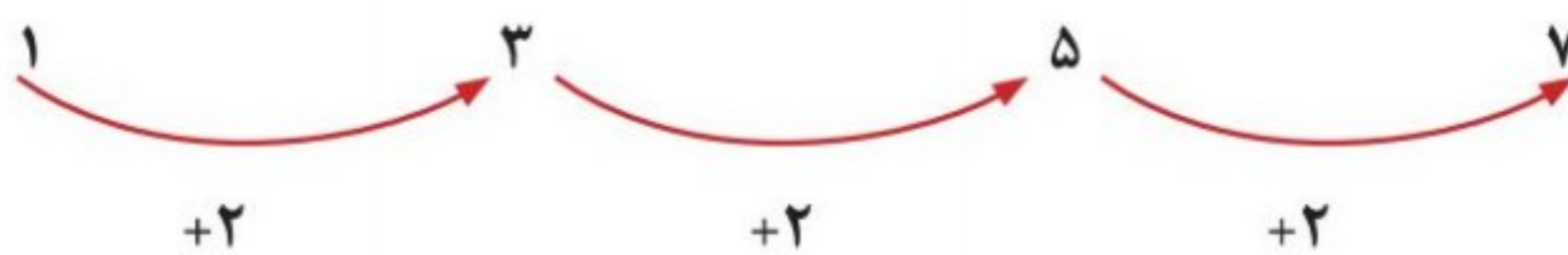
فصل اول الگو

موضوع : حل مسئله

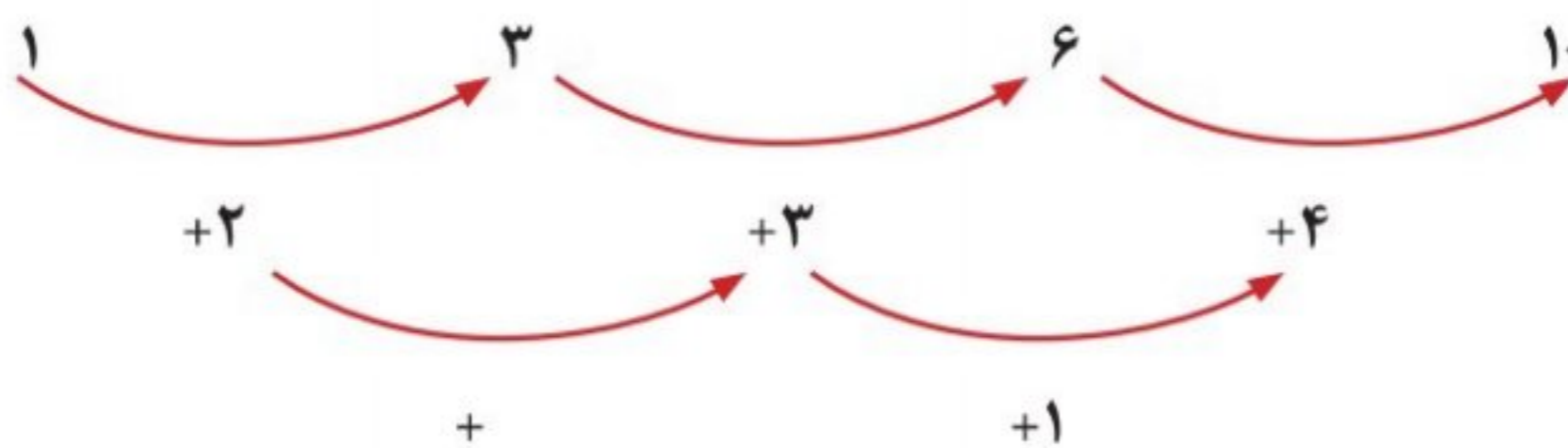
هدف: آموزش حل مسئله با راهبرد الگویابی

پیدا کردن الگوها و درواقع الگویابی یکی از راهبردهای مهم در حل بعضی از مسئله‌های ریاضی است. در این مسئله‌ها مابین عدد یا شکل‌ها رابطه‌ای وجود دارد که شما باید این رابطه‌ها را پیدا کنید.

الگوهای عددی

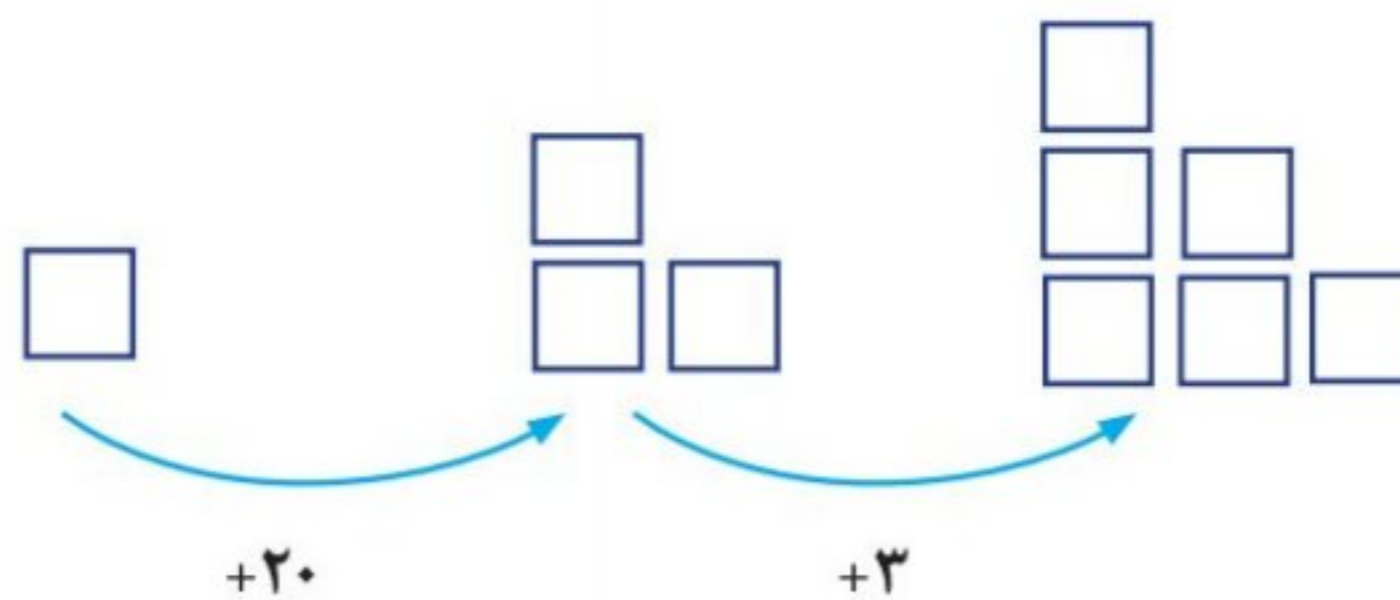


مثال ۱:



مثال ۲:

الگوهای هندسی



نکته: برای پیدا کردن الگوی بین شکل‌ها می‌توانید در هر شکل، شکل قبلی را پیدا کرده و دور آن را خط بکشید تا تغییرات معلوم شود.

بعضی مواقع برای پیدا کردن رابطه بین عددها در مسئله می توانید از جدول نظام دار استفاده کنید تا به پاسخ ها برسید.

مثال: گل فروشی هر شاخه گل رز را ۱۰۰ تومان می خرد و ۲۰۰ تومان می فروشد. با کامل کردن جدول سود شاخه گل را حساب کنید.

تعداد شاخه گل	۱	۲	۳	۴	۵
سود گل	۱۰۰	۲۰۰	۳۰۰	۴۰۰	۵۰۰

+۱۰۰ +۱۰۰

$200 - 100 = 100$
سود یک شاخه گل

تمرین

۱- الگوی زیر را ادامه دهید. بنویسید چه رابطه ای بین اعداد وجود دارد؟

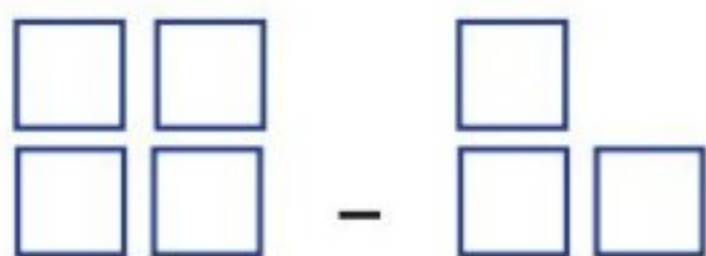
..... ، ، ، ۳۳ ، ۲۲ ، ۱۱ ، ۰

مثال: عددها ۱۱ تا ۱۱ اضافه می شوند.

..... ، ، ، ۱۲ ، ۷ ، ۲

..... ، ، ، ۳۵۰ ، ۲۵۰ ، ۱۵۰

۲- الگوی هندسی زیر را ادامه دهید. (۲ مرحله)



۳- یک آپارتمان ۵ طبقه دارد. هر طبقه ۶ واحد دارد. جدول نظام دار رسم کنید. و به سوالات پاسخ دهید.

در طبقه ی سوم چند واحد وجود دارد؟

در ۳ طبقه چند واحد وجود دارد؟

۴- فروشنده ای هر دفتر را ۱۵۰ تومان می خرد و ۲۰۰ تومان می فروشد.

اگر او ۴ دفتر بفروشد چقدر سود می کند؟

چند دفتر بفروشد تا ۳۰۰ تومان سود کند؟

(جدول نظام دار یادت نره)



مریم بهجتی اشتیانی



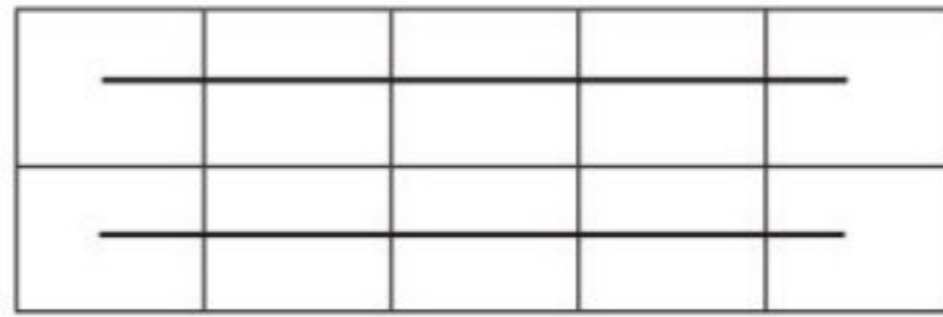
موضوع : شمارش چند تا چند تا

هدف: شمارش چند تا چند تا

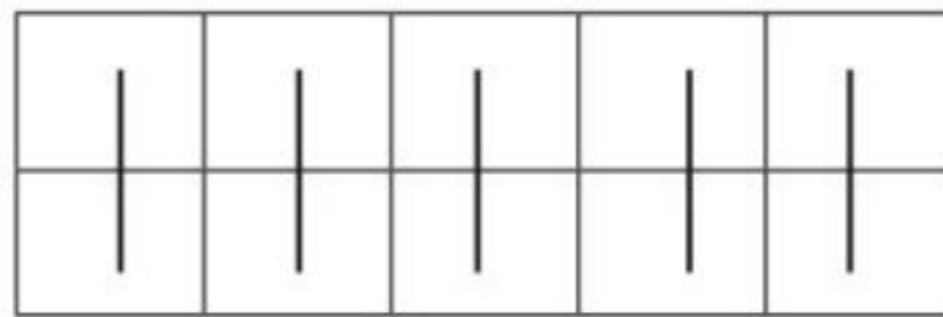
برای شمارش اشکال می توانید آن ها را به شکل های مختلف دسته بندی کنید و آنها را بشمارید. سریع ترین راه برای پیدا کردن جواب الگوهای شکلی، دسته بندی ۵ یا ۱۰ تایی است.

مثال:

تعداد مربع های کوچک شکل زیر را به چند صورت می توان به دست آورد.



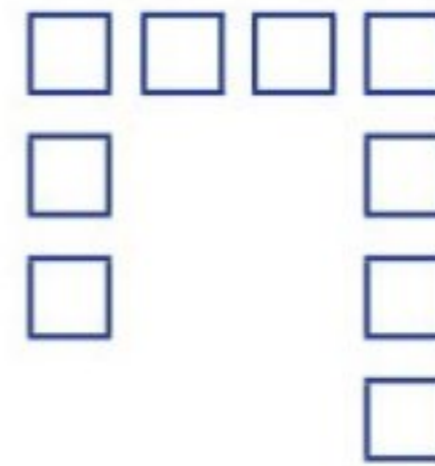

۵، ۱۰



۲، ۴، ۶، ۸، ۱۰

تمرین

۱- شکل های زیر را دسته بندی کنید. به کمک الگوی شمارش چند تا چند تا و نوشتن یک عبارت جمع تعداد مربع های هر شکل را به دست آورید.



مریم بهجتی اشتیانی

۲. مربع های کوچک شکل زیر را به ۳ روش دسته بندی کنید و با شمارش چند تا چندتا تعداد آنها را به دست آورید.

