

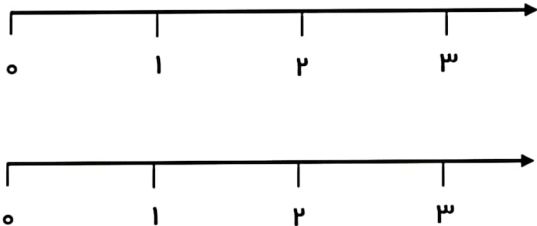


<p>۱ یک قطعه زمین کشاورزی را نصف کردند. در نیمی از آن سیب زمینی کاشتند. نیم دیگرش را به ۳ قسمت تقسیم کردند. در یک قسمت آن پیاز و در دو قسمت دیگر آن کاهو کاشتند.</p> <p>۱- با توجه به مسئله، این زمین را تقسیم کنید.</p> <p>۲- در چند قسمت از این زمین سیب زمینی کاشته اند؟</p> <p>۳- در چند قسمت پیاز کاشته اند؟</p> <p>۴- در چند قسمت کاهو کاشته اند؟</p> 	<p>۲ برای هر یک از شکل های زیر یک کسر بنویسید.</p> 
<p>۳ عددهای زیر را روی محور نشان دهید.</p> <p>$\frac{2}{3}$ واحد بعد از عدد ۲</p> <p>$\frac{1}{4}$ واحد مانده به عدد ۱</p> 	<p>۴ حاصل جمع زیر را به کمک رسم شکل نشان داده و جواب را به دست آورید.</p> <p>$۱۲۴۳ + ۲۳۱۵ =$</p>

