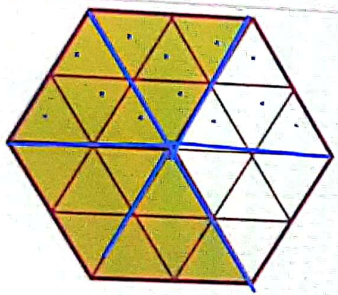
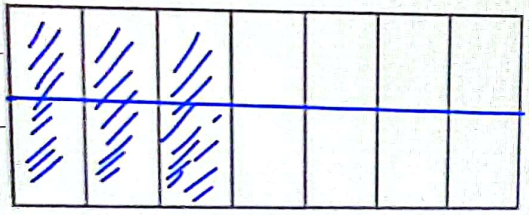


بهادریور، فاطمه



۲- برای شکل روبه‌رو ۳ کسر مساوی بنویسید.

$$\frac{2}{2} = \frac{16}{16} = \frac{2}{2}$$



۳- با کامل کردن شکل نشان دهید که  $\frac{2}{7} = \frac{6}{14}$  است.

$$\frac{2}{7} = \frac{6}{14}$$

گفت‌وگوی همگانی

**علوی**

بیام‌ها

گفت‌وگوی هم...

بادداشت‌ها

بادداشت‌های...

کاربران (21)

علی همراه

سنگ ترا...  
تغییر شده...

شکر، شکر...  
تغییر همراه

عبداللهی...  
تغییر شده...

عرب محمد...

علی نژاد...

فرح زاده...  
من صداتون را ندارم

بیطرفان، ثنا...  
من صداتون رو ندارم

فرحی، انا...  
تغییر همراه

فرسادهن بیام نه گفت‌وگوی همگانی



بهادریور، فاطمه

صدای باد می آید. بادان بر بام های شمالی می بارد. پرنده. آوازی  
 دل نشین می خواند. بهترین سرودها و نغمه های طبیعت، اطرافم را پر کرده است.  
 سرود آبخار، موسیقی جویبار، نغمه ی پرندگان ....  
 چقدر سخت است که همه صداهای من شنوم؛ اما صدای تو دانی شنوم!  
 دریا آبی و بی انتهاست. سبزی درخت ها زیباست. پره های رنگارنگ  
 پرندگان، چشم نواز است. کوه، بلند و استوار است.  
 چقدر سخت است که همه چیز و همه کس را می بینم؛ اما تو دانی بینم!  
 بوی گل، اطرافم را پر کرده است. هر جا که می روم، بوی بهترین عطرها را

گفت و گوی همگانی

علوی

بامها

گفت و گوی ...

بادداشت ها

بادداشت های...

کاربران (19)

به... بها... (شما)

اب... ابراهیمی...

بج... بجزبی، م...

بج... بختیاری، ...

به... بهرام آباد...  
تلخ همراذ

بی... بیطرفان، نا...

بج... بختیاری، ...

رم... رمضانی، آ...

فرستادن پیام به گفت و گوی همگانی

808.6426.ir is sharing a window. Stop sharing Hide

زمان باقی مانده از جلسه: 27:09

فارسی سوم (خانم بهادریون) | 1403/09/25 | 13:00 تا 13:45



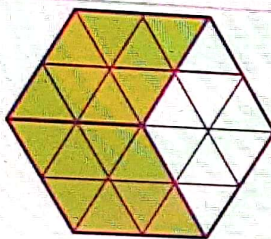
حس می‌کنم. بوی سبزه، بوی زکس، بوی یاس، بوی نان پرشته، بوی سیب‌های سرخ و سبز، بوی خاک باران خورده، بوی زعفران و ریحان ....  
 چقدر سخت است که این همه را حس می‌کنم؛ اما بوی تو را حس نمی‌کنم!  
 ای بهترین صدا، ای زیباترین دیدنی، ای خوش‌بوترین، ای عزیزترین غایب، بیا!  
 تو آفتابِ دقایق، خدا کند که بیایی. فروغ دیده‌ی مایی، خدا کند که بیایی  
 (شعر از: صائم کاشانی) - فریبا کتیرا، با تغییر

- گفت‌وگوی همگانی
  - سلام خانم
  - ۱۳:۰۹ هاشمی، ترگل من
  - ۱۳:۱۰ بختیاری، فاطما سلام خانوم
  - ۱۳:۱۰ هوساری، دلسا من باسلام
  - ۱۳:۱۱ هاشمی، ترگل صدا مطبعت
  - ۱۳:۱۱ شکری، حلما من با سلام
  - ۱۳:۱۱ قیص آبادی، مهدا من با گوشی نیستم و فعالیت نکردم
  - ۱۳:۱۵ تقدسی، هلنا من بخونم
- فرستادن پیام به گفت‌وگوی همگانی

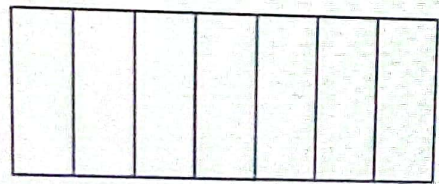
808.6426.ir is sharing a window Stop sharing Hide



بهادریور، فاطمه



۲- برای شکل روبه رو ۳ کسر مساوی بنویسید.



۳- با کامل کردن شکل نشان دهید که  $\frac{3}{7} = \frac{6}{14}$  است.

گفت و گوی همگانی

- شکر، حلما 9:19 شکر بله
- فرح زاده جلا... (عدم حضور) 9:19 فرح بله
- شکر، حلما 9:19 شکر آمد
- عزیز محمدی، دلسا 9:19 عز آمد
- هوشیاری، دلسا 9:20 هوشیاری خانم من چون کتاب ندارم دارم داخل دفترم مینویسم اما اقب اقدام دارم سریع مینویسم
- بختیاری، فاطیما 9:20 بختیاری خانم من یه خورده شما رو می بینم
- هاشمی، ترکل 9:20 هاشمی من برق دارم
- فرستاد پیام به گفت و گوی همگانی عزیز محمدی، دلسا در حال نگارش است



اسلاید 1



ریاضی سوم (خاتم بهادریور) 1403/09/25 | 09:00 تا 09:45

بهادریور، فاطمه

- تمام صفحه
- تنظیمات
- درباره
- راهنما
- میانبرهای صفحه کلید
- پایان جلسه
- خروج

**کمترین**

۱- بار سه شکل نشان دهنده:

$\frac{1}{3}$     $\frac{2}{3}$     $\frac{1}{3}$

۱    $\frac{1}{3}$     $\frac{2}{3}$     $\frac{1}{3}$

۲- برای شکل روبه‌رو ۳ کسر مساوی بنویسید.

۳- با کامل کردن شکل نشان دهنده که  $\frac{6}{11} - \frac{2}{11}$  است.

**کامل کن**

عقربه‌ی بزرگ ساعت به اندازه‌ی ۱۰ دقیقه حرکت کرده است. سسر حرکت عقربه‌ی بزرگ رنگ شده است. این شکل یک زاویه را نشان می‌دهد.

در شکل روبه‌رو، باز شدن قیچی را ترسیم کن. با یک زاویه نشان داد. مثلث چند زاویه دارد؟

گفت‌وگوی همگانی

بعدسی، همتا  
تق بوق برق ماهم قطع شد

فر فر فرخی، آنا ۹:۱۰  
به

ها هاشمی، ترگل ۹:۱۰  
بله

به به بهرام آبادی، نشمیل ۹:۱۰  
بله

عب عبداللهی، هانا ۹:۱۰  
بله

اب ابراهیمی، مه‌رسا ۹:۱۰  
بله

هو هوشیاری، دل‌سا ۹:۱۰  
بله بله بله بله

بج بختیاری، فاطیما ۹:۱۰  
بله

بام‌های بیشتر