

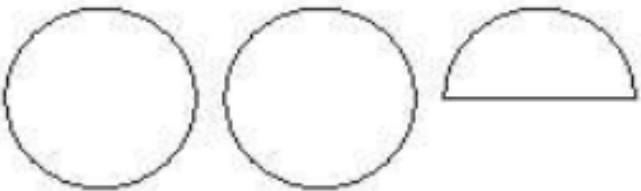
۴ شکل‌های هر قسمت چه کسری کم دارند تا ۲ دایره‌ی کامل شوند؟

الف:



.....

ب:



.....



۵ با توجه به ساعت زیر به سؤال‌ها جواب بده.

الف: ساعت مقابل چند دقیقه بعد از ساعت ۴ را نشان می‌دهد؟

ب: یعنی چه کسری از یک ساعت؟

پ: چه کسری از یک ساعت به ساعت ۵ مانده است؟

.....

.....

الف) ۱

۱-۶

الف) ۵

۳۰ دقیقه بعد از ۴

۱) ۱

۱-۲

۱) ۱

۱ | ۳ | ۵

۱-۲

۱) ۱

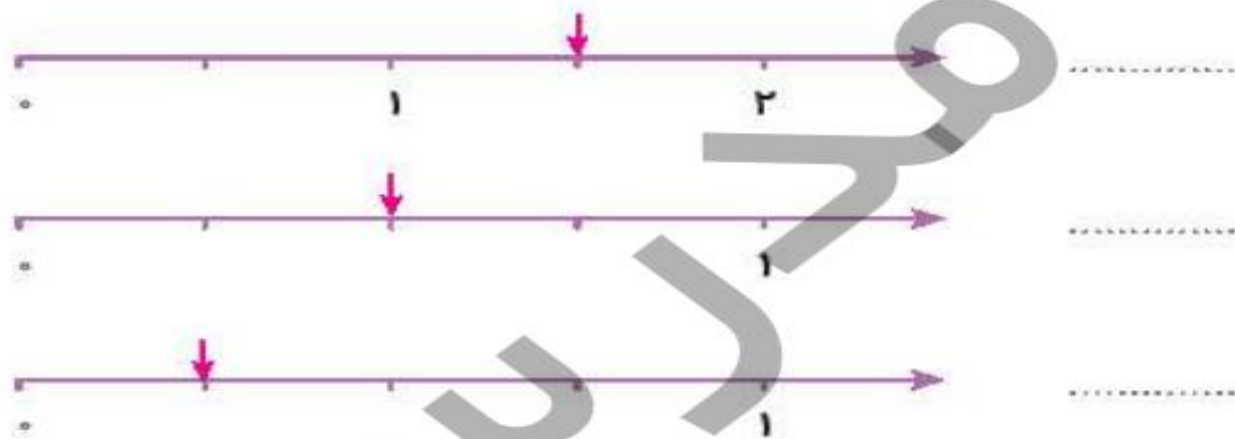
۱ | ۳ | ۵

۱-۲

۱-۲

علامت روی محور چه کسرهایی را نشان می‌دهد؟

۶



هر کدام از عددهای زیر بین کدام دو عدد قرار دارند؟

۷

الف: $\frac{2}{5}$ واحد بعد از عدد ۴ \leftarrow \rightarrow

ب: $\frac{1}{3}$ واحد بعد از عدد ۷ \leftarrow \rightarrow

دایره‌ای رسم کن که شعاع آن ۱۵ میلی‌متر باشد. قطر این دایره چند سانتی‌متر است؟

۸

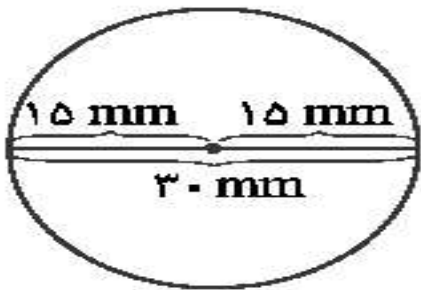
۶. الف) $\frac{1}{2}$ واحد بعد از ۱ یا $\frac{1}{2}$ واحد مانده به ۲

ب) $\frac{2}{4}$

پ) $\frac{1}{4}$

| | | |
|---|------------------------|---|
| ۴ | $\frac{2}{5}$ بعد از ۴ | ۵ |
|---|------------------------|---|

| | | |
|---|------------------------|---|
| ۷ | $\frac{1}{3}$ بعد از ۷ | ۸ |
|---|------------------------|---|



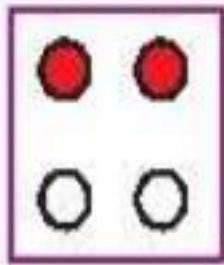
$$30 \text{ mm} = 3 \text{ cm}$$

۹ یک کیک به ۸ قسمت مساوی تقسیم شده است. شیوا سه قسمت آن را خورد.


الف: شیوا چه کسری از کیک را خورده است؟

ب: چه کسری از کیک باقی مانده است؟


۱۰ در کدام یک از شکل‌های زیر نصف نقطه‌ها رنگ شده‌اند؟




(۴)



(۳)



(۲)



(۱)

