
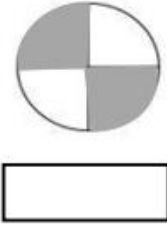
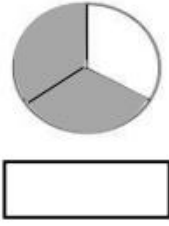




نام و نام خانوادگی: _____ تاریخ: _____ موضوع: _____ هدف: _____

۱) کسری که هر دایره نشان می‌دهد را بنویس و به همان اندازه از مستطیل را رنگ بزن.

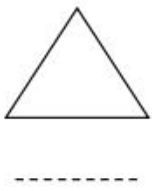
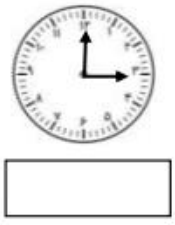


۲) آقای رضایی یک زمین کشاورزی به شکل مستطیل دارد. او زمینش را به ۲ قسمت مساوی تقسیم کرد. در یک قسمت برنج کاشته و قسمت دیگر را به ۳ قسمت مساوی تقسیم کرد و در یک قسمت آن چای و در قسمت دیگر آن گندم کاشته است.



- چند قسمت برنج کاشته شده است؟
- چه کسری از زمین چیزی کاشته نشده است؟

۳) نام زاویه‌ای که ساعت نشان می‌دهد را بنویس. زاویه‌ها را در هر شکل رنگ بزن و بنویس هر شکل چند زاویه دارد.



۴) با رسم شکل نشان دهید که $\frac{1}{2} = \frac{2}{4} = \frac{4}{8}$ است.

۵) عددهای داده شده را به صورت تقریبی روی محور نشان بده.

