



موضوع: مرور ریاضی ترم اول

تاریخ:

نام و نام خانوادگی:

هدف:

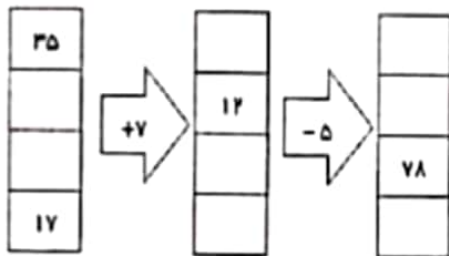
۱- به عدد و حروف بنویسید.

هشت هزار و هفتاد $7876 = \dots\dots\dots$

۲- جدول را کامل کنید.

زمان	۱۵			13:18	بیست و نیم
بعد از ظهر		۶	02:15		هفت و ربع

۳- جاهای خالی را پر کنید.



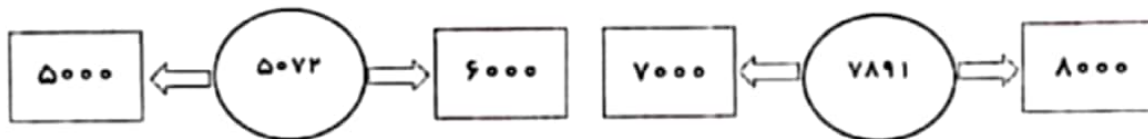
۴- با رقم های ۳ و ۷ و ۰ و ۹ بزرگترین و کوچکترین عدد چهار رقمی را بنویسید.

بزرگترین کوچکترین

۵- کسرهای زیر را مقایسه کنید.

$\frac{4}{5} \bigcirc \frac{4}{7}$ $\frac{2}{6} \bigcirc \frac{3}{6}$ $\frac{7}{7} \bigcirc \frac{5}{5}$
 ۵ واحد $\frac{4}{7}$ و ۵ واحد $\frac{6}{7}$ ۳ واحد $\frac{1}{3}$ و ۳ واحد $\frac{1}{3}$ ۲ واحد $\frac{1}{3}$ و ۳ واحد $\frac{1}{3}$

۶- عدد داخل دایره به کدام عدد در مربع ها نزدیک تر است؟ آن مربع را رنگ کنید.



بازخورد:





مرور ریاضی ترم اول

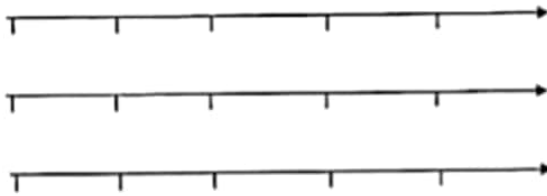
موضوع:

تاریخ

نام و نام خانوادگی

هدف:

۷- کسر های زیر را روی محور نشان دهید.



$\frac{3}{4}$ واحد بعد از عدد ۲

$\frac{2}{3}$ واحد مانده به عدد ۴

$\frac{4}{5}$ واحد بعد از عدد ۱

۸- کامل کنید.


۳ کیلومتر و ۷۰ متر می شود..... متر

۶۲۳۰ گرم می شود..... کیلوگرم و..... گرم

۸۵۰ سانتی متر برابر است با..... متر و..... سانتی مترا..... متر و..... از متر

اندازه ی شعاع..... قطر است و دایره..... شعاع دارد.

۹- شکل های زیر را دسته بندی کنید و برای آن یک عبارت جمع و ضرب مناسب بنویسید.



عبارت جمع :

عبارت جمع :

ضرب :

ضرب :

۱۰- تساوی ضرب زیر را روی محور نشان دهید.

$$5 \times 3 = 3 \times 5$$



۱۱- کسر مساوی با $\frac{3}{5}$ را با رسم شکل بنویسید.

$$\frac{3}{5} = \frac{\quad}{\quad}$$

بازخورد:





موضوع: مرور ریاضی ترم اول

تاریخ:

نام و نام خانوادگی:

هدف:

۱۲- ارزش ۱۱۰۰ لیره ی کشوری ۱۰ ریال ایران است.

۳ تومان ایران چند لیره ی آن کشور است؟

۱۳- یک مغازه دار هر جعبه مداد رنگی را ۵۰۰ تومان می خرد و آن را ۵۵۰ تومان می فروشد.

• او چند جعبه مداد رنگی بفروشد تا ۲۰۰ تومان سود کند؟

• چند جعبه مداد رنگی بفروشد تا با سود آن بتواند یک جعبه مداد رنگی بخرد؟

۱۴- پیمان ۴ جعبه ی مداد رنگی ۶ تایی و ۱۰ عدد مداد مشکی دارد. پیمان روی هم چند مداد دارد؟

۱۵- به سوالات زیر به روش نمادین سازی پاسخ بده.

الف- عددی را با ۱۳۰۰ جمع کردیم و حاصل ۱۵۰۰ شد آن عدد کدام است؟

ب- از عدد ۲۷۰ چند واحد برداریم تا ۱۹۰ به دست آید؟

بازخورد:

Blank area for student response.

