






نام و نام خانوادگی

تاریخ

موضوع:

هدف:

۱- جاهای خالی را کامل کنید و هر جمله را به گزینه ی درست وصل کنید. (خط ها را نام گذاری کنید).

- | | | | |
|---|--------------------------|--------------------------|---|
|  | <input type="checkbox"/> | <input type="checkbox"/> | خطی که دو سر آن بسته باشد نام دارد. |
|  | <input type="checkbox"/> | <input type="checkbox"/> | خط راست به خطی می گویند..... |
|  | <input type="checkbox"/> | <input type="checkbox"/> | نیم خط یعنی |

۲- قطر شکل های زیر را رسم کنید. تعداد قطر ها را زیر هر شکل بنویسید.



۳- روی محور نشان دهید.

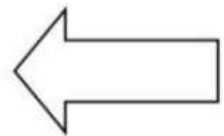

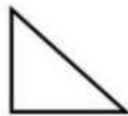


$\frac{1}{4}$ واحد بعد از عدد ۳



۴- با توجه به نمونه، شکل ها را به دلخواه نام گذاری کنید و نام آنها را بنویسید.



چهارضلعی (د ن ک م)



۵- شکل ها را نام گذاری کنید و نام پاره خطها را بنویسید.





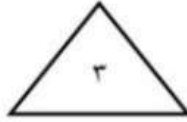
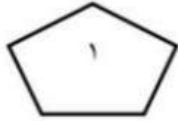
نام و نام خانوادگی

تاریخ

موضوع:

هدف:

۶- هر یک از شکل های زیر چند ضلع و چند قطر دارد؟



۳	۲	۱	
			ضلع
			قطر

۷- جاهای خالی را کامل کنید.

الف) به ضلع های بزرگ مستطیل و به ضلع های کوچک مستطیل گفته می شود.
ب) به اندازه ی دور هر شکل می گویند.

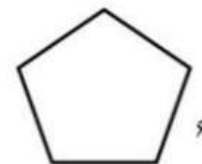
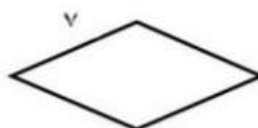
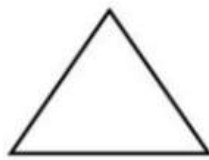
۸- ضرب و تقسیم ها را حل کنید.

$$\begin{array}{cccccc} \dots \times 3 = 24 & 48 \div \dots = 6 & \dots \times 8 = 72 & \dots \div 5 = 5 & 7 \times 8 = \dots & \\ \dots \times 4 = 36 & 28 \div 7 = \dots & \dots \times 7 = 49 & 21 \div 3 = \dots & 6 \times 7 = \dots & \end{array}$$

۹- مسئله را با نوشتن زیر مسئله حل کنید.

حمید ۴ شکلات ۹ تومانی و یک کیک ۲۰۰ تومانی خرید. او چقدر باید به فروشنده بدهد؟ یعنی چند ریال؟

۱۰ محیط شکل ها را از دو راه به دست آورید.



۱۱- با یک سیم ۲۰ سانتی متری یک مربع درست کردیم اندازه ی هر ضلع آن چه قدر است؟ (باراه حل)