

عيد الفصحى  
عيد الفصحى  
عيد الفصحى



## فعالیت کلاسی



جاهای خالی را پر کن.



الف: هر عدد، ضرب در عدد یک، ... **مخود آن عدد** ... می شود.

ب: عدد یک ضرب در هر عدد، ... **مخود آن عدد** ... می شود.



حاصل ضرب بهای زیر را بنویس. (به خاصیت جابه‌جایی ضرب مانند نمونه توجه کن.)

الف:  $3 \times 5 = 5 \times 3 = 15$

ث:  $9 \times 4 = 4 \times 9 = 36$

ب:  $6 \times 2 = 2 \times 6 = 12$

ج:  $5 \times 3 = 3 \times 5 = 15$

پ:  $7 \times 4 = 4 \times 7 = 28$

ج:  $9 \times 8 = 8 \times 9 = 72$

ت:  $8 \times 1 = 1 \times 8 = 8$

ح:  $5 \times 9 = 9 \times 5 = 45$



زهرة ۷ بسته شکلات ۴ تایی و ۲ بسته شکلات ۳ تایی خریده است. او در مجموع چند شکلات دارد؟

۴

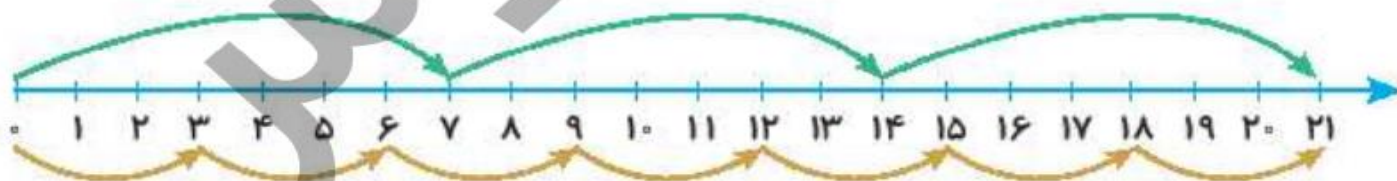
$$(7 \times 4) + (2 \times 3) = 28 + 6 = 34$$



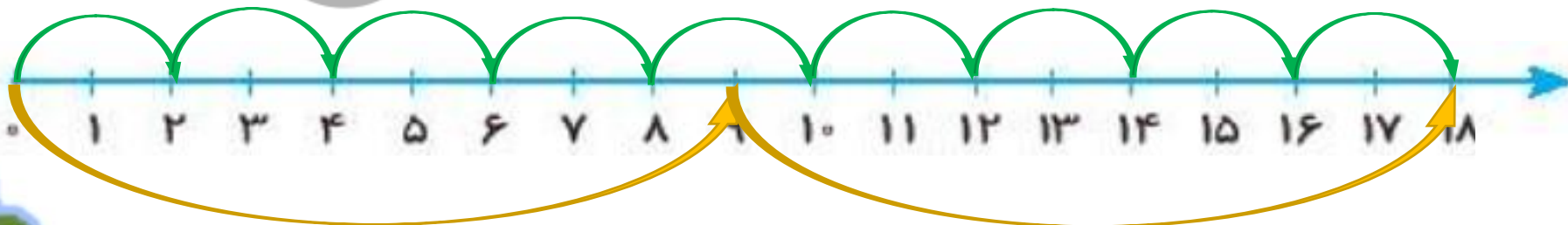
هر تساوی را مانند نمونه روی محور نشان بده و جواب آن را به دست بیاور.

۵

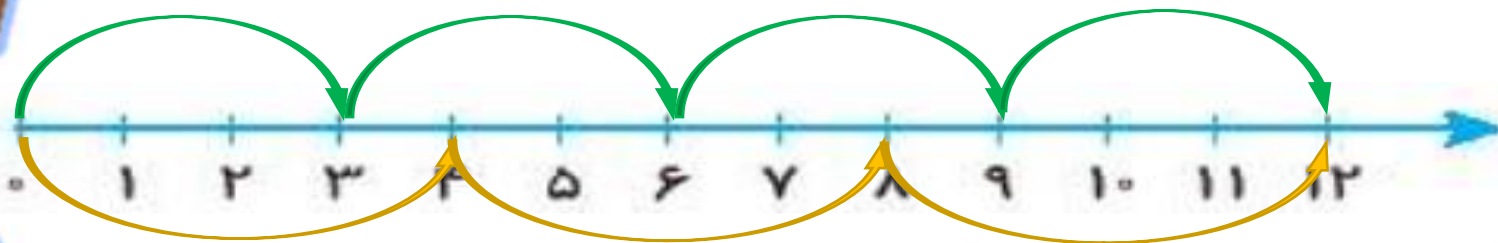
$$3 \times 7 = 7 \times 3 = 21$$



$$9 \times 2 = 2 \times \dots = \dots$$



$$4 \times 3 = \dots \times \dots = \dots$$



جای خالی را با عدد مناسب پر کن.

۶

$$\text{الف: } 9 \times 7 = (\boxed{7} \times 7) + (2 \times 7)$$

$$\text{پ: } 9 \times 6 = (\boxed{5} \times 6) + (4 \times 6)$$

$$\text{ب: } 8 \times 9 = (5 \times 9) + (\boxed{3} \times 9)$$

$$\text{ت: } 7 \times 5 = (3 \times 5) + (\boxed{4} \times 5)$$



۷ نیکی ۷ بسته مداد رنگی ۱۲ تایی دارد که در هر جعبه ۲ مداد سیاه و سفید و خاکستری است. او در کل چند مداد سیاه،








سفید و خاکستری دارد؟

۱۲ (۴)


۲۱ (۳) ✓

۷ (۲)

۲ (۱)



$$7 \times 3 = 21$$



۸ در سالنی که جشن تولد کاوه در آن برگزار می‌شود، ۹ میز ۴ نفره گذاشته بودند. وقتی کاوه و همه مهمان‌ها دور میزها

نشستند ۷ صندلی خالی باقی ماند. کاوه چقدر مهمان داشت؟ (هوشی)

$$9 \times 4 = 36$$

$$36 - 7 = 29$$

کاوه ۲۹ مهمان داشت.

