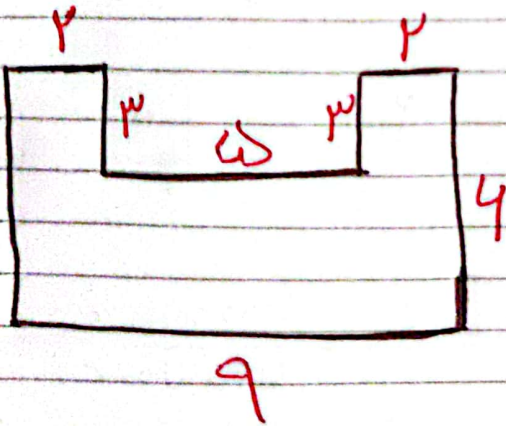
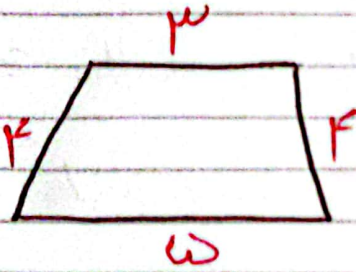



مسئله ۵: محیط مثلث های زیر را بدست

بیاور.



عزیزم صدق و تقسیم زیر اینجا کلاه

۸۲۱

فرستی

۳۹۴

دلگیری

X

۳

X

۹

۸۱ | ۸

۳۹ | ۵

۱۲ | ۵

۱۷ | ۳