


۳ عددی را که هر شکل نشان می‌دهد، بنویس و با یکدیگر مقایسه کن.



۴ عددهای هر ردیف را از کوچک به بزرگ مرتب کن.

۵۰۲۰ - ۵۰۰۰ - ۵۰۳۰ - ۵۰۰۵ $5000 < 5005 < 5020 < 5030$

۲۳۲۸ - ۲۳۲۵ - ۲۳۲۶ - ۲۳۲۳ - ۲۳۲۹ $2323 < 2325 < 2324 < 2328 < 2329$

۵ عددهای زیر را با حذف رقم یکان از کوچک به بزرگ مرتب کن.

۶۰۳۷ - ۶۰۰۶ - ۶۰۱۳ - ۶۲۰۸
~~۶۰۰۰ - ۶۰۱۰ - ۶۰۳۰ - ۶۲۰۰~~

۶ عددهای زیر را با حذف رقم‌های یکان و دهگان از کوچک به بزرگ مرتب کن.

۷۵۰۰ ۷۴۰۰ ۷۵۰۰ ۷۷۰۰
 ۷۰۴۶ - ۷۶۱۸ - ۷۵۳۹ - ۷۷۷۸
~~۷۰۰۰ - ۷۵۰۰ - ۷۴۰۰ - ۷۷۰۰~~

۷ علامت مناسب بگذار ($<$, $=$, $>$).

$7000 > 789$

$4780 < 504$

~~$80 + 74 < 144$~~

$35 + 32 < 78$

$500 < 630 + 60$

$2530 > 2600 - 100$

$1290 < 460 + 925$

$850 < 7000 + 600$

۸ حاصل جمع و تفریق‌های زیر را با حذف رقم یکان و دهگان به صورت تقریبی به دست بیاور.

$7456 \rightarrow 7400$
 $- 1320 \rightarrow 1300$
 $\hline 6100$

$6409 \rightarrow 6400$
 $- 4308 \rightarrow 4300$
 $\hline 2100$

$9762 \rightarrow 9700$
 $- 1651 \rightarrow 1600$
 $\hline 8100$

$8921 \rightarrow 8900$
 $+ 1018 \rightarrow 1000$
 $\hline 9900$

۱۲/۱۱



تمرین



۲۲۵۰۰ بل پولها



۱۰۰۰۰

۲۰۰۰۰ تومان

۱- ساسان داخل کیف پول خود را نگاه کرد: ۲ اسکناس ۱۰۰۰ تومانی، یک اسکناس ۲۰۰۰ تومانی و ۲ اسکناس ۵۰۰ تومانی داشت. ساسان چقدر پول داشت؟ ۵۰۰۰

تومان پول داشت. تومان

$$2000 + 2000 + 1000 = 5000$$

۲- ستاره در کیف پولش یک اسکناس ۵۰۰۰ تومانی، یک اسکناس ۲۰۰۰ تومانی، ۲ اسکناس ۱۰۰۰ تومانی، یک اسکناس ۵۰۰ تومانی و ۲ اسکناس ۱۰۰ تومانی دارد. او چقدر پول دارد؟ ستاره ۹۱۰۰ تومان دارد.

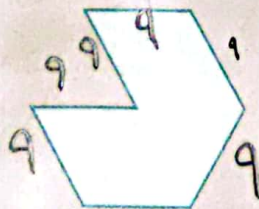
$$5000 + 2000 + (2 \times 1000) + 500 + (2 \times 100) = 9100$$

$\begin{array}{r} 2040 \\ + 2050 \\ \hline 4090 \end{array}$	$\begin{array}{r} 8070 \\ - 1050 \\ \hline 7020 \end{array}$	$\begin{array}{r} 4200 \\ + 2700 \\ \hline 6900 \end{array}$	$\begin{array}{r} 8600 \\ - 1400 \\ \hline 7200 \end{array}$	$\begin{array}{r} 7800 \\ - 2900 \\ \hline 4900 \end{array}$
--	--	--	--	--




کامل کن

محیط شکل های زیر را به دست آورید. (همه ی ضلع های هر شکل با هم مساوی اند). تعداد اضلاع \times اندازه یک ضلع



$$6 \times 9 = 54 \text{ cm}$$

$$9 + 9 + 9 + 9 + 9 + 9 = 54 \text{ cm}$$



$$4 \times 1 = 4 \text{ cm}$$

$$1 + 1 + 1 + 1 = 4 \text{ cm}$$