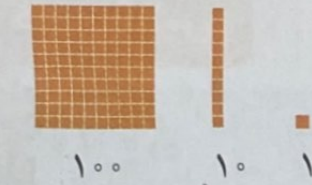


ضرب عددهای یک رقمی در چند رقمی

فعالیت



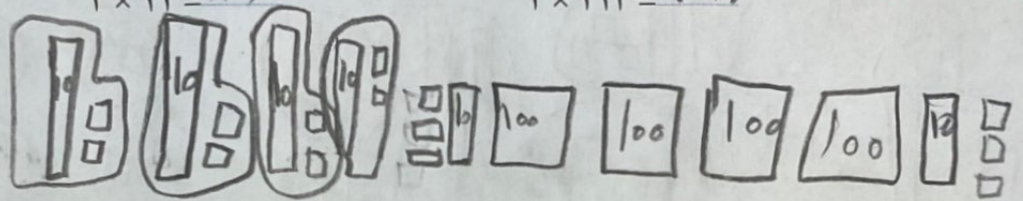

۱- با رسم شکل حاصل ضرب ها را به دست آورید.



$$2 \times 21 = 42$$

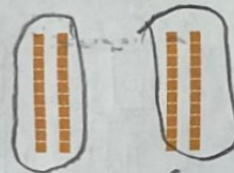
$$4 \times 12 = 48$$

$$2 \times 213 = 426$$

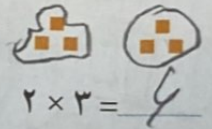


۲- مانند نمونه برای شکل ها ضرب بنویسید و حاصل را پیدا کنید.

$$2 \times 23 = 46$$



$$2 \times 20 = 40$$



$$2 \times 3 = 6$$

$$23 = 20 + 3$$

$$20 \times 2 = 40$$

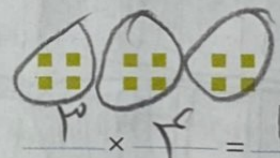
$$3 \times 2 = 6$$

$$40 + 6 = 46$$

$$3 \times 34 = 102$$




$$3 \times 30 = 90$$




$$3 \times 4 = 12$$

$$34 = 30 + 4$$


$$2 \times 324 = 648$$



$$2 \times 300 = 600$$



$$2 \times 10 = 20$$

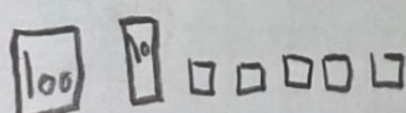
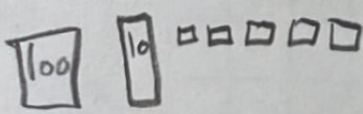


$$2 \times 4 = 8$$

$$324 = 300 + 20 + 4$$

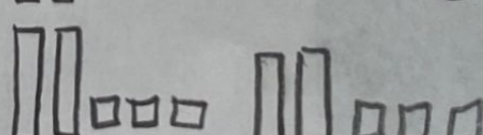
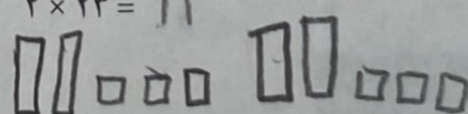
۳- به کمک وسایلی که آموزگار به گروه های دو نفره می دهد، ضرب ها را بسازید و حاصل آن ها را پیدا کنید.

$$2 \times 215 = 430$$

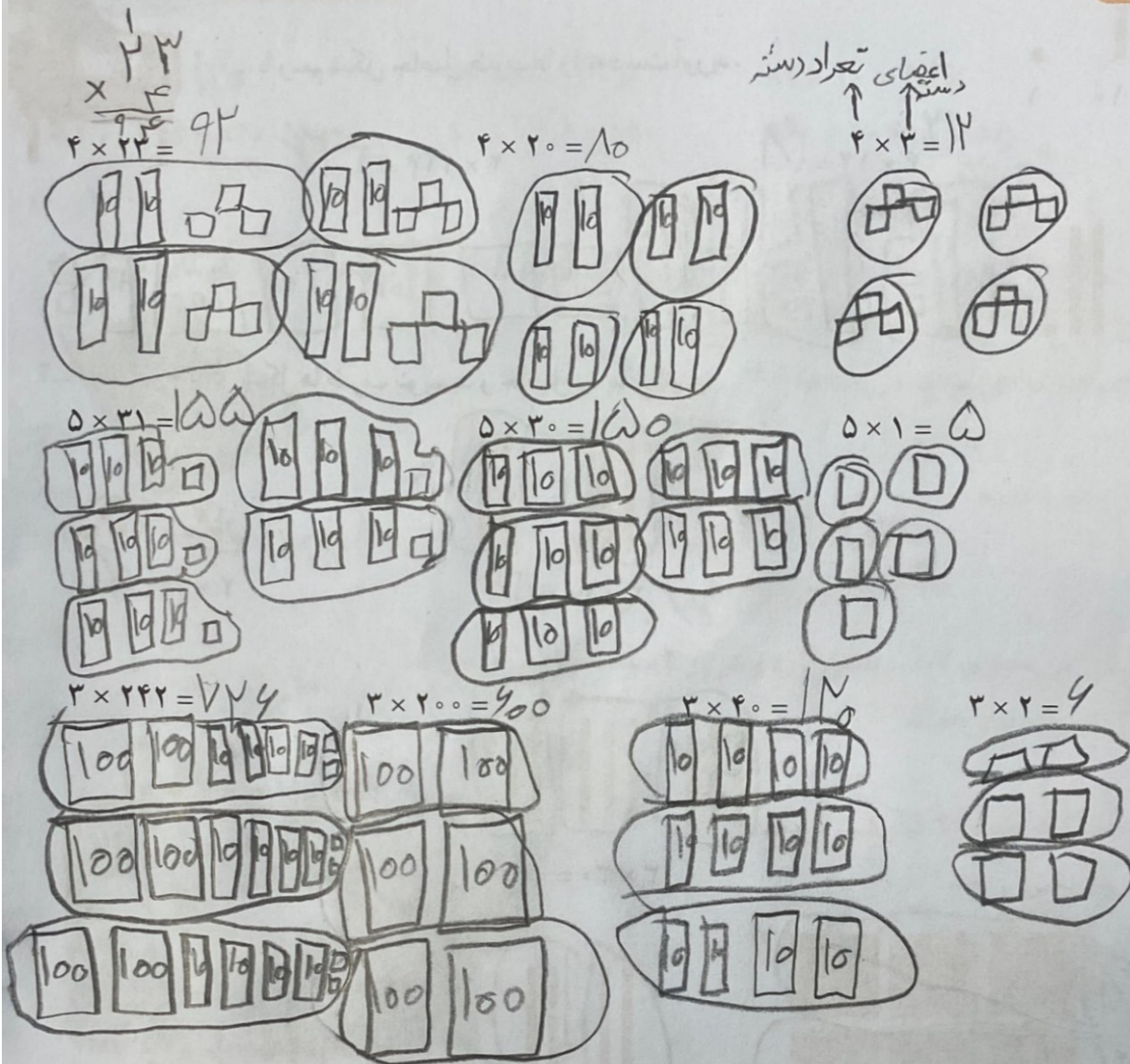


$$20 + 3 \times 20 = 80$$

$$4 \times 23 = 92$$



با رسم شکل حاصل ضرب‌ها را به دست آورید.



تقریب بزن

۱- مانند نمونه، حاصل ضرب‌ها را به صورت تقریبی بنویسید.

$$47 \times 21 \rightarrow 50 \times 20 = \quad , \quad 83 \times 29 \rightarrow \quad \times \quad = \quad$$

$$51 \times 61 \rightarrow \quad \times \quad = \quad , \quad 78 \times 89 \rightarrow \quad \times \quad = \quad$$

۲- کشاورزی در مزرعه‌اش ۵۷ ردیف کلم کاشته است. او در هر ردیف ۶۱ کلم کاشته است.

در مزرعه‌ی او به طور تقریبی چند کلم کاشته شده است؟

