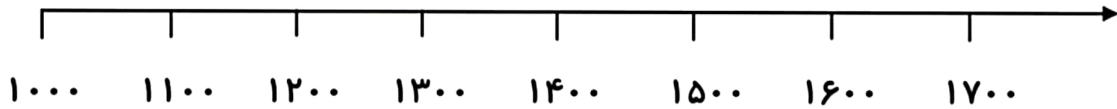


۱ - اعداد زیر را به صورت تقریبی روی محور نشان دهید .

۱۱۰۰ - ۱۷۲۰ - ۱۳۴۰ - ۱۵۸۰



۲ - زیبا هر روز ۸ پیراهن می دوزد . او در ۱۵ روز چند پیراهن می دوزد ؟

۳ - احمد آقا ۸۱ کیلوگرم گیلان را می خواهد در سبد های ۹ کیلویی ، به بازار ببرد و بفروشد . او باید چند سبد آماده کند ؟

۴ - حاصل ضرب های زیر را بدست آورید .

$$۲ \times ۵ \times ۳ =$$

$$۶ \times ۹ \times ۰ =$$

$$۷ \times ۷ \times ۱ =$$

$$۱ \times ۱۰۰ \times ۱۰ =$$

$$۳ \times ۹ = (۳ \times \quad) + (۳ \times \quad) =$$

۳۱۲

$\times ۵$

۲۹

$\times ۳$

۵- مقایسه کنید .

$$\frac{4}{5} \square \frac{1}{2}$$

$$\frac{4}{4} \square \frac{2}{2}$$

$$\frac{3}{5} \square \frac{2}{4}$$

۴ کیلو و ۱۵۰ گرم \square ۴۰۱۵ گرم

۶- کسر زیر را روی محور و شکل مناسب نمایش بده .

$$\frac{2}{4}$$

۷- حاصل تقسیم های زیر را بدست آورید .

$$36 \div \square = 6$$

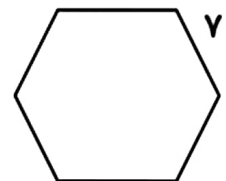
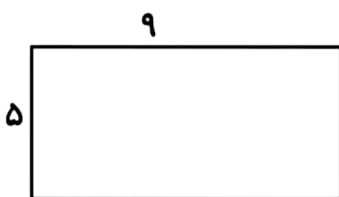
$$24 \div \square = 8$$

$$\begin{array}{r} 69 \\ | \\ \hline 7 \end{array}$$

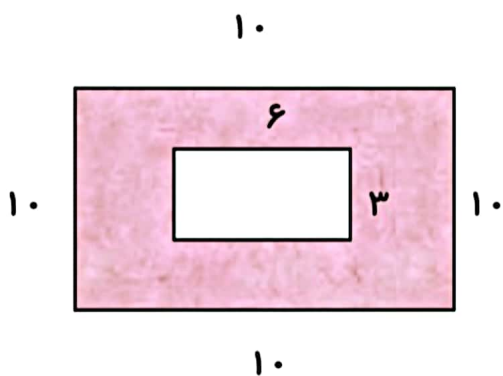
$$\begin{array}{r} 85 \\ | \\ \hline 9 \end{array}$$

۸- محیط یک مثلث متساوی الاضلاع ۲۷ سانتی متر است . اندازه ی هر ضلع آن را به دست آورید .

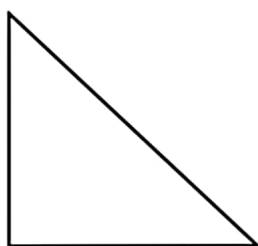
۹- محیط شکل های زیر را بدست آورید .



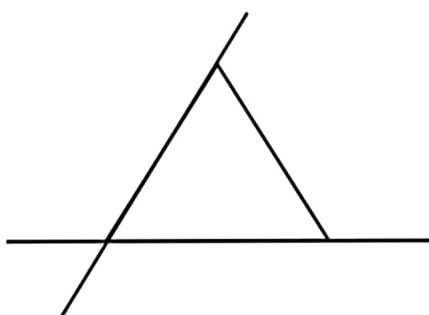
۱۰ - مساحت قسمت رنگ شده را بدست آورید .



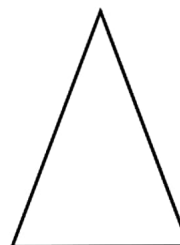
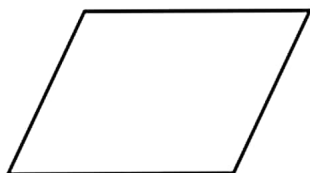
۱۱ - زاویه ها را در شکل زیر مشخص کنید و نام آن را بنویسید .



۱۲ - در شکل زیر چند پاره خط و چند نیم خط وجود دارد ؟



۱۳ - خط های موازی را در شکل های زیر ، هم رنگ کنید .



۱۴ - یک دایره به قطر ۶ سانتی متر رسم کنید و به سوالات زیر پاسخ دهید .

الف (بهترین وسیله برای رسم دایره نام دارد .

ب (هر دایره چند شعاع و چند مرکز دارد ؟

ج (برای رسم دایره ی بالا ، دهانه پرگار را چند سانتی متر باز کردید ؟

۱۵ - به اطلاعات جدول زیر توجه کنید و به سوالات زیر پاسخ دهید .

۱	۲	۳	۴	۵	۶	۷	۸	۹	۱۰
سبز	زرد	سبز	قرمز	زرد	سبز	قرمز	قرمز	زرد	قرمز

الف (چه کسری از چرخنده قرمز است ؟

ب (چه کسری از آزمایش سبز است ؟

ج (کسر $\frac{۴}{۱۰}$ مربوط به کدام رنگ در جدول است ؟



۱۶ - کسر مساوی زیر را با رسم شکل بدست آورید .

$$\frac{۲}{۵} = \text{---}$$

۱۷ - نازنین یک باغچه را به ۲ قسمت مساوی تقسیم کرد و در یک قسمت آن گل بنفشه کاشت ، قسمت دیگر را به ۳

قسمت مساوی تقسیم کرد و در یک قسمت آفتابگردان کاشت .

الف (نازنین چه کسری از باغچه را بنفشه کاشته است ؟

ب (چه کسری از زمین خالی مانده ؟

ج (چه کسری از زمین گل کاری شده است ؟

دختر بهاری من

موفق باشید .