



نام و نام خانوادگی

تاریخ

موضوع:

کاربرگ آموزشی ضرب عدد ۶

هدف:

۱- برای هر جمع یک ضرب بنویسید.

$$۶+۶+۶+۶+۶=$$

$$۶+۶+۶=$$


$$۶+۶+۶+۶+۶+۶=$$

$$۶+۶+۶+۶+۶+۶+۶+۶=$$

۲- برای الگوی زیر ضرب بنویسید.

۶، ۱۲، ۱۸، ۲۴، ۳۰، ۳۶، ۴۲

۳- برای شکل‌های زیر ۲ ضرب بنویسید.



۴- برای ارقام زیر ۲ ضرب بنویسید.



۵- مقایسه کنید. < = >

$$۴ \times ۶ \square ۶ \times ۹$$

$$۷ \times ۶ \square ۶ \times ۴$$

$$۶ \times ۳ \square ۵ \times ۶$$

$$۶ \times ۵ \square ۸ \times ۶$$

بازخورد:

Four horizontal lines for writing feedback.





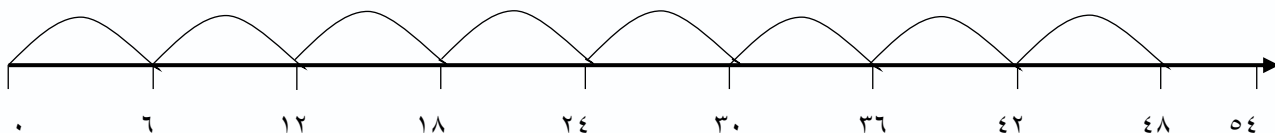
نام و نام خانوادگی

تاریخ

موضوع: کاربرد آموزشی ضرب عدد ۶


هدف:

۶- برای محور های زیر ضرب بنویسید.




۷- برای ضرب های زیر محور بکشید.

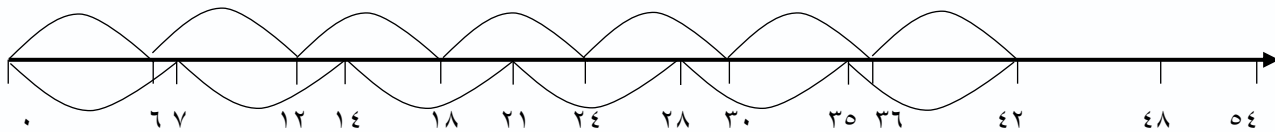
$4 \times 6 =$



$6 \times 6 =$



۸- برای محور های زیر یک تساوی ضرب بنویسید.



۹- ۶ کارتن دستمال کاغذی داریم که در هر کارتن آن ۸ ردیف دستمال کاغذی وجود دارد. در این کارتن چند دستمال کاغذی وجود دارد؟

بازخورد:

Handwritten feedback area with a dashed border and horizontal lines.





کاربرگ آموزشی ضرب عدد ۶

موضوع:

تاریخ

نام و نام خانوادگی

هدف:

۱۰- برای ضرب زیر یک مسأله بسازید.

$$6 \times 7 =$$

۱۱- حاصل عبارت‌های زیر را به دست آورید.

$$(4 \times 6) + (3 \times 6) =$$

$$(9 \times 6) =$$

۱۲- جاهای خالی را کامل کنید.

$$7 \times 6 = 6 \times \bigcirc$$

$$6 \times \bigcirc = 8 \times \bigcirc$$

$$6 + 6 + 6 + 6 + 6 + 6 = \bigcirc \times \bigcirc$$

$$6 \times \bigcirc = 54$$

بازخورد:





کاربرگ آموزشی ضرب عدد ۷

موضوع:

تاریخ

نام و نام خانوادگی

هدف:

۱- برای هر جمع یک ضرب بنویسید.

$$7+7+7+7+7=$$

$$7+7+7=$$


$$7+7+7+7+7+7+7=$$

$$7+7+7+7+7+7+7+7+7=$$

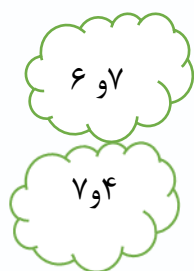
۲- برای الگوی زیر ضرب بنویسید.

۷، ۱۴، ۲۱، ۲۸، ۳۵، ۴۲، ۴۹، ۵۶

۳- برای شکل‌های زیر ۲ ضرب بنویسید.



۴- برای ارقام زیر ۲ ضرب بنویسید.



۵- مقایسه کنید. < = >

$$3 \times 7 \square 4 \times 7$$

$$7 \times 2 \square 5 \times 7$$

$$7 \times 7 \square 6 \times 7$$

$$8 \times 7 \square 7 \times 8$$

بازخورد:

Handwriting practice area with four horizontal lines.





نام و نام خانوادگی

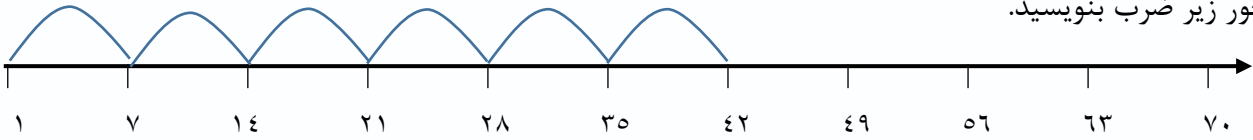
تاریخ

موضوع:

کاربرگ آموزشی ضرب عدد ۷

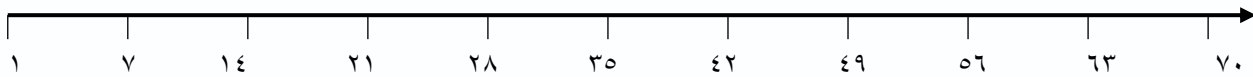
هدف:

۶- برای محور زیر ضرب بنویسید.

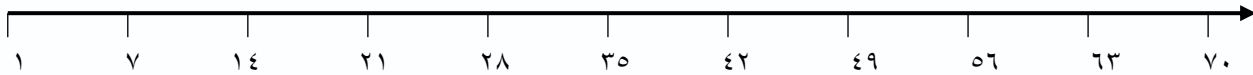


۷- برای ضرب های زیر محور بکشید.

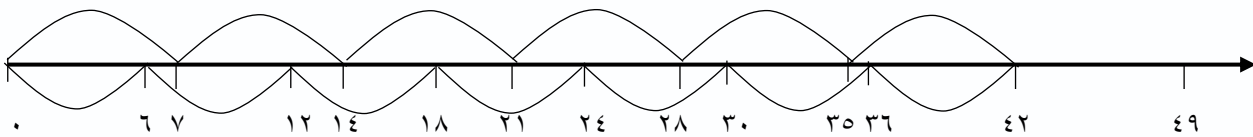
$$4 \times 7 =$$



$$7 \times 7 =$$



۸- برای محور های زیر یک تساوی ضرب بنویسید.



۹- یک هفته ۷ روز است. چهار هفته چند روز است؟

بازخورد:

Handwriting practice area with a dashed border and horizontal lines.





نام و نام خانوادگی

تاریخ

موضوع:

کاربرگ آموزشی ضرب عدد ۷

هدف:

۱۰- برای ضرب زیر یک مسأله بسازید.

$$7 \times 5 =$$

۱۱- حاصل عبارتهای زیر را به دست آورید.

$$(7 \times 6) + (7 \times 2) =$$

$$(7 \times 9) =$$

۱۲- جاهای خالی را کامل کنید.

$$7 \times 9 = 9 \times \bigcirc$$

$$7 \times \bigcirc = 6 \times \bigcirc$$

$$7 + 7 + 7 + 7 + 7 + 7 + 7 + 7 = \bigcirc \times \bigcirc$$

$$7 \times \bigcirc = 35$$

بازخورد:

Handwritten feedback area with four horizontal lines.





نام و نام خانوادگی

تاریخ

موضوع:

کاربرد آموزش ضرب عدد ۸

هدف:


۱- برای هر جمع یک ضرب بنویسید.

$8+8+8+8+8+8=$
 $8+8+8+8+8=$
 $8+8+8+8+8+8+8+8=$
 $8+8+8+8=$

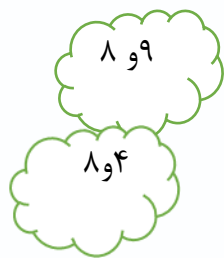
۲- برای الگوی زیر ضرب بنویسید.

۸، ۱۶، ۲۴، ۳۲، ۴۰، ۴۸، ۵۶

۳- برای شکل‌های زیر ۲ ضرب بنویسید



۴- برای ارقام زیر ۲ ضرب بنویسید.



۵- مقایسه کنید. $< = >$

6×8 8×6
 8×4 3×8
 8×5 8×7
 9×8 2×8

بازخورد:

Handwriting practice area with a dashed border and horizontal lines.





نام و نام خانوادگی

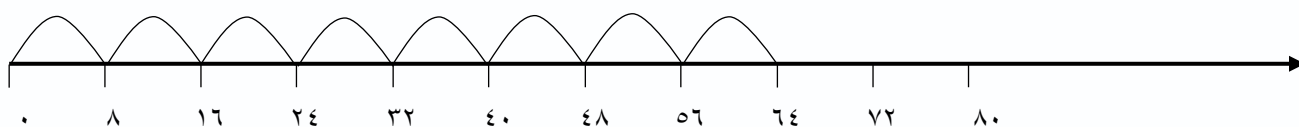
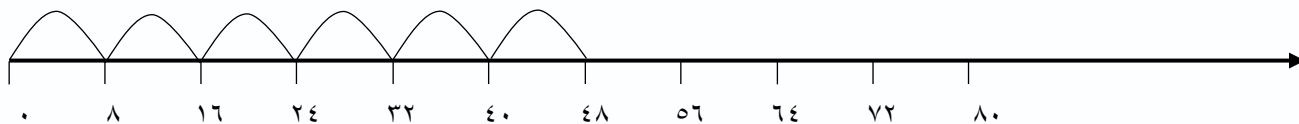
تاریخ

موضوع:

کاربرگ آموزشی ضرب عدد ۸

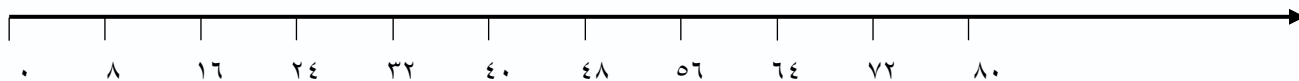
هدف:

۶- برای محور های زیر ضرب بنویسید.

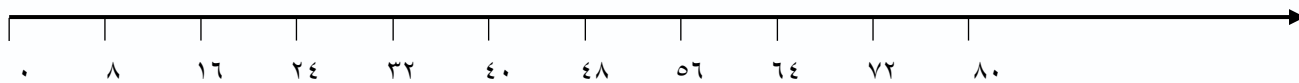


۷- برای ضرب های زیر محور بکشید.

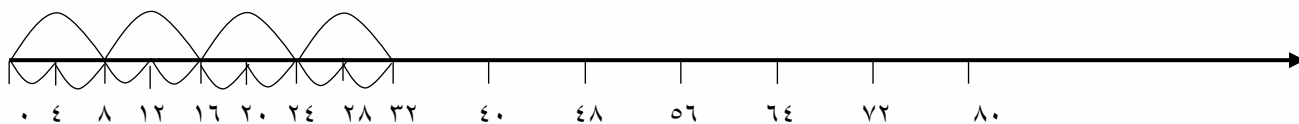
$7 \times 8 =$



$9 \times 8 =$



۸- برای محور زیر یک تساوی ضرب بنویسید.



بازخورد:

Four horizontal lines for writing feedback.





کاربرگ آموزشی ضرب عدد ۸

موضوع: تاریخ نام و نام خانوادگی

هدف:

۹- مادر سارا ۸ مهمان داشت . او در بشقاب هر مهمان ۴ میوه گذاشته است . مادر سارا برای مهمان ها چند میوه گذاشته است؟

۱۰- برای ضرب زیر یک مسأله بسازید.

$$۸ \times ۶ =$$

۱۱- حاصل عبارت‌های زیر را به دست آورید.

$$(۲ \times ۸) + (۶ \times ۸) =$$

$$(۸ \times ۴) + (۸ \times ۲) =$$

۱۲- جاهای خالی را کامل کنید.

$$۸ \times ۵ = \bigcirc$$

$$۹ \times \bigcirc = ۸ \times \bigcirc$$

$$۸ + ۸ + ۸ + ۸ + ۸ = \bigcirc \times \bigcirc$$

$$۸ \times \bigcirc = ۴۸$$

بازخورد:

Handwritten feedback area with dashed border and horizontal lines.





نام و نام خانوادگی

تاریخ

موضوع:

کاربرگ آموزشی ضرب عدد ۹

هدف:

۱- برای هر جمع یک ضرب بنویسید.

$$9+9+9+9+9+9=$$

$$9+9+9=$$


$$9+9+9+9+9=$$

$$9+9+9+9+9+9+9=$$

۲- برای الگوی زیر ضرب بنویسید.

۹، ۱۸، ۲۷، ۳۶، ۴۵، ۶۳، ۷۲، ۸۱

۳- برای شکل‌های زیر ۲ ضرب بنویسید.



۴- برای ارقام زیر ۲ ضرب بنویسید.



۵- مقایسه کنید. < = >

$$9 \times 5 \square 6 \times 9$$

$$3 \times 9 \square 9 \times 2$$

$$6 \times 9 \square 9 \times 6$$

$$5 \times 9 \square 4 \times 9$$

بازخورد:

Handwriting practice area with four horizontal lines.





نام و نام خانوادگی

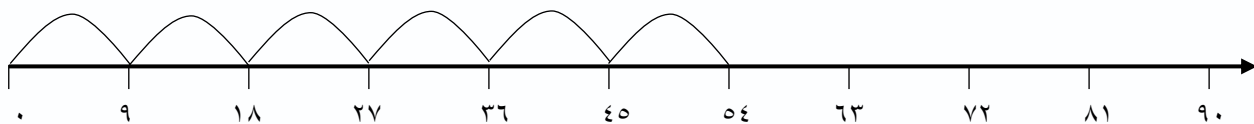
تاریخ

موضوع:

کاربرگ آموزشی ضرب عدد ۹

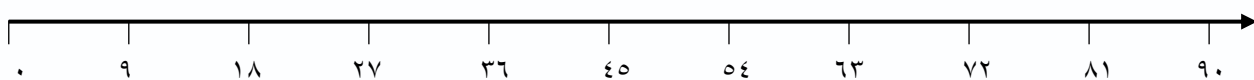
هدف:

۶- برای محور زیر ضرب بنویسید.

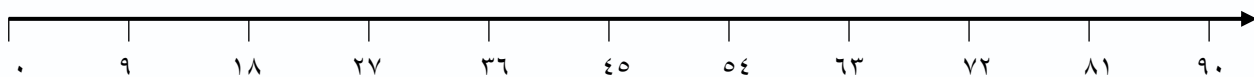


۷- برای ضرب های زیر محور بکشید.

$$7 \times 9 =$$



$$5 \times 9 =$$



۸- برای محور زیر یک تساوی ضرب بنویسید.



بازخورد:

Handwriting practice area with a dashed orange border and four horizontal lines for writing.





کاربرگ آموزشی ضرب عدد ۹

موضوع:

تاریخ

نام و نام خانوادگی

هدف:

۹- اگر قیمت یک پاک کن ۹ تومان باشد. قیمت ۷ پاک کن چند تومان است؟

۱۰- برای ضرب زیر یک مسأله بسازید.

$$9 \times 8 =$$

۱۱- حاصل عبارت‌های زیر را به دست آورید.

$$(6 \times 9) + (3 \times 9) =$$

$$(9 \times 6) =$$

۱۲- جاهای خالی را کامل کنید.

$$7 \times 9 = 9 \times \bigcirc$$

$$9 \times \bigcirc = 8 \times \bigcirc$$

$$9 + 9 + 9 + 9 + 9 + 9 = \bigcirc \times \bigcirc$$

$$9 \times \bigcirc = 36$$

بازخورد:

Four horizontal lines for writing feedback.





آشنایی با محیط

موضوع:

تاریخ

نام و نام خانوادگی

هدف:

۱. عزیزانم محیط شکل های زیر را با استفاده از روش جمع و ضرب پیدا کنید.

۸ سانتی متر



روش ضرب :

روش جمع :

۹ سانتی متر



روش ضرب :

روش جمع :

۴ سانتی متر



روش ضرب :

روش جمع :


۳ سانتی متر



روش ضرب :

روش جمع :

۷ سانتی متر



روش ضرب :

روش جمع :

۶ سانتی متر



روش ضرب :


روش جمع :

بازخورد:

.....

.....

.....



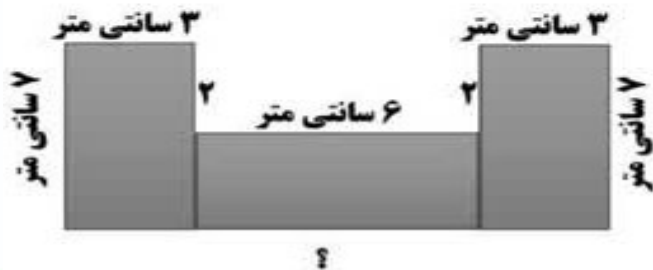
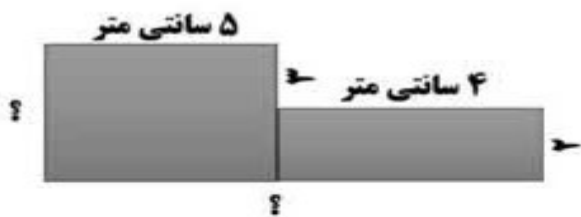
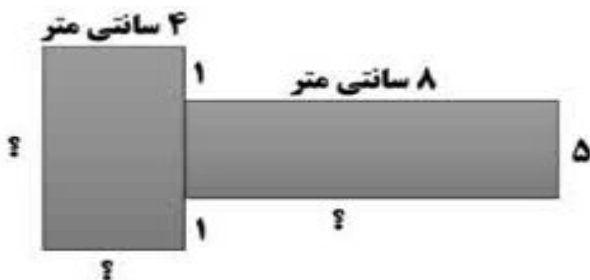


نام و نام خانوادگی: _____ تاریخ: _____ موضوع: _____ هدف: _____

۲. عزیزانم محیط شکل های زیر را بدست آورید.



۳. نازنینم با توجه به اندازه ضلع های داده شده ، طول ضلع های نامشخص را پیدا کنید و با نوشتن جمع محیط هر شکل را پیدا کنید.



بازخور

