


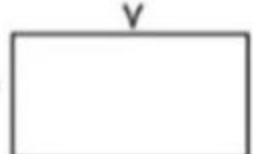
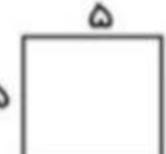
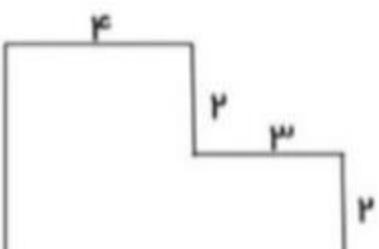




۱- محیط مربعی ۲۰ سانتی متر است .  
اندازه ی یک ضلع آن چند سانتی متر است ؟

<p>۱ علی ۱۲ عکس ماشین دارد. برادرش ۶ عکس ماشین کمتر از او دارد. این دو برادر روی هم چند عکس ماشین دارند؟</p>
<p>۲ این شکل ها را نام گذاری کنید و نام هر شکل را زیر آن بنویسید.</p> <div style="display: flex; justify-content: space-around; align-items: center;">    </div>
<p>۳ محیط و مساحت شکل های زیر را حساب کنید.</p> <div style="display: flex; justify-content: space-around; align-items: center;"> <div style="text-align: center;">  <p>محیط:</p> </div> <div style="text-align: center;">  <p>محیط:</p> </div> </div>
<p>۴ ابتدا اندازه ی ضلع هایی را که داده نشده است، پیدا کنید. سپس ، محیط ، مساحت شکل را به دست آورید.</p> <div style="display: flex; justify-content: center; align-items: center;">  <p>محیط:</p> </div>