



موضوع:

تاریخ:

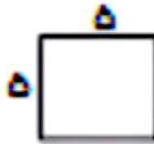
نام و نام خانوادگی:

هدف:

محیط و مساحت شکل های زیر را حساب کنید

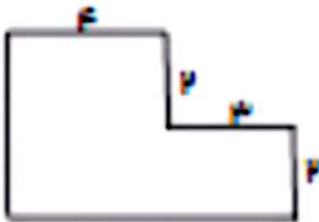


محیط:
مساحت:



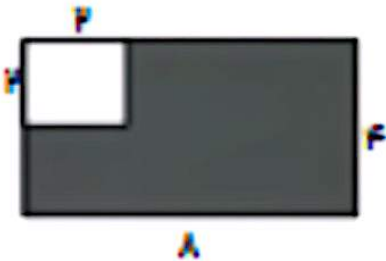
محیط:
مساحت:

ابتدا اندازه ی ضلع هایی را که داده شده است، پیدا کنید سپس ، محیط و مساحت شکل را به دست آورید




محیط:
مساحت:

مساحت قسمت رنگی شکل زیر را به دست آورید



بازخورد:





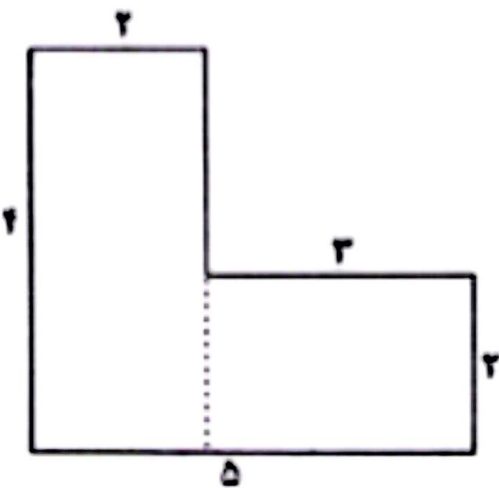
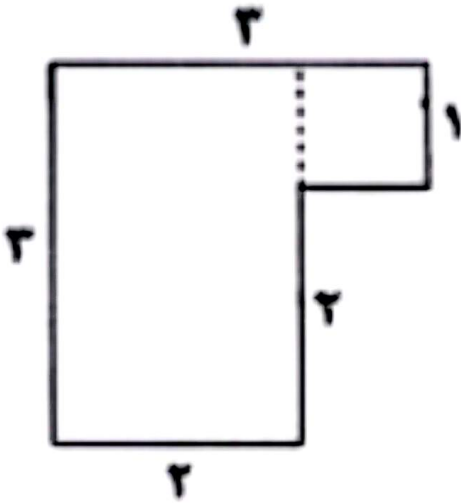
موضوع:

تاریخ:

نام و نام خانوادگی:

هدف:

مساحت هر یک از این شکلها را محاسبه کنید.



بازخورد:

Feedback box with a dashed border.

