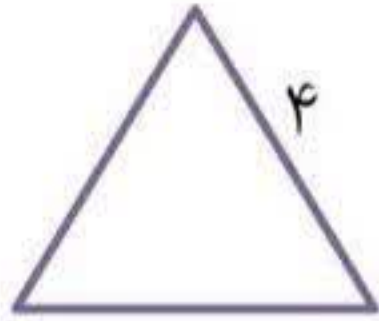
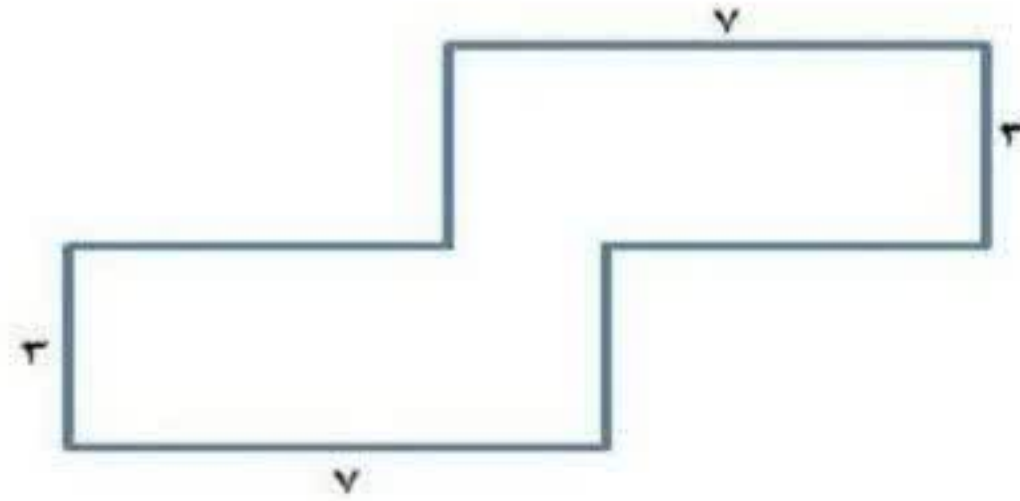
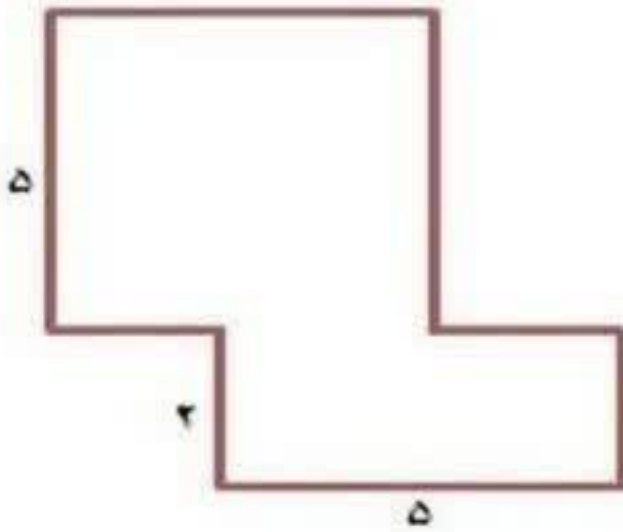


محیط شکل های زیر را با کمک ضرب بدست آورید.



مساحت شکل های زیر را بدست آورید. (واحد ها به متر هستند)



مساحت یک فرش ۱۲ متر مربع است. اگر عرض این فرش ۳ متر باشد، طول آن چند متر است؟

طول یک سالن ورزشی دو برابر عرض آن است اگر عرض آن ۱۰ باشد، مساحت سالن چند متر مربع است؟

یک استخر مربع شکل که اندازه یک ضلع آن ۷ متر است داریم. اگر بخواهیم دور تا دور این استخر را زرده بکشیم چند متر زرده باید بکشیم؟

بازخورد آموزگار:

