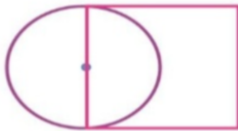




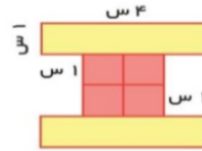
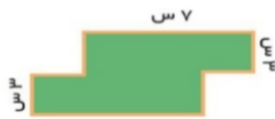
نام و نام خانوادگی: _____ تاریخ: _____ موضوع: _____ هدف: _____

۶- اگر شعاع دایره ۳ سانتی متر باشد، مساحت مربع چند سانتی متر مربع می شود؟

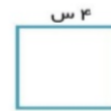


۷- اگر ضلع مربعی را دو برابر کنیم محیط آن چند برابر می شود؟

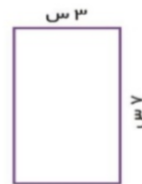
۸- محیط شکل های زیر را بدست آورید.



۹- محیط کدام یک از شکل ها از بقیه بیشتر است؟



۱۰- با توجه به اندازه های داده شده محیط و مساحت شکل های زیر را به دست آورید و در جدول بنویسید.



(۱)

(۲)

۴	۳	۲	۱	
				محیط
				مساحت

بازخورد:

