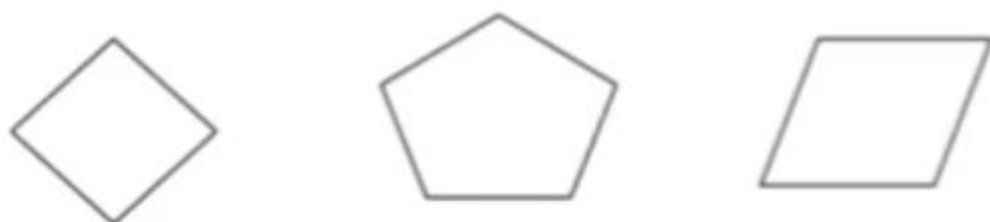




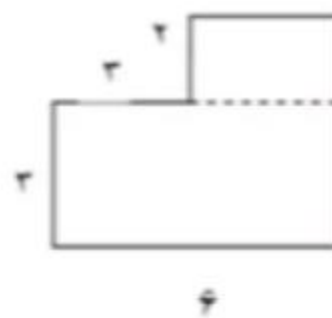
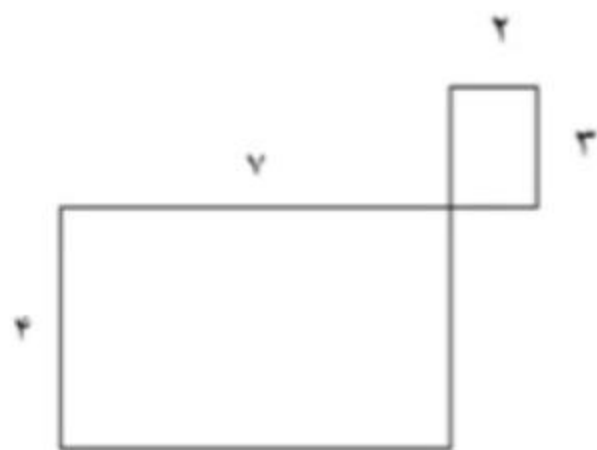
نام و نام خانوادگی: \_\_\_\_\_ تاریخ: \_\_\_\_\_ موضوع: \_\_\_\_\_ هدف: \_\_\_\_\_

۱- قطرهای شکل های زیر را رسم کن.



۲- مادر مریم ، می خواهد دور یک رومیزی را تور بدوزد. اگر این میز به شکل مربع باشد و هر ضلع این مربع ۳متر باشد. چه قدر تور لازم دارد تا دور این رومیزی بدوزد؟

۳- مساحت شکل های زیر را به دست آورید.



۴- به دور هر شکل ..... آن شکل می گویند.

بازخورد:

\_\_\_\_\_

\_\_\_\_\_

\_\_\_\_\_

\_\_\_\_\_

